

VERHAAL S  MMEN

MIJN TAFEL  DIPL  MA



Tafelboekje van:

Verhaaltjessommen



Lees de verhaaltjes en reken de sommen uit.
Maak een tekening bij de som of schrijf de som op.

1. In een pak zitten 8 plakjes kaas.

Hoeveel plakjes zitten er in 6 pakken? _____ plakjes

2. De boekhandel verkoopt 4 agenda's van €8 per stuk.

Hoeveel euro is dat in totaal? _____ euro

3. In een zak zitten 8 bloembollen.

Hoeveel bloembollen zitten er in 9 zakken? _____ bloembollen

4. In een zakje zitten 8 snoepjes.

Hoeveel snoepjes zitten er in 5 zakjes? _____ snoepjes

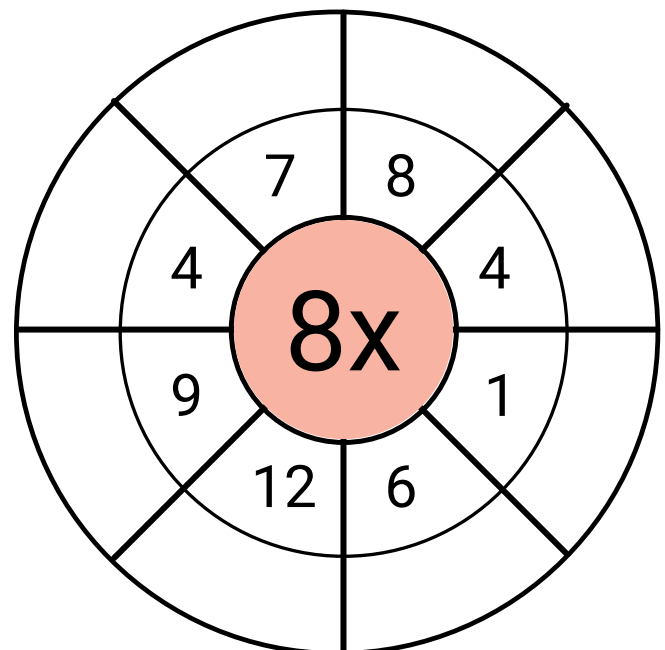
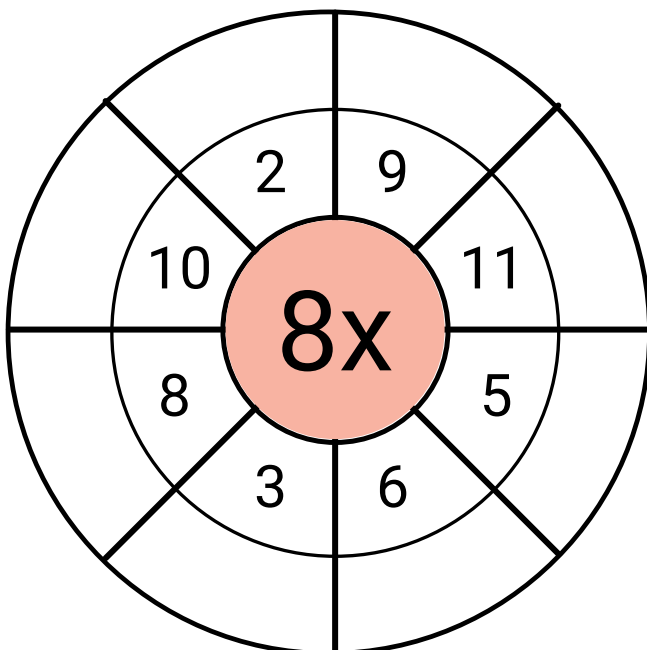
Geheime tekening

7x8	8x8	9x8	7x8	7x8	8x8	9x8	7x8	8x8	9x8
9x8	3x8	4x8	8x8	8x8	7x8	7x8	6x8	4x8	9x8
5x8	6x8	7x8	9x8	8x8	9x8	7x8	8x8	3x8	5x8
3x8	4x8	6x8	8x8	7x8	8x8	8x8	4x8	6x8	3x8
6x8	5x8	8x8	0x8	9x8	7x8	1x8	8x8	5x8	5x8
10x8	4x8	12x8	5x8	10x8	11x8	6x8	10x8	3x8	10x8
11x8	12x8	3x8	6x8	4x8	6x8	3x8	5x8	12x8	12x8
5x8	3x8	6x8	4x8	2x8	1x8	4x8	6x8	3x8	5x8
4x8	12x8	5x8	3x8	6x8	6x8	3x8	5x8	11x8	4x8
12x8	3x8	10x8	6x8	11x8	11x8	5x8	10x8	4x8	10x8

Antwoord	Kleur
0 tot en met 20	zwart
21 tot en met 50	rood
51 tot en met 75	lichtblauw
76 tot en met 100	lichtbruin



Tafel van 8 rad



De tafel van 8



Reken de sommen uit.

$1 \times 8 =$

$2 \times 8 =$

$3 \times 8 =$

$4 \times 8 =$

$5 \times 8 =$

$6 \times 8 =$

$7 \times 8 =$

$8 \times 8 =$

$9 \times 8 =$

$10 \times 8 =$

$3 \times 8 =$

$2 \times 8 =$

$8 \times 8 =$

$7 \times 8 =$

$7 \times 8 =$

$1 \times 8 =$

$4 \times 8 =$

$10 \times 8 =$

$5 \times 8 =$

$7 \times 8 =$

$1 \times 8 =$

$9 \times 8 =$

$2 \times 8 =$

$8 \times 8 =$

$3 \times 8 =$

$7 \times 8 =$

$4 \times 8 =$

$6 \times 8 =$

$5 \times 8 =$

$5 \times 8 =$

$2 \times 8 =$

$9 \times 8 =$

$8 \times 8 =$

$8 \times 8 =$

$1 \times 8 =$

$5 \times 8 =$

$5 \times 8 =$

$7 \times 8 =$

$6 \times 8 =$

$3 \times 8 =$

$6 \times 8 =$

$3 \times 8 =$

$7 \times 8 =$

$4 \times 8 =$

$8 \times 8 =$

Klaar? Oefen 10 verhaaltjessommen op www.verhaalsommen.nl

Daarna mag je als beloning een rekenspelletje spelen!

Rekenzoeker



Zoek en omcirkel keersommen van de tafel van 8.
Schrijf ze in de tabel.

2	40	12	6	24	8	12	9
1 x 8 = 8			35	2	0	8	8
6	5	7	3	8	24	96	72
10	8	80	72	16	4	32	64
12	7	10	64	8	8	64	80
48	8	6	24	30	12	88	96
16	56	3	2	60	4	8	32
24	8	5	8	12	8	11	3

1 x 8 = 8	

Kleurplaat tafel van 8

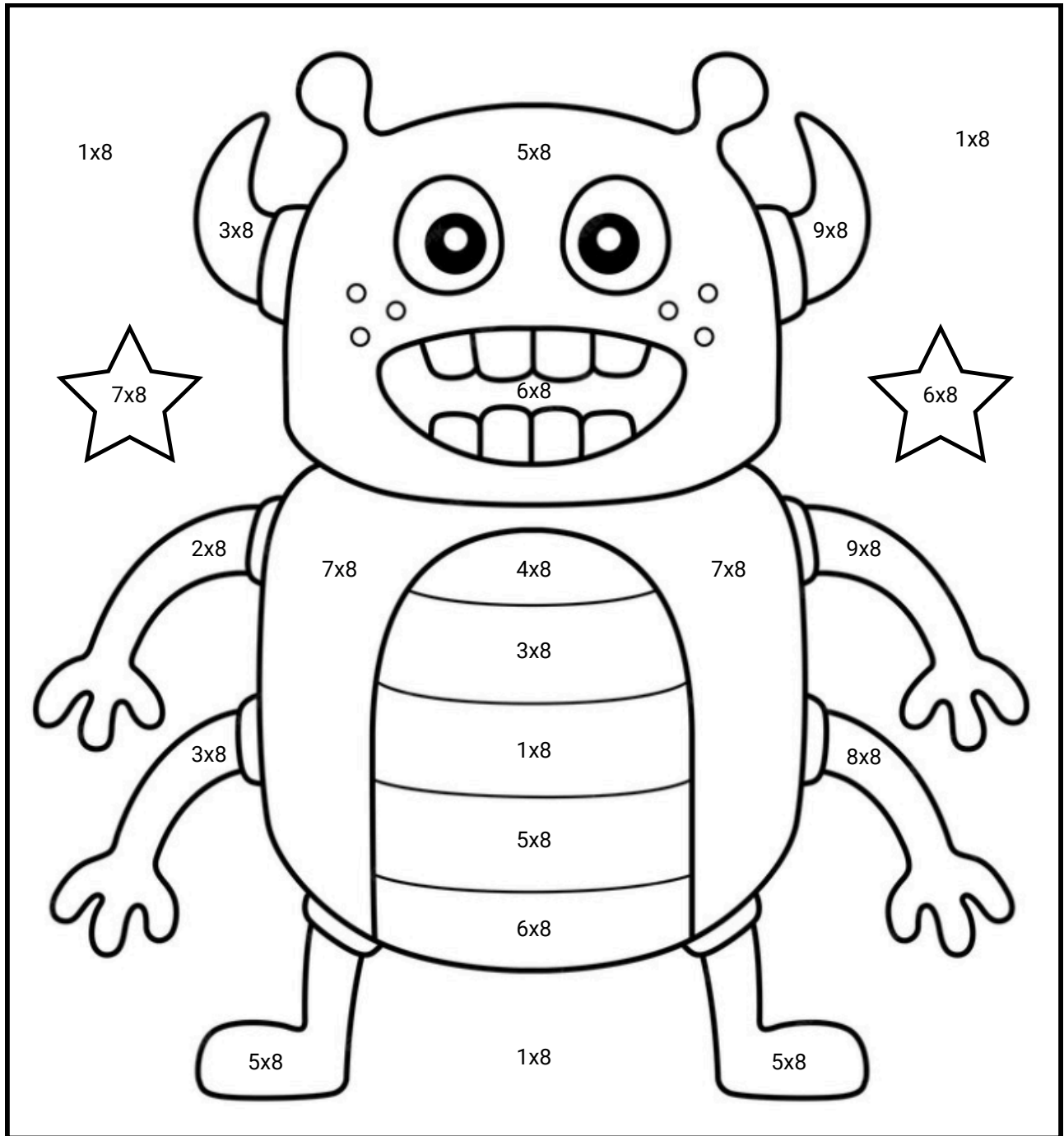


Welke kleur hoort bij het antwoord?

Reken uit en kleur in. Ben je klaar?

Ga dan naar www.verhaalsommen.nl


Speel het leuke rekenspelletje **Sommen en kleuren!**



Reken uit

Hoeveel samen?

Schrijf de keersom en het antwoord op.



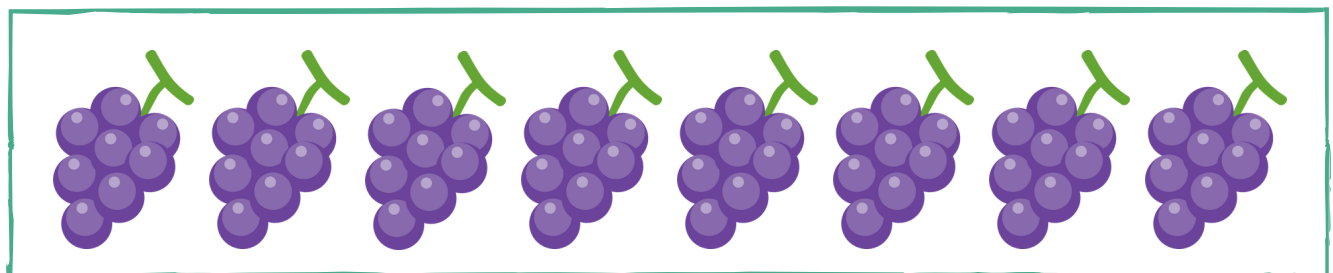
Keersom: $4 \times 8 =$ _____

Antwoord: _____ stiften



Keersom: _____

Antwoord: _____ kralen



Keersom: _____

Antwoord: _____ druiven

Klaar? Oefen 10 verhaaltjessommen op www.verhaalsommen.nl


Daarna mag je als beloning een rekenspelletje spelen!

Vul de tabel in



Vul de tabel in.

Denk aan de tafel van 8.



Spin	1	2	4	6
Poten	8			



Pizza	1	3	5	7
Punten	8			

Reken uit

$2 \times 8 =$

$5 \times 8 =$

$6 \times 8 =$

$9 \times 8 =$

$4 \times 8 =$

$3 \times 8 =$

$8 \times 8 =$

$7 \times 8 =$

$7 \times 8 =$

$8 \times 8 =$

$6 \times 8 =$

$4 \times 8 =$

$1 \times 8 =$

$3 \times 8 =$

$8 \times 8 =$

Klaar? Oefen 10 verhaaltjessommen op www.verhaalsommen.nl

Daarna mag je als beloning een rekenspelletje spelen!

Doolhof



Kleur de keersommen die goed zijn.
Vind zo een weg door het doolhof.

$0 \times 8 = 8$	$1 \times 8 = 8$	$11 \times 8 = 81$	$10 \times 8 = 8$	$5 \times 8 = 35$	$12 \times 8 = 88$
$2 \times 8 = 18$	$3 \times 8 = 24$	$5 \times 8 = 40$	$3 \times 8 = 26$	$6 \times 8 = 49$	$5 \times 8 = 48$
$6 \times 8 = 49$	$7 \times 8 = 58$	$7 \times 8 = 56$	$9 \times 8 = 72$	$7 \times 8 = 54$	$1 \times 8 = 1$
$7 \times 8 = 53$	$5 \times 8 = 41$	$8 \times 8 = 88$	$11 \times 8 = 88$	$2 \times 8 = 16$	$3 \times 8 = 32$
$3 \times 8 = 12$	$1 \times 8 = 0$	$3 \times 8 = 26$	$9 \times 8 = 76$	$4 \times 8 = 32$	$6 \times 8 = 48$
$1 \times 8 = 8$	$3 \times 8 = 24$	$5 \times 8 = 40$	$3 \times 8 = 15$	$8 \times 8 = 68$	$8 \times 8 = 64$
$11 \times 8 = 88$	$12 \times 8 = 92$	$7 \times 8 = 56$	$9 \times 8 = 72$	$12 \times 8 = 96$	$10 \times 8 = 80$
$9 \times 8 = 72$	$3 \times 8 = 21$	$4 \times 8 = 31$	$7 \times 8 = 57$	$8 \times 8 = 63$	$6 \times 8 = 47$
$1 \times 8 = 8$	$6 \times 8 = 46$	$3 \times 8 = 24$	$4 \times 8 = 32$	$6 \times 8 = 48$	$11 \times 8 = 81$
$8 \times 8 = 64$	$2 \times 8 = 16$	$7 \times 8 = 56$	$12 \times 8 = 92$	$5 \times 8 = 40$	$11 \times 8 = 88$
$11 \times 8 = 87$	$3 \times 8 = 21$	$6 \times 8 = 42$	$5 \times 8 = 35$	$5 \times 8 = 42$	$1 \times 8 = 8$
$3 \times 8 = 24$	$6 \times 8 = 48$	$4 \times 8 = 32$	$5 \times 8 = 40$	$9 \times 8 = 72$	$12 \times 8 = 96$
$7 \times 8 = 56$	$6 \times 8 = 49$	$10 \times 8 = 8$	$7 \times 8 = 54$	$6 \times 8 = 49$	$4 \times 8 = 34$
$2 \times 8 = 16$	$8 \times 8 = 64$	$11 \times 8 = 88$	$9 \times 8 = 72$	$12 \times 8 = 96$	$2 \times 8 = 18$

Ind

Teken het verhaal

Bedenk een verhaal bij de som en reken de som uit.

Je mag het verhaal tekenen of schrijven.



$$5 \times 8 =$$

$$7 \times 8 =$$

$$8 \times 8 =$$

$$4 \times 8 =$$

Klaar? Oefen 10 verhaaltjessommen op www.verhaalsommen.nl

Daarna mag je als beloning een rekenspelletje spelen!

Tafel tijd

Zet een timer op 2 minuten.
Hoeveel sommen kan jij maken?
Zet een streep tot waar je komt.



$9 \times 8 =$

$5 \times 8 =$

$9 \times 8 =$

$2 \times 8 =$

$2 \times 8 =$

$2 \times 8 =$

$8 \times 8 =$

$9 \times 8 =$

$7 \times 8 =$

$4 \times 8 =$

$8 \times 8 =$

$6 \times 8 =$

$3 \times 8 =$

$7 \times 8 =$

$3 \times 8 =$

$1 \times 8 =$

$3 \times 8 =$

$1 \times 8 =$

$10 \times 8 =$

$5 \times 8 =$

$3 \times 8 =$

$7 \times 8 =$

$10 \times 8 =$

$5 \times 8 =$

$5 \times 8 =$

$6 \times 8 =$

$7 \times 8 =$

$3 \times 8 =$

$7 \times 8 =$

$9 \times 8 =$

$7 \times 8 =$

$2 \times 8 =$

$2 \times 8 =$

$9 \times 8 =$

$3 \times 8 =$

$4 \times 8 =$

$6 \times 8 =$

$4 \times 8 =$

$6 \times 8 =$

$4 \times 8 =$

$5 \times 8 =$

$8 \times 8 =$

$2 \times 8 =$

$6 \times 8 =$

$10 \times 8 =$


Klaar? Oefen 10 verhaaltjessommen op www.verhaalsommen.nl


Daarna mag je als beloning een rekenspelletje spelen!


Vleksommen


Flip heeft inkt geknoeid.


Reken de sommen uit.





 $x 8 = 16$


 $x 8 = 80$


 $x 8 = 88$


 $x 8 = 40$


 $x 8 = 72$


 $x 8 = 56$


 $x 8 = 24$

 $x 8 = 8$

 $x 8 = 48$

 $x 8 = 64$






 $x 8 = 32$

 $x 8 = 96$






Klaar? Oefen 10 verhaaltjessommen op www.verhaalsommen.nl

Daarna mag je als beloning een rekenspelletje spelen!






Tel met sprongen van 8








16



80



104



136

Klaar? Oefen 10 verhaaltjessommen op www.verhaalsommen.nl

Daarna mag je als beloning een rekenspelletje spelen!


Antwoorden



Lees de verhaaltjes en reken de sommen uit.
Maak een tekening bij de som of schrijf de som op.

1. In een pak zitten 8 plakjes kaas.

Hoeveel plakjes zitten er in 6 pakken? 48 plakjes




2. De boekhandel verkoopt 4 agenda's van €8 per stuk.

Hoeveel euro is dat in totaal? 32 euro



3. In een zak zitten 8 bloembollen.

Hoeveel bloembollen zitten er in 9 zakken? 72 bloembollen



4. In een zakje zitten 8 snoepjes.

Hoeveel snoepjes zitten er in 5 zakjes? 40 snoepjes



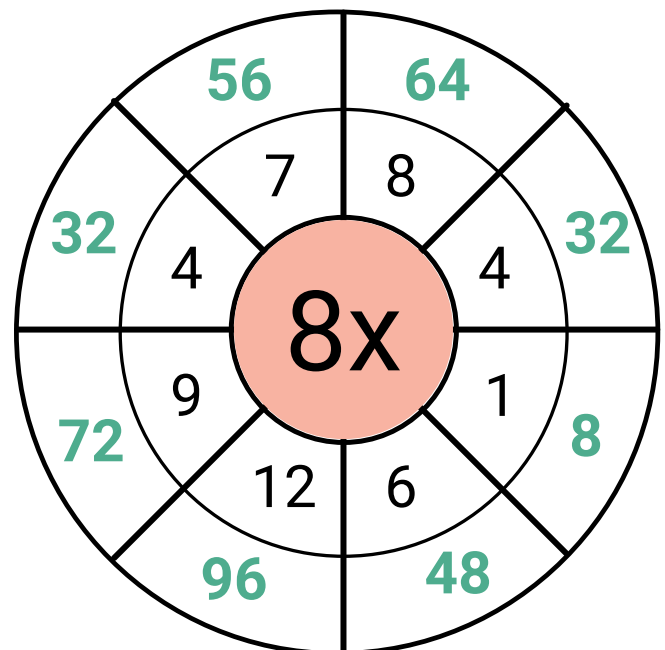
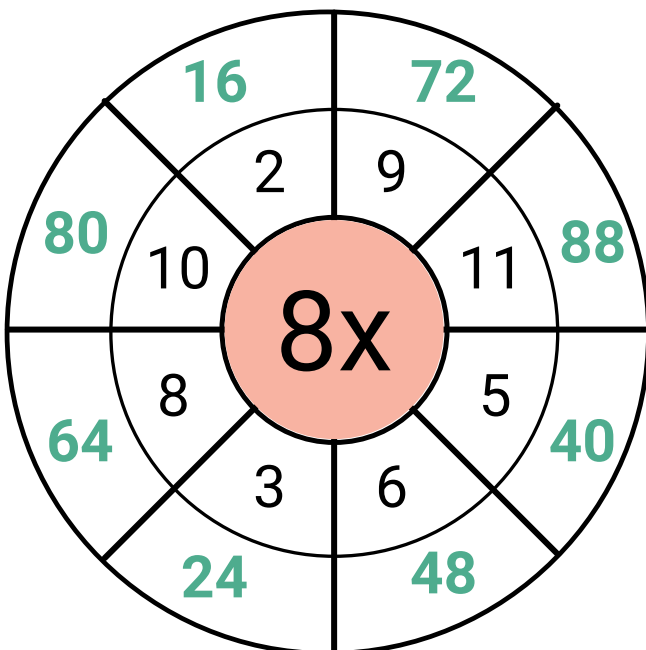
Geheime tekening

7x8	8x8	9x8	7x8	7x8	8x8	9x8	7x8	8x8	9x8
9x8	3x8	4x8	8x8	8x8	7x8	7x8	6x8	4x8	9x8
5x8	6x8	7x8	9x8	8x8	9x8	7x8	8x8	3x8	5x8
3x8	4x8	6x8	8x8	7x8	8x8	8x8	4x8	6x8	3x8
6x8	5x8	8x8	0x8	9x8	7x8	1x8	8x8	5x8	5x8
10x8	4x8	12x8	5x8	10x8	11x8	6x8	10x8	3x8	10x8
11x8	12x8	3x8	6x8	4x8	6x8	3x8	5x8	12x8	12x8
5x8	3x8	6x8	4x8	2x8	1x8	4x8	6x8	3x8	5x8
4x8	12x8	5x8	3x8	6x8	6x8	3x8	5x8	11x8	4x8
12x8	3x8	10x8	6x8	11x8	11x8	5x8	10x8	4x8	10x8

Antwoord	Kleur
0 tot en met 20	zwart
21 tot en met 50	rood
51 tot en met 75	lichtblauw
76 tot en met 100	lichtbruin



Tafel van 8 rad



De tafel van 8

Reken de sommen uit.



$1 \times 8 = 8$

$2 \times 8 = 16$

$3 \times 8 = 24$

$4 \times 8 = 32$

$5 \times 8 = 40$

$6 \times 8 = 48$

$7 \times 8 = 56$

$8 \times 8 = 64$

$9 \times 8 = 72$

$10 \times 8 = 80$

$3 \times 8 = 24$

$2 \times 8 = 16$

$8 \times 8 = 64$

$7 \times 8 = 56$

$7 \times 8 = 56$

$1 \times 8 = 8$

$4 \times 8 = 32$

$10 \times 8 = 80$

$5 \times 8 = 40$

$7 \times 8 = 56$

$1 \times 8 = 8$

$9 \times 8 = 72$

$2 \times 8 = 16$

$8 \times 8 = 64$

$3 \times 8 = 24$

$7 \times 8 = 56$

$4 \times 8 = 32$

$6 \times 8 = 48$

$5 \times 8 = 40$

$5 \times 8 = 40$

$2 \times 8 = 16$

$9 \times 8 = 72$

$8 \times 8 = 64$

$8 \times 8 = 64$

$1 \times 8 = 8$

$5 \times 8 = 40$

$5 \times 8 = 40$

$7 \times 8 = 56$

$6 \times 8 = 48$

$3 \times 8 = 24$

$6 \times 8 = 48$

$3 \times 8 = 24$

$7 \times 8 = 56$

$4 \times 8 = 48$

$8 \times 8 = 64$

Klaar? Oefen 10 verhaaltjessommen op www.verhaalsommen.nl

Daarna mag je als beloning een rekenspelletje spelen!

Rekenzoeker



Zoek en omcirkel keersommen van de tafel van 8.
Schrijf ze in de tabel.

2	40	12	6	24	8	12	9
1	=	8	35	2	0	x	x
6	x	5	7	3	8	=	8
10	x	8	72	16	4	96	72
12	7	10	64	8	8	32	64
48	=	8	24	30	12	88	96
16	56	3	2	60	4	x	8
24	8	5	8	12	8	=	32
						x	11
							3

$1 \times 8 = 8$	$7 \times 8 = 56$
$2 \times 6 = 12$	$8 \times 8 = 64$
$3 \times 8 = 24$	$9 \times 8 = 72$
$4 \times 8 = 32$	$10 \times 8 = 80$
$5 \times 8 = 40$	$11 \times 8 = 88$
$6 \times 8 = 48$	$12 \times 8 = 96$

Kleurplaat tafel van 8

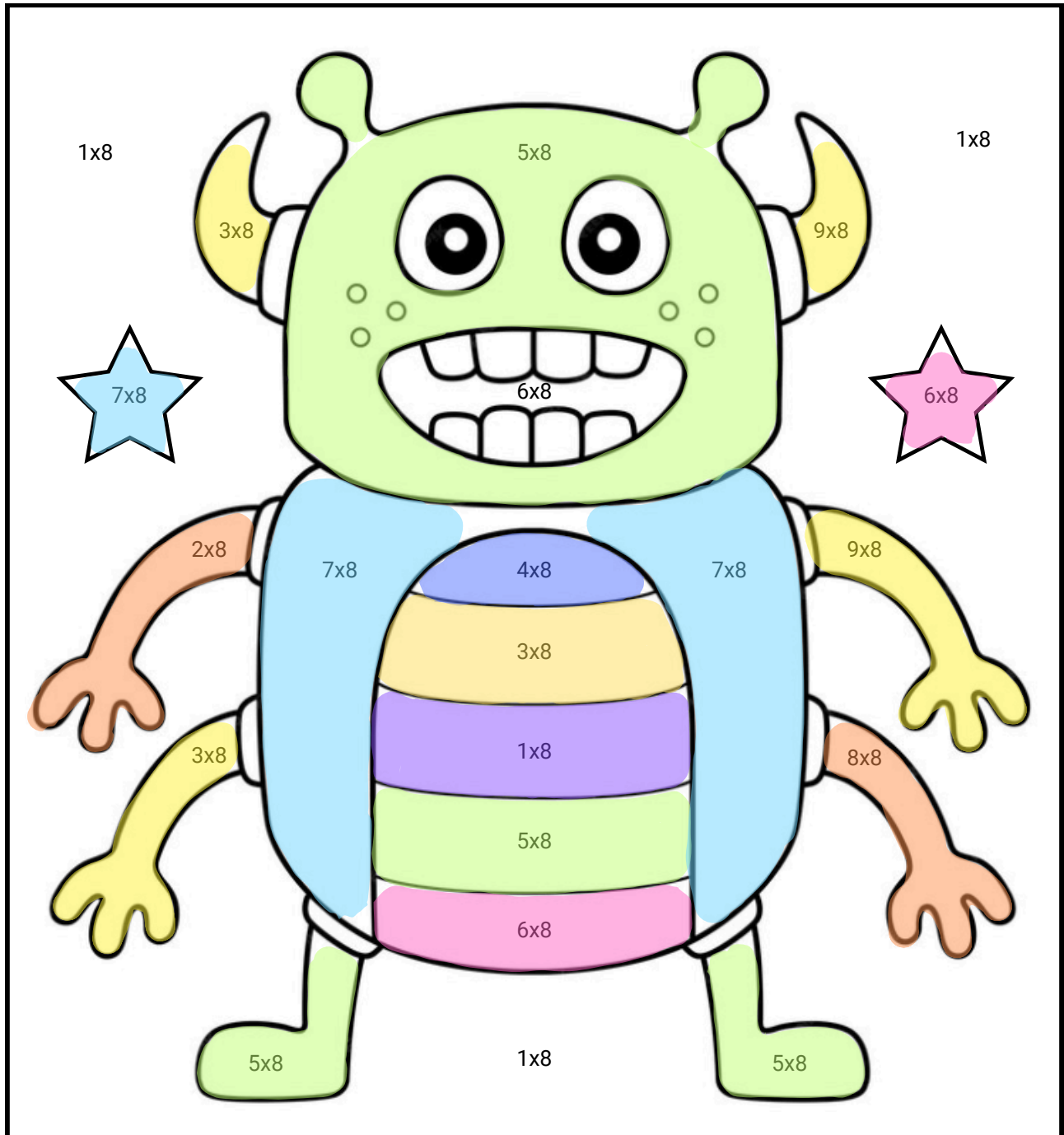


Welke kleur hoort bij het antwoord?

Reken uit en kleur in. Ben je klaar?

Ga dan naar www.verhaalsommen.nl


Speel het leuke rekenspelletje **Sommen en kleuren!**



Reken uit

Hoeveel samen?

Schrijf de keersom en het antwoord op.



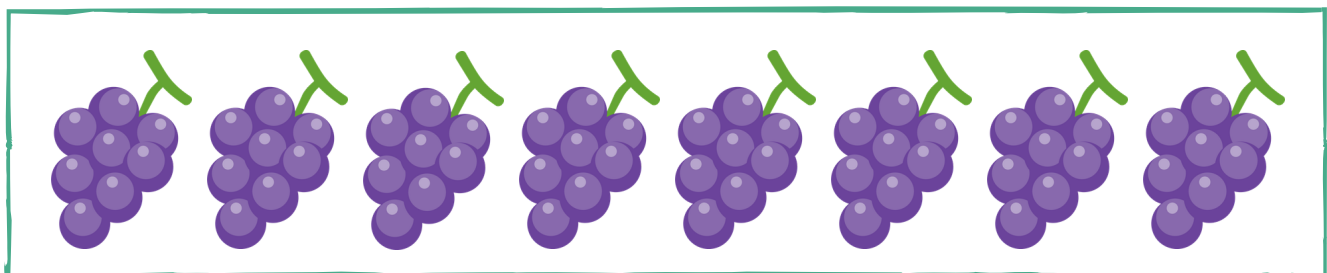
Keersom: $4 \times 8 =$ _____

Antwoord: **32** _____ stiften



Keersom: $6 \times 8 =$ _____

Antwoord: **48** _____ kralen



Keersom: $8 \times 8 =$ _____

Antwoord: **64** _____ druiven

Klaar? Oefen 10 verhaaltjessommen op www.verhaalsommen.nl


Daarna mag je als beloning een rekenspelletje spelen!

Vul de tabel in



Vul de tabel in.

Denk aan de tafel van 8.



Spin	1	2	4	6
Poten	8	16	32	48



Pizza	1	3	5	7
Punten	8	24	40	56

Reken uit

$2 \times 8 = 16$

$5 \times 8 = 40$

$6 \times 8 = 48$

$9 \times 8 = 72$

$4 \times 8 = 32$

$3 \times 8 = 24$

$8 \times 8 = 64$

$7 \times 8 = 56$

$7 \times 8 = 56$

$8 \times 8 = 64$

$6 \times 8 = 48$

$4 \times 8 = 32$

$1 \times 8 = 8$

$3 \times 8 = 24$

$8 \times 8 = 64$

Klaar? Oefen 10 verhaaltjessommen op www.verhaalsommen.nl

Daarna mag je als beloning een rekenspelletje spelen!

Doolhof



Kleur de keersommen die goed zijn.
Vind zo een weg door het doolhof.

$0 \times 8 = 8$	$1 \times 8 = 8$	$11 \times 8 = 81$	$10 \times 8 = 8$	$5 \times 8 = 35$	$12 \times 8 = 88$
$2 \times 8 = 18$	$3 \times 8 = 24$	$5 \times 8 = 40$	$3 \times 8 = 26$	$6 \times 8 = 49$	$5 \times 8 = 48$
$6 \times 8 = 49$	$7 \times 8 = 58$	$7 \times 8 = 56$	$9 \times 8 = 72$	$7 \times 8 = 54$	$1 \times 8 = 1$
$7 \times 8 = 53$	$5 \times 8 = 41$	$8 \times 8 = 88$	$11 \times 8 = 88$	$2 \times 8 = 16$	$3 \times 8 = 32$
$3 \times 8 = 12$	$1 \times 8 = 0$	$3 \times 8 = 26$	$9 \times 8 = 76$	$4 \times 8 = 32$	$6 \times 8 = 48$
$1 \times 8 = 8$	$3 \times 8 = 24$	$5 \times 8 = 40$	$3 \times 8 = 15$	$8 \times 8 = 68$	$8 \times 8 = 64$
$11 \times 8 = 88$	$12 \times 8 = 92$	$7 \times 8 = 56$	$9 \times 8 = 72$	$12 \times 8 = 96$	$10 \times 8 = 80$
$9 \times 8 = 72$	$3 \times 8 = 21$	$4 \times 8 = 31$	$7 \times 8 = 57$	$8 \times 8 = 63$	$6 \times 8 = 47$
$1 \times 8 = 8$	$6 \times 8 = 46$	$3 \times 8 = 24$	$4 \times 8 = 32$	$6 \times 8 = 48$	$11 \times 8 = 81$
$8 \times 8 = 64$	$2 \times 8 = 16$	$7 \times 8 = 56$	$12 \times 8 = 92$	$5 \times 8 = 40$	$11 \times 8 = 88$
$11 \times 8 = 87$	$3 \times 8 = 21$	$6 \times 8 = 42$	$5 \times 8 = 35$	$5 \times 8 = 42$	$1 \times 8 = 8$
$3 \times 8 = 24$	$6 \times 8 = 48$	$4 \times 8 = 32$	$5 \times 8 = 40$	$9 \times 8 = 72$	$12 \times 8 = 96$
$7 \times 8 = 56$	$6 \times 8 = 49$	$10 \times 8 = 8$	$7 \times 8 = 54$	$6 \times 8 = 49$	$4 \times 8 = 34$
$2 \times 8 = 16$	$8 \times 8 = 64$	$11 \times 8 = 88$	$9 \times 8 = 72$	$12 \times 8 = 96$	$2 \times 8 = 18$

Ind

Teken het verhaal



Bedenk een verhaal bij de som en reken de som uit.

Je mag het verhaal tekenen of schrijven.

$$5 \times 8 =$$



$$7 \times 8 =$$



$$8 \times 8 =$$



$$4 \times 8 =$$



Klaar? Oefen 10 verhaaltjessommen op www.verhaalsommen.nl

Daarna mag je als beloning een rekenspelletje spelen!

Tafel tijd

Zet een timer op 2 minuten.
Hoeveel sommen kan jij maken?
Zet een streep tot waar je komt.



$9 \times 8 = 72$

$2 \times 8 = 16$

$8 \times 8 = 64$

$4 \times 8 = 32$

$3 \times 8 = 24$

$5 \times 8 = 40$

$2 \times 8 = 16$

$9 \times 8 = 72$

$8 \times 8 = 64$

$7 \times 8 = 56$

$9 \times 8 = 72$

$2 \times 8 = 16$

$7 \times 8 = 56$

$6 \times 8 = 48$

$3 \times 8 = 24$

$1 \times 8 = 8$

$10 \times 8 = 80$

$7 \times 8 = 56$

$5 \times 8 = 40$

$3 \times 8 = 24$

$3 \times 8 = 24$

$5 \times 8 = 40$

$10 \times 8 = 80$

$6 \times 8 = 48$

$7 \times 8 = 56$

$1 \times 8 = 8$

$3 \times 8 = 24$

$5 \times 8 = 40$

$7 \times 8 = 56$

$9 \times 8 = 72$

$7 \times 8 = 56$

$9 \times 8 = 72$

$6 \times 8 = 48$

$4 \times 8 = 32$

$2 \times 8 = 16$

$2 \times 8 = 16$

$3 \times 8 = 24$

$4 \times 8 = 32$

$5 \times 8 = 40$

$6 \times 8 = 48$

$2 \times 8 = 16$

$4 \times 8 = 32$

$6 \times 8 = 48$

$8 \times 8 = 64$

$10 \times 8 = 80$


Klaar? Oefen 10 verhaaltjessommen op www.verhaalsommen.nl

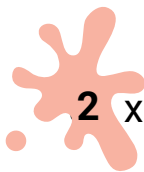
Daarna mag je als beloning een rekenspelletje spelen!


Vleksommen


Flip heeft inkt geknoeid.


Reken de sommen uit.

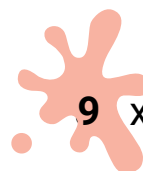



 $2 \times 8 = 16$

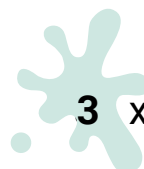
 $10 \times 8 = 80$


 $11 \times 8 = 88$


 $5 \times 8 = 40$


 $9 \times 8 = 72$


 $7 \times 8 = 56$


 $3 \times 8 = 24$

 $1 \times 8 = 8$

 $6 \times 8 = 48$

 $8 \times 8 = 64$


 $4 \times 8 = 32$

 $12 \times 8 = 96$


Klaar? Oefen 10 verhaaltjessommen op www.verhaalsommen.nl

Daarna mag je als beloning een rekenspelletje spelen!


Tel met sprongen van 8




8




16




24




32




40




48




56




64




72




80




88




96




104




112




120




128




136



144



152



160

Klaar? Oefen 10 verhaaltjessommen op www.verhaalsommen.nl

Daarna mag je als beloning een rekenspelletje spelen!

Mijntafeldiploma

De plek om tafels te oefenen!

1 TAFEL VAN 1 ★★★★★ Diploma	2 TAFEL VAN 2 ★★★★★ Diploma	3 TAFEL VAN 3 ★★★★★ Diploma	4 TAFEL VAN 4 ★★★★★ Bezig	5 TAFEL VAN 5 ★★★★★ Bezig	6 TAFEL VAN 6 ★★★★★ Bezig
7 TAFEL VAN 7 ★★★★★ Bezig	8 TAFEL VAN 8 ★★★★★ Start	9 TAFEL VAN 9 ★★★★★ Start	10 TAFEL VAN 10 ★★★★★ Start	11 TAFEL VAN 11 ★★★★★ Start	12 TAFEL VAN 12 ★★★★★ Start

