



Zweeds renspel B5/m5

OP AVONTUUR



www.verhaalsommen.nl

Zweeds renspel

Een Zweeds renspel is een leuke en effectieve manier om kinderen te laten leren terwijl ze actief bezig zijn. Hang de opdrachtkaarten verspreid op over het schoolplein, in de gangen of het klaslokaal. De kinderen lezen de vragen, bedenken de antwoorden en noteren deze op het antwoordblad. Op het antwoordblad is ruimte om denkstappen op te schrijven of een tekening te maken van de som. Als de kinderen klaar zijn, kunnen ze 10 verhaaltjessommen oefenen op www.verhaalsommen.nl. Als beloning mogen ze een rekenspelletje spelen!

Antwoorden

- | | |
|--------------------|---------------|
| A. €550 | I. €96 |
| B. 45 marshmallows | J. 12 zakken |
| C. 65 kikkers | K. 100 |
| D. 88 munten | L. 175 |
| E. 48 tenten | M. €296 |
| F. 90 planken | N. 72 spekjes |
| G. 198 bessen | O. 394 dieren |
| H. 77 kinderen | P. 65 |



Antwoordblad

Reken de sommen uit. Laat zien hoe je rekent.

Ben je klaar? Oefen 10 verhaaltjessommen op www.verhaalsommen.nl.

Daarna mag je een rekenspelletje spelen!

A.	E.	I.	M.
B.	F.	J.	N.
C.	G.	K.	O.
D.	H.	L.	P.

A.

Mo heeft precies genoeg geld voor een ballonvaart.
Hoeveel euro heeft Mo?



B.

Er zitten 9 marshmallows in een zak.
Lisa koopt 5 zakken om bij het kampvuur te roosteren.
Hoeveel marshmallows heeft Lisa?



C.

Tijdens een wandeling ziet Jet 13 vijvers. In elke vijver
zwemmen 5 kikkers. Hoeveel kikkers zien ze?



D.

Tijdens een speurtocht vinden de kinderen 178 munten
in een grot. Ze bewaren 90 munten in een kist.
Hoeveel munten houden ze over?




E.

In het bos zijn 6 kampen. Elk kamp heeft 8 tenten.
Hoeveel tenten zijn dat samen?



G.

Daan plukt 60 blauwe, 120 rode en 18 gele bessen.
Hoeveel bessen plukt Daan?



F.

Lars heeft 180 planken. De helft gebruikt hij voor zijn
boomhut. Hoeveel planken zijn dat?



H.

Er zijn 7 hutten. In elke hut slapen 11 kinderen.
Hoeveel kinderen zijn dat in totaal?




I.

Emma koopt 12 kaartjes voor het klimpark van €8 per stuk. Hoeveel euro moet Emma betalen?



K.

$$180 + \text{Compass} = 280$$


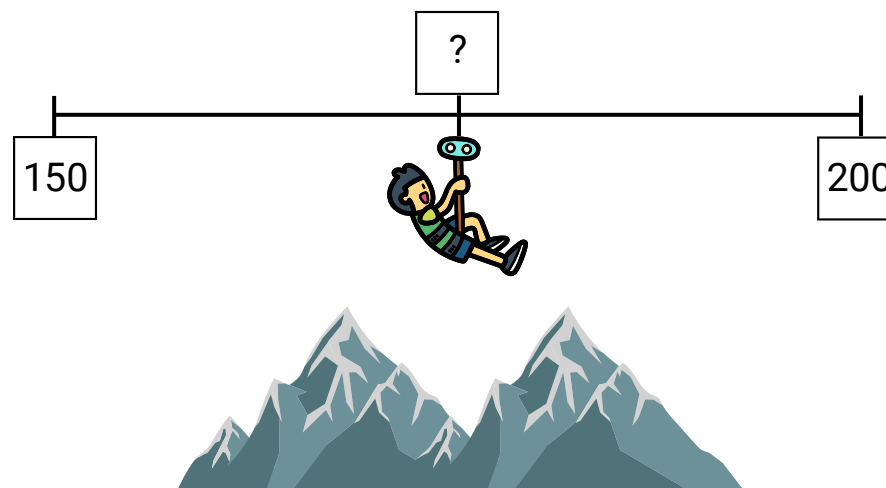
J.

Jop vindt 120 kastanjes. Hij stopt steeds 10 kastanjes in één zak. Hoeveel zakken kan hij vullen?



L.

Welk getal hoort op het vraagteken?



M.

Tom wil parachute springen en dat kost €310.
Hij krijgt €14 korting. Hoeveel euro moet Tom betalen?



O.

Er zijn 402 dieren bij de waterval. Er lopen 8 dieren
weg. Hoeveel dieren blijven er staan?



N.

8 kinderen krijgen ieder 9 spekjes bij het kampvuur.
Hoeveel spekjes zijn dat samen?



P.

$$435 + \text{campfire} = 500$$

VERHAAL SOMMEN

Veel plezier met oefenen in de klas.

Op zoek naar een leerzame klaaropdracht?

Op Verhaalsommen oefenen kinderen gratis redactiesommen.

Als beloning mogen ze een rekenspelletje spelen.