



Zweeds renspel B4/m4

OP AVONTUUR



www.verhaalsommen.nl

Zweeds renspel

Een Zweeds renspel is een leuke en effectieve manier om kinderen te laten leren terwijl ze actief bezig zijn. Hang de opdrachtkaarten verspreid op over het schoolplein, in de gangen of het klaslokaal. De kinderen lezen de vragen, bedenken de antwoorden en noteren deze op het antwoordblad. Op het antwoordblad is ruimte om denkstappen op te schrijven of een tekening te maken van de som. Als de kinderen klaar zijn, kunnen ze 10 verhaaltjessommen oefenen op www.verhaalsommen.nl. Als beloning mogen ze een rekenspelletje spelen!

Antwoorden

- | | |
|---------------|---------------|
| A. 16 vogels | I. €22 |
| B. 12 blokken | J. 3 zakken |
| C. 12 kikkers | K. 10 |
| D. 8 konijnen | L. 60 minuten |
| E. 15 tenten | M. 2 zakjes |
| F. 7 planken | N. 6 spekjes |
| G. 19 bessen | O. 18 dieren |
| H. 6 kinderen | P. 7 |



Antwoordblad

Reken de sommen uit. Laat zien hoe je rekent.

Ben je klaar? Oefen 10 verhaaltjessommen op www.verhaalsommen.nl.

Daarna mag je een rekenspelletje spelen!

A.	E.	I.	M.
B.	F.	J.	N.
C.	G.	K.	O.
D.	H.	L.	P.


A.

Sam klimt een berg op. Hij ziet 7 vogels en later nog 9.
Hoeveel vogels ziet Sam in totaal?



C.

Tijdens een wandeling ziet Jet 2 vijvers. In elke vijver
zwemmen 6 kikkers. Hoeveel kikkers ziet Jet?



B.

Eva bouwt 3 kampvuren. Voor elk vuur gebruikt ze 4
blokken hout. Hoeveel blokken heeft Eva nodig?



D.

Er zijn 7 konijnen. 3 konijnen rennen weg. Er komen 4
nieuwe konijnen bij. Hoeveel konijnen zijn er?




E.

In het bos zijn 3 kampen. Elk kamp heeft 5 tenten.
Hoeveel tenten zijn dat samen?



G.

Daan plukt 6 blauwe, 9 rode en 4 gele bessen.
Hoeveel bessen plukt Daan?



F.

Lars heeft 14 planken. De helft gebruikt hij voor zijn
boomhut. Hoeveel planken zijn dat?



H.

Er zijn 3 hutten. In elke hut slapen 2 kinderen.
Hoeveel kinderen zijn dat samen?



I.

Emma koopt 2 kaartjes voor het klimpark van €11 per stuk. Hoeveel euro moet Emma betalen?



K.

$$18 + \text{Compass} = 28$$
A yellow compass rose with a ring at the top. The face is white with a black needle pointing North. The directions are labeled: N (North), S (South), E (East), and W (West).

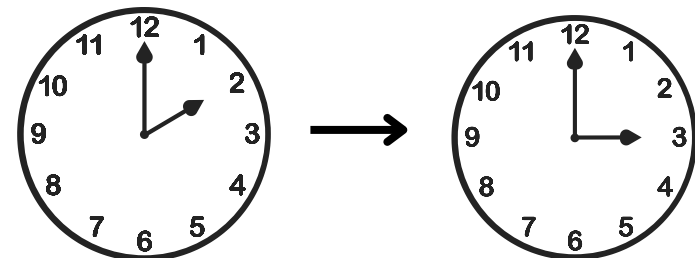
J.

Jop vindt 30 kastanjes. Hij stopt steeds 10 kastanjes in één zak. Hoeveel zakken kan hij vullen?



L.

Het is nu 2 uur. Over een uur begint de spannende boswandeling. Over hoeveel minuten is dat?



M.

Nina vindt 6 bessen en stopt steeds 3 bessen in een zakje. Hoeveel zakjes kan ze vullen?



O.

Er zijn 24 dieren bij de waterval. Er lopen 6 dieren weg. Hoeveel dieren blijven er staan?



N.

Drie kinderen krijgen ieder 2 spekjes bij het kampvuur. Hoeveel spekjes zijn dat samen?



P.

$$23 + \text{campfire} = 30$$

VERHAAL SOMMEN

Veel plezier met oefenen in de klas.

Op zoek naar een leerzame klaaropdracht?

Op Verhaalsommen oefenen kinderen gratis redactiesommen.

Als beloning mogen ze een rekenspelletje spelen.