


Coördinaten tekening

Gebruik de coördinaten hiernaast om de tekening te maken.
 Als de tekening af is, mag je deze inkleuren. Helemaal klaar?
 Oefen 10 verhaaltjessommen op [verhaalsommen.nl](https://www.verhaalsommen.nl)
 Daarna mag je een rekenspelletje spelen!




Coördinaten

Zoek de volgende coördinaten en trek een rechte lijn om ze met elkaar te verbinden.
 Gebruik hiervoor een liniaal. Wanneer je bij het woord 'STOP' bent, is dat deel van de tekening af. Je hoeft het laatste punt **niet** te verbinden met het eerste punt van de volgende groep.

START	START	START	START	START
(26,15)	(13,33)	(8,15)	(8,15)	(23,23)
(30,20)	(12,34)	(6,15)	(9,20)	(22,22)
(32,24)	(11,34)	(4,13)	(9,26)	(12,22)
(31,25)	(10,33)	(5,10)	(11,31)	(11,23)
(29,26)	(10,32)	(7,11)	(13,33)	(13,20)
(28,26)	(11,31)	(7,9)	(15,34)	(21,20)
(27,25)	STOP	(9,8)	(19,34)	(23,23)
(26,22)	START	(11,9)	(21,33)	STOP
(25,20)	START	(12,7)	(23,31)	START
STOP	(21,33)	(14,7)	(25,26)	START
START	(22,34)	(15,8)	(25,20)	START
(7,9)	(23,34)	(16,7)	(26,15)	(27,8)
(6,2)	(24,33)	(18,7)	STOP	(30,9)
(7,1)	(24,32)	(19,8)	START	(32,11)
(11,1)	(23,31)	(20,7)	(17,27)	(33,14)
(13,5)	STOP	(22,7)	(17,29)	(33,17)
(15,6)	START	(23,9)	(16,30)	(31,15)
(19,6)	(9,20)	(25,8)	(14,30)	(29,14)
(21,5)	(8,22)	(27,9)	(13,29)	STOP
(23,1)	(7,25)	(27,11)	(14,30)	START
(27,1)	(6,26)	(29,10)	(13,29)	START
(28,2)	(5,26)	(30,13)	(13,27)	(13,22)
(27,9)	(3,25)	(28,15)	(14,26)	(14,21)
STOP	(2,24)	(26,15)	(16,26)	(15,22)
START	(4,20)	(22,13)	(17,27)	(16,21)
(19,27)	(8,15)	(17,13)	(18,26)	(17,22)
(20,28)	STOP	(12,13)	(20,26)	(18,21)
(19,29)	START	(8,15)	(21,27)	(17,22)
(18,28)	(16,28)	STOP	(21,29)	(18,21)
(19,27)	(15,29)	START	(20,30)	(19,22)
STOP	(14,28)	(16,28)	(18,30)	(20,21)
START	(15,34)	(15,29)	(17,29)	(21,22)
(14,38)	(14,38)	(14,28)	STOP	STOP
(16,36)	(16,36)	(15,27)	START	
(17,38)	(17,38)	(16,28)	(29,14)	
(18,36)	(18,36)	STOP	(30,16)	
(20,38)	(20,38)	START	(31,15)	
(19,34)	(19,34)	(16,28)	(31,17)	
STOP	STOP	(32,16)	(32,16)	
		STOP	STOP	

Coördinaten tekening

Gebruik de coördinaten hiernaast om de tekening te maken.
 Als de tekening af is, mag je deze inkleuren. Helemaal klaar?
 Oefen 10 verhaaltjessommen op verhaalsommen.nl
 Daarna mag je een rekenspelletje spelen!




Coördinaten

Zoek de volgende coördinaten en trek een rechte lijn om ze met elkaar te verbinden.
 Gebruik hiervoor een liniaal. Wanneer je bij het woord 'STOP' bent, is dat deel van de tekening af. Je hoeft het laatste punt **niet** te verbinden met het eerste punt van de volgende groep.

START	START	START	START	START
(26,15)	(13,33)	(8,15)	(8,15)	(23,23)
(30,20)	(12,34)	(6,15)	(9,20)	(22,22)
(32,24)	(11,34)	(4,13)	(9,26)	(12,22)
(31,25)	(10,33)	(5,10)	(11,31)	(11,23)
(29,26)	(10,32)	(7,11)	(13,33)	(13,20)
(28,26)	(11,31)	(7,9)	(15,34)	(21,20)
(27,25)	STOP	(9,8)	(19,34)	(23,23)
(26,22)	START	(11,9)	(21,33)	STOP
(25,20)	START	(12,7)	(23,31)	STOP
STOP	START	(14,7)	(25,26)	START
START	(21,33)	(15,8)	(25,20)	START
(7,9)	(22,34)	(16,7)	(26,15)	(27,8)
(6,2)	(23,34)	(18,7)	STOP	(30,9)
(7,1)	(24,33)	(19,8)	START	(32,11)
(11,1)	(24,32)	(20,7)	START	(33,14)
(13,5)	(23,31)	(22,7)	STOP	(33,17)
(15,6)	STOP	(23,9)	(17,27)	(31,15)
(19,6)	START	(25,8)	(17,29)	(29,14)
(21,5)	(9,20)	(27,9)	(16,30)	STOP
(23,1)	(8,22)	(27,11)	(14,30)	START
(27,1)	(7,25)	(29,10)	(13,29)	START
(28,2)	(6,26)	(30,13)	(13,27)	(13,22)
(27,9)	(5,26)	(28,15)	(14,26)	(14,21)
STOP	(3,25)	(26,15)	(16,26)	(15,22)
START	(2,24)	(22,13)	(17,27)	(16,21)
(19,27)	(4,20)	(17,13)	(18,26)	(17,22)
(20,28)	(8,15)	(12,13)	(20,26)	(18,21)
(19,29)	STOP	(8,15)	(21,27)	(17,22)
(18,28)	START	STOP	(21,29)	(18,21)
(19,27)	(16,28)	START	(20,30)	(19,22)
STOP	(15,34)	(16,28)	(18,30)	(20,21)
START	(14,38)	(15,29)	(17,29)	(21,22)
(16,36)	(14,28)	STOP	STOP	STOP
(17,38)	(15,27)	START	START	STOP
(18,36)	(16,28)	(29,14)	STOP	STOP
(20,38)	STOP	(30,16)	START	STOP
(19,34)	STOP	(31,15)	START	STOP
		(31,17)	STOP	STOP
		(32,16)	STOP	STOP

Coördinaten tekening

Gebruik de coördinaten hiernaast om de tekening te maken.
 Als de tekening af is, mag je deze inkleuren. Helemaal klaar?
 Oefen 10 verhaaltjessommen op verhaalsommen.nl
 Daarna mag je een rekenspelletje spelen!



Coördinaten

Zoek de volgende coördinaten en trek een rechte lijn om ze met elkaar te verbinden.
 Gebruik hiervoor een liniaal. Wanneer je bij het woord 'STOP' bent, is dat deel van de tekening af. Je hoeft het laatste punt **niet** te verbinden met het eerste punt van de volgende groep.

START	START	START	START	START
(26,15)	(13,33)	(8,15)	(8,15)	(23,23)
(30,20)	(12,34)	(6,15)	(9,20)	(22,22)
(32,24)	(11,34)	(4,13)	(9,26)	(12,22)
(31,25)	(10,33)	(5,10)	(11,31)	(11,23)
(29,26)	(10,32)	(7,11)	(13,33)	(13,20)
(28,26)	(11,31)	(7,9)	(15,34)	(21,20)
(27,25)	STOP	(9,8)	(19,34)	(23,23)
(26,22)	START	(11,9)	(21,33)	STOP
(25,20)	START	(12,7)	(23,31)	STOP
STOP	START	(14,7)	(25,26)	START
START	(21,33)	(15,8)	(25,20)	START
(7,9)	(22,34)	(16,7)	(26,15)	(27,8)
(6,2)	(23,34)	(18,7)	STOP	(30,9)
(7,1)	(24,33)	(19,8)	START	(32,11)
(11,1)	(24,32)	(20,7)	START	(33,14)
(13,5)	(23,31)	(22,7)	STOP	(33,17)
(15,6)	STOP	(23,9)	(17,27)	(31,15)
(19,6)	START	(25,8)	(17,29)	(29,14)
(21,5)	(9,20)	(27,9)	(16,30)	STOP
(23,1)	(8,22)	(27,11)	(14,30)	START
(27,1)	(7,25)	(29,10)	(13,29)	(13,22)
(28,2)	(6,26)	(30,13)	(13,27)	(14,21)
(27,9)	(5,26)	(28,15)	(14,26)	(15,22)
STOP	(3,25)	(26,15)	(16,26)	(16,21)
START	(2,24)	(22,13)	(17,27)	(17,22)
(19,27)	(4,20)	(17,13)	(18,26)	(18,21)
(20,28)	(8,15)	(12,13)	(20,26)	(17,22)
(19,29)	STOP	(8,15)	(21,27)	(18,21)
(18,28)	START	STOP	(21,29)	(19,22)
(19,27)	(16,28)	START	(20,30)	(20,21)
STOP	(15,34)	(16,28)	(18,30)	(21,22)
START	(14,38)	(15,29)	(17,29)	STOP
(16,36)	(14,28)	(16,28)	STOP	STOP
(17,38)	(15,27)	STOP	START	
(18,36)	(16,28)	START	(29,14)	
(20,38)	STOP	(29,14)	(30,16)	
(19,34)	STOP	(31,15)	(31,17)	
		(32,16)		