

Zweeds renspel M4

**HALLOWEEN**



[www.verhaalsommen.nl](http://www.verhaalsommen.nl)

## Zweeds renspel

Een Zweeds renspel is een leuke en effectieve manier om kinderen te laten leren terwijl ze actief bezig zijn. Hang de opdrachtkaarten verspreid op over het schoolplein, in de gangen of het klaslokaal. De kinderen lezen de vragen, bedenken de antwoorden en noteren deze op het antwoordblad. Op het antwoordblad is ruimte om denkstappen op te schrijven of een tekening te maken van de som. Als de kinderen klaar zijn, kunnen ze 10 verhaaltjessommen oefenen op [www.verhaalsommen.nl](http://www.verhaalsommen.nl). Als beloning mogen ze een rekenspelletje spelen!

## Antwoorden

- |                |                 |
|----------------|-----------------|
| A. 15 snoepjes | I. 16 oogballen |
| B. 9 euro      | J. 3 zakken     |
| C. 8 spinnen   | K. 30           |
| D. 16 kaarsen  | L. 60 minuten   |
| E. 8 kinderen  | M. 4 zakken     |
| F. 7 euro      | N. 12 pompoenen |
| G. 33 snoepjes | O. 41 spinnen   |
| H. 18 euro     | P. 9            |



# Antwoordblad

Reken de sommen uit. Laat zien hoe je rekent.

Ben je klaar? Oefen 10 verhaaltjessommen op [www.verhaalsommen.nl](http://www.verhaalsommen.nl).

Daarna mag je een rekenspelletje spelen!

A.	E.	I.	M.
B.	F.	J.	N.
C.	G.	K.	O.
D.	H.	L.	P.

A.

Roos heeft 3 bakken met 5 snoepjes.  
Hoeveel snoepjes zijn dat samen?



C.

In één toverdrankje zitten 4 spinnen.  
Hoeveel spinnen zitten er in 2 toverdrankjes?



B.

Joost heeft €30. Hij koop een kostuum voor €21.  
Hoeveel euro houdt hij over?



D.

In het spookhuis branden 23 kaarsen.  
7 kaarsen gaan uit. Hoeveel kaarsen blijven branden?



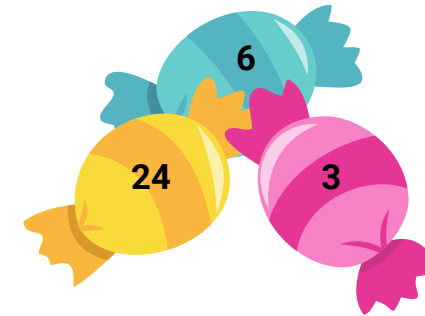
E.

Er zijn 16 kinderen. De helft van de kinderen is verkleed.  
Hoeveel kinderen zijn dat?




G.

Vik heeft 6 blauwe, 24 gele en 3 roze snoepjes.  
Hoeveel snoepjes zijn dat samen?



F.

Anne spaart voor een kostuum van €32.  
Ze heeft al €25. Hoeveel euro heeft Anne nog nodig?




H.

De juf koopt 2 kaartjes van €9 per stuk voor het  
spookhuis. Hoeveel euro moet de juf betalen?



I.

Op één muffin zitten 8 oogballen.  
Hoeveel oogballen zitten er op 2 muffins?



K.

$$7 + \text{pumpkin} = 37$$

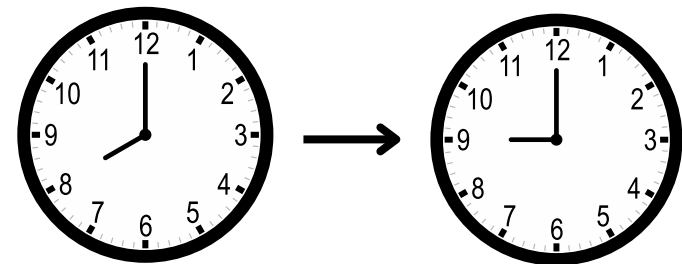
J.

Er zijn 30 snoepjes. Mo doet steeds 10 snoepjes in één zak. Hoeveel zakken kan hij vullen?



L.

Het is nu 8 uur. Over een uur begint de spooktocht.  
Over hoeveel minuten is dat?



M.

Nina heeft 12 snoepjes. Ze doet steeds 3 snoepjes in een zak. Hoeveel zakken kan ze vullen?



O.

In de ketel zitten 34 spinnen. De heks doet er nog 7 bij. Hoeveel spinnen zitten er in de ketel?



N.

Jan heeft 6 pompoenen. Kees heeft er 2 keer zo veel. Hoeveel pompoenen heeft Kees?



P.

$$51 + \text{pumpkin} = 60$$

# • ✂ VERHAAL S MMEN ✂ •

Veel plezier met oefenen in de klas.

Op zoek naar een leerzame klaaropdracht?

Op Verhaalsommen oefenen kinderen gratis redactiesommen.

Als beloning mogen ze een rekenspelletje spelen.