

Zweeds renspel

Verhaaltjessommen B5/m5



www.verhaalsommen.nl

Uitleg

Print alle vragen en hang deze verspreid op. De kinderen beginnen bij een van de vragen en rekenen de som uit. Dit kan individueel of in een groepje. De kinderen nemen hun antwoordblad mee en schrijven de antwoorden in de tabel. Als de kinderen alle antwoorden ingevuld hebben, starten ze met stap 3. Ze kijken tussen welke getallen hun antwoord ligt en geven de letter van de vraag de goede kleur. Zo kleuren ze de geheime tekening in. Er is één vraag voorgedaan. Veel plezier! Zijn de kinderen klaar? Je kunt ze gratis redactiesommen laten oefenen op www.verhaalsommen.nl

Antwoorden


A. 248 potloden	I. €216
B. 56 knikkers	J. 14 briefjes
C. 64 tulpen	K. 110 bladzijdes
D. 4 weken	L. €372
E. €461	M. €9
F. 12 briefjes	N. €54
G. 325	O. €385
H. 180 bloemen	P. 175



Stap 1. Uitleg



Los eerst alle sommen op en vul de antwoorden in.
Klaar? Kijk bij stap 3 tussen welke getallen jouw antwoord ligt.
Geef de letter van de vraag in de tekening de goede kleur.
Ik heb vraag 1 voor je voorgedaan!



Stap 2. antwoorden

A	248 potloden	I	euro
B	knikkers	J	briefjes
C	tulpen	K	bladzijdes
D	weken	L	euro
E	euro	M	euro
F	briefjes	N	euro
G		O	euro
H	bloemen	P	


Stap 3. kleuren

antwoord	kleur
tussen de 0 en 50	roze
tussen de 51 en 100	geel
tussen de 101 en 200	blauw
tussen de 201 en 300	groen
tussen de 301 en 400	bruin
tussen de 401 en 500	oranje

Stap 1. Uitleg



Los eerst alle sommen op en vul de antwoorden in.
Klaar? Kijk tussen welke getallen jouw antwoord ligt.
Geef de letter van de vraag in de tekening de goede kleur.
Ik heb er één voor je voorgedaan!



Stap 2. antwoorden

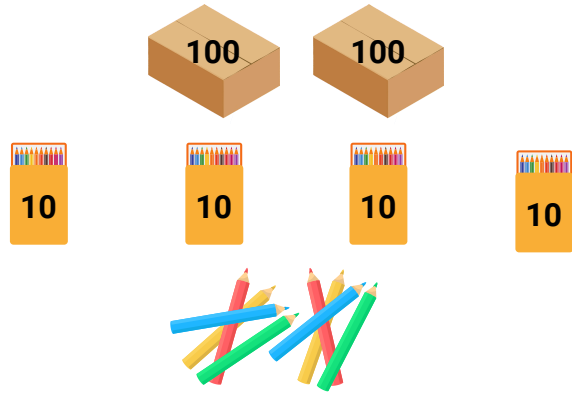
A	248 potloden	I	216 euro
B	56 knikkers	J	14 briefjes
C	64 tulpen	K	110 bladzijdes
D	4 weken	L	372 euro
E	461 euro	M	9 euro
F	12 briefjes	N	54 euro
G	325	O	385 euro
H	180 bloemen	P	175

Stap 3. kleuren

antwoord	kleur
tussen de 0 en 50	roze
tussen de 51 en 100	geel
tussen de 101 en 200	blauw
tussen de 201 en 300	groen
tussen de 301 en 400	bruin
tussen de 401 en 500	oranje

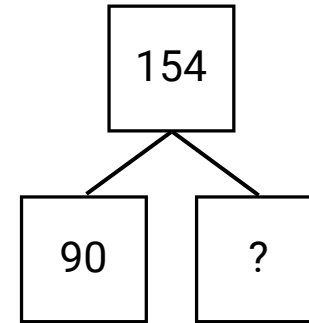
A.

Jan telt de potloden.
Hoeveel potloden zijn er op voorraad?



C.

Flip heeft 154 rozen en tulpen.
Hij heeft 90 rozen. Hoeveel tulpen heeft Flip?




B.

Er zitten 8 knikkers in een zak.
Lize koopt 7 zakken. Hoeveel knikkers koopt Lize?



D.

Flip spaart voor een pet van €67.
Elke week spaart hij €20. Hoeveel weken moet hij sparen om de pet te kunnen kopen?



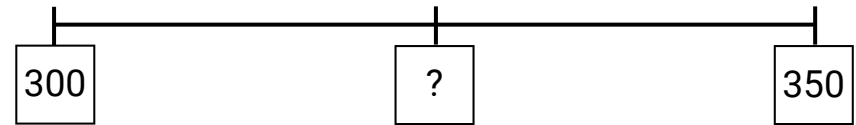
E.

Hoeveel euro zie je op het plaatje?



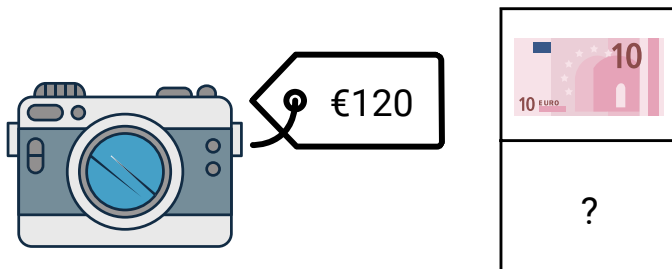
G.

Welk getal hoort op het vraagteken?



F.

De camera kost €120. Jip betaalt met briefjes van €10. Hoeveel briefjes heeft hij nodig?



H.

Een bloemist heeft 18 bossen bloemen
In elke bos zitten 10 bloemen.
Hoeveel bloemen zijn dat samen?



I.

Ali heeft €300 in zijn spaarpot.
Hij haalt er €84 uit. Hoeveel euro houdt hij over?




K.

Mees leest een boek met 380 bladzijdes.
Hij heeft al 270 bladzijdes gelezen.
Hoeveel bladzijdes moet hij nog lezen?



J.

De beer kost €140.
Hoeveel briefjes van €10 euro zijn er nodig?



L.

In de spaarpot van Flip zit €305.
Hij doet er nog €67 bij.
Hoeveel euro zit er dan in de spaarpot?



M.

4 personen verdelen €36.
Hoeveel euro krijgt ieder?



O.

Tijn wil een fiets van €410 kopen.
Hij krijgt €25 korting. Hoeveel euro moet
Tijn nog voor de fiets betalen?



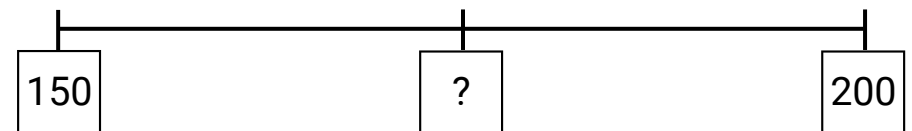
N.

Een kaartje voor de dierentuin kost €6.
Pelle wil 9 kaartjes kopen.
Hoeveel euro moet Pelle betalen?



P.

Welk getal hoort op het vraagteken?



VERHAAL SOMMEN



Bedankt voor het downloaden van dit document.

Je kunt het gratis delen met iedereen.

Wist je dat we ook lesmateriaal maken voor begrijpend lezen?



Oefen begrijpend lezen

 [Oefenbegrijpendlezen.nl](https://oefenbegrijpendlezen.nl)

 [Oefenbegrijpendlezen](https://www.facebook.com/oefenbegrijpendlezen)



Juffrouw Femke

 [Juffrouw Femke groep 8](https://www.facebook.com/juffrouw.femke.groep.8)

 [@juffrouw_femke](https://www.instagram.com/juffrouw_femke)