

Zweeds renspel

Verhaaltjessommen B4



www.verhaalsommen.nl

Uitleg

Print alle vragen en hang deze verspreid op. De kinderen beginnen bij een van de vragen en rekenen de som uit. Dit kan individueel of in een groepje. De kinderen nemen hun antwoordblad mee en schrijven de antwoorden in de tabel. Als de kinderen alle antwoorden ingevuld hebben, starten ze met stap 3. Ze kijken tussen welke getallen hun antwoord ligt en geven de letter van de vraag de goede kleur. Zo kleuren ze de geheime tekening in. Er is één vraag voorgedaan. Veel plezier! Zijn de kinderen klaar? Je kunt ze gratis redactiesommen laten oefenen op www.verhaalsommen.nl

Antwoorden


- | | |
|---------------|----------------|
| A. 35 eieren | I. 34 koekjes |
| B. €13 | J. 4 briefjes |
| C. €17 | K. 22 mensen |
| D. 6 tulpen | L. 46 snoepjes |
| E. €55 | M. 9 bolletjes |
| F. 5 briefjes | N. 15 mensen |
| G. 50 | O. 45 glazen |
| H. €24 | P. 25 |



Stap 1. Uitleg



Los eerst alle sommen op en vul de antwoorden in.
Klaar? Kijk bij stap 3 tussen welke getallen jouw antwoord ligt.
Geef de letter van de vraag in de tekening de goede kleur.
Ik heb vraag 1 voor je voorgedaan!



Stap 2. antwoorden

A	35 eieren	I	koekjes
B	euro	J	briefjes
C	euro	K	mensen
D	tulpen	L	snoepjes
E	euro	M	bolletjes
F	briefjes	N	mensen
G		O	glazen
H	euro	P	


Stap 3. kleuren

antwoord	kleur
tussen de 0 en 10	roze
tussen de 11 en 20	geel
tussen de 21 en 30	blauw
tussen de 31 en 40	groen
tussen de 41 en 50	bruin
tussen de 51 en 60	oranje

Stap 1. Uitleg



Los eerst alle sommen op en vul de antwoorden in.
Klaar? Kijk tussen welke getallen jouw antwoord ligt.
Geef de letter van de vraag in de tekening de goede kleur.
Ik heb er één voor je voorgedaan!



Stap 2. antwoorden


A	35 eieren	I	34 koekjes
B	13 euro	J	4 briefjes
C	17 euro	K	22 mensen
D	6 tulpen	L	46 snoepjes
E	55 euro	M	9 bolletjes
F	5 briefjes	N	15 mensen
G	50	O	45 glazen
H	24 euro	P	25

Stap 3. kleuren

antwoord	kleur
tussen de 0 en 10	roze
tussen de 11 en 20	geel
tussen de 21 en 30	blauw
tussen de 31 en 40	groen
tussen de 41 en 50	bruin
tussen de 51 en 60	oranje

A.

Hoeveel eieren zijn dit samen?



C.

Flip koopt een pop en een bal.
Hoeveel euro kost het samen?



€9



€8


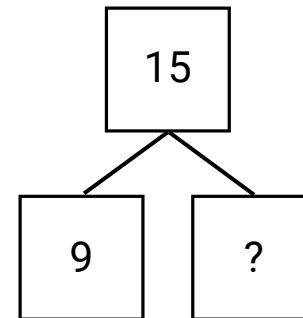
B.

In de spaarpot zit €8.
Flip doet er €5 bij.
Hoeveel euro zit er in de spaarpot?



D.

Flip heeft 15 rozen en tulpen.
Hij heeft 9 rozen. Hoeveel tulpen heeft Flip?



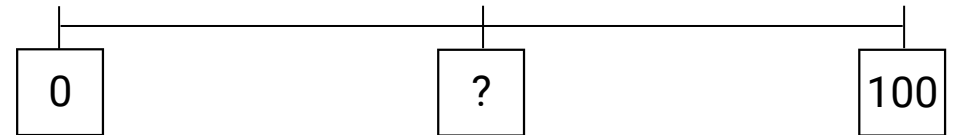
E.

Hoeveel euro zie je op het plaatje?




G.

Welk getal hoort op het vraagteken?




F.

De plant kost €53.
Hoeveel briefjes van €10 zijn er nog nodig?



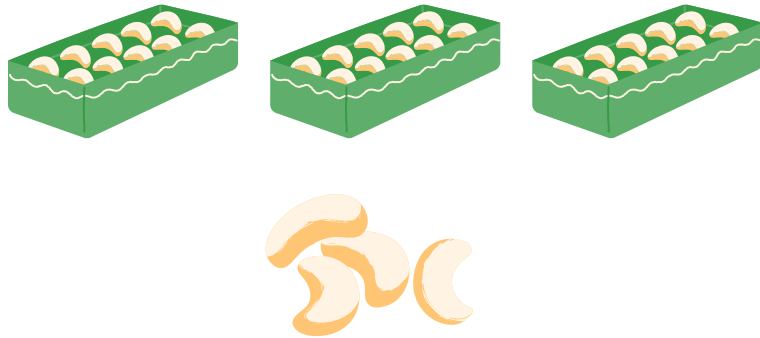
H.

Flip koopt een beertje en een aapje.
Hoeveel euro kost het samen?




I.

Hier zie je dozen met 10 koekjes en een paar losse koekjes. Hoeveel koekjes zijn dat samen?



K.

Er zitten al 17 mensen in de bus.
Er stappen nog 5 mensen bij.
Hoeveel mensen zijn dat samen?



17



5

J.



De beer kost €47.
Hoeveel briefjes van €10 zijn er nog nodig?



	
?	7

L.

Hier zie je zakjes met 10 snoepjes en een paar losse snoepjes. Hoeveel snoepjes zijn dat samen?




M.

Drie kinderen krijgen een ijsje met 3 bolletjes.
Hoeveel bolletjes zijn dat samen?



O.

Hier zie je dozen met 10 glazen en een paar losse glazen.
Hoeveel glazen zijn dat samen?



N.

Er zitten 21 mensen in de trein.
Er stappen 6 mensen uit.
Hoeveel mensen blijven er over?



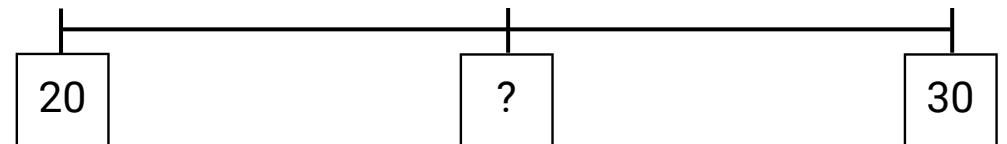
21



6

P.

Welk getal hoort op het vraagteken?



VERHAAL SOMMEN



Bedankt voor het downloaden van dit document.

Je kunt het gratis delen met iedereen.

Wist je dat we ook lesmateriaal maken voor begrijpend lezen?



Oefen begrijpend lezen

 [Oefenbegrijpendlezen.nl](https://oefenbegrijpendlezen.nl)

 [Oefenbegrijpendlezen](https://www.facebook.com/oefenbegrijpendlezen)



Juffrouw Femke

 [Juffrouw Femke groep 8](https://www.facebook.com/juffrouw.femke.groep.8)

 [@juffrouw_femke](https://www.instagram.com/juffrouw_femke)