


VERHAAL



SOMMEN



Tafelboekje van:

www.verhaalsommen.nl

Verhaaltjessommen



Lees de verhaaltjes en reken de sommen uit.
Maak een tekening bij de som of schrijf de som op.

1. In een groepje zitten 6 kinderen.

Hoeveel kinderen zitten er in 8 groepjes? _____ kinderen

2. Aan een ketting zitten 6 kralen.

Hoeveel kralen zitten er aan 4 kettingen? _____ kralen

3. In een zak zitten 6 ballen.

Hoeveel ballen zitten er in 9 zakken? _____ ballen

4. Iedere week spaart Daan €6.

Hoeveel euro spaart Daan in 6 weken? _____ euro

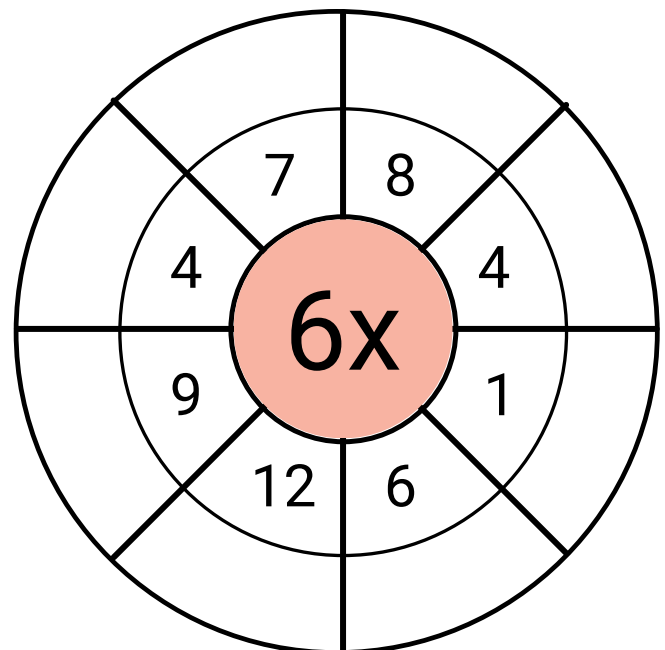
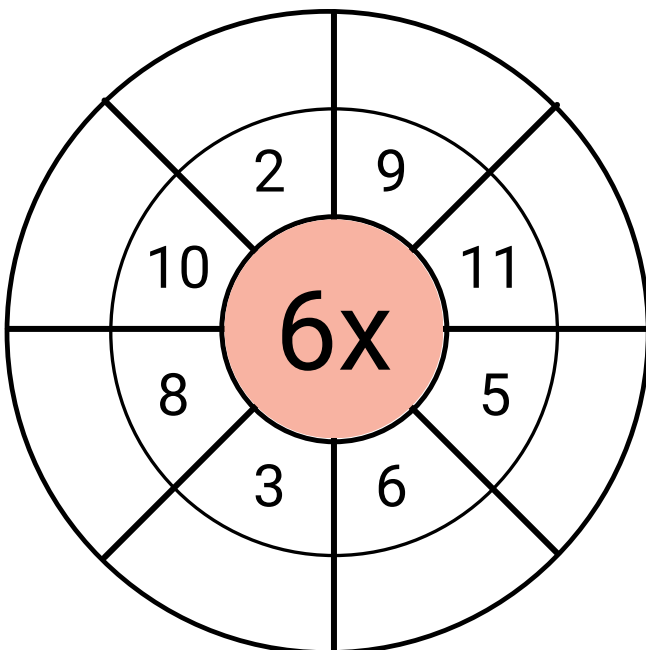
Geheime tekening

0x6	7x6	8x6	2x6	3x6	0x6	1x6	7x6	8x6	2x6
1x6	9x6	10x6	7x6	4x6	5x6	8x6	9x6	10x6	3x6
7x6	8x6	8x6	10x6	7x6	9x6	9x6	7x6	8x6	10x6
6x6	4x6	11x6	11x6	10x6	10x6	11x6	12x6	4x6	5x6
7x6	9x6	12x6	5x6	7x6	8x6	6x6	11x6	9x6	8x6
4x6	5x6	6x6	11x6	12x6	12x6	11x6	5x6	4x6	6x6
9x6	8x6	10x6	12x6	6x6	5x6	12x6	7x6	9x6	8x6
6x6	5x6	4x6	11x6	12x6	11x6	12x6	6x6	5x6	4x6
0x6	8x6	10x6	12x6	11x6	12x6	11x6	10x6	7x6	0x6
1x6	2x6	3x6	9x6	7x6	10x6	8x6	3x6	2x6	1x6

Antwoord	Kleur
0 tot en met 20	groen
21 tot en met 40	zwart
41 tot en met 60	oranje
61 tot en met 80	wit



Tafel van 6 rad



De tafel van 6



Reken de sommen uit.

$1 \times 6 =$

$2 \times 6 =$

$3 \times 6 =$

$4 \times 6 =$

$5 \times 6 =$

$6 \times 6 =$

$7 \times 6 =$

$8 \times 6 =$

$9 \times 6 =$

$10 \times 6 =$

$3 \times 6 =$

$2 \times 6 =$

$8 \times 6 =$

$7 \times 6 =$

$7 \times 6 =$

$1 \times 6 =$

$4 \times 6 =$

$10 \times 6 =$

$5 \times 6 =$

$7 \times 6 =$

$5 \times 6 =$

$5 \times 6 =$

$7 \times 6 =$

$6 \times 6 =$

$3 \times 6 =$

$1 \times 6 =$

$9 \times 6 =$

$2 \times 6 =$

$8 \times 6 =$

$3 \times 6 =$

$7 \times 6 =$

$4 \times 6 =$

$6 \times 6 =$

$5 \times 6 =$

$5 \times 6 =$

$6 \times 6 =$

$3 \times 6 =$

$7 \times 6 =$

$4 \times 6 =$

$8 \times 6 =$

Klaar? Oefen 10 verhaaltjessommen op www.verhaalsommen.nl

Daarna mag je als beloning een rekenspelletje spelen!

Rekenzoeker



Zoek en omcirkel keersommen van de tafel van 6.
Schrijf ze in de tabel.

8	6	30	6	5	12	1	3
0	6	18	11	12	6	72	6
18	1 x 6 = 6			24	35	9	18
8	6	48	66	10	5	9	6
4	12	30	12	6	24	6	4
1	45	6	6	36	5	54	18
66	72	32	2	42	6	30	3
42	6	7	54	40	60	6	10

1 x 6 = 6	

Kleurplaat tafel van 6




Welke kleur hoort bij het antwoord?

Reken uit en kleur in. Ben je klaar?

Ga dan naar www.verhaalsommen.nl


Speel het leuke rekenspelletje **Sommen en kleuren!**



Reken uit


Hoeveel samen?

Schrijf de keersom en het antwoord op.




Keersom: $3 \times 6 =$ _____

Antwoord: _____ koekjes



Keersom: _____

Antwoord: _____ potloden



Keersom: _____

Antwoord: _____ stukjes fruit

Klaar? Oefen 10 verhaaltjessommen op www.verhaalsommen.nl

Daarna mag je als beloning een rekenspelletje spelen!

Vul de tabel in




Vul de tabel in.

Denk aan de tafel van 6.



Doos	1	2	4	6
Bonbons	6			



Doos	1	3	5	7
Eieren	6			

Reken uit

$2 \times 6 =$

$5 \times 6 =$

$6 \times 6 =$

$9 \times 6 =$

$4 \times 6 =$

$3 \times 6 =$

$8 \times 6 =$

$7 \times 6 =$

$7 \times 6 =$

$8 \times 6 =$

$6 \times 6 =$

$4 \times 6 =$

$1 \times 6 =$

$3 \times 6 =$

$8 \times 6 =$

Klaar? Oefen 10 verhaaltjessommen op www.verhaalsommen.nl

Daarna mag je als beloning een rekenspelletje spelen!

Doolhof



Kleur de keersommen die goed zijn.
Vind zo een weg door het doolhof.

start					
$3 \times 6 = 18$	$10 \times 6 = 60$	$0 \times 6 = 6$	$9 \times 6 = 53$	$3 \times 6 = 12$	$4 \times 6 = 21$
$5 \times 6 = 30$	$1 \times 6 = 60$	$10 \times 6 = 6$	$11 \times 6 = 61$	$8 \times 6 = 49$	$9 \times 6 = 27$
$7 \times 6 = 42$	$2 \times 6 = 12$	$8 \times 6 = 48$	$1 \times 6 = 6$	$7 \times 6 = 49$	$6 \times 6 = 33$
$12 \times 6 = 64$	$3 \times 6 = 15$	$4 \times 6 = 26$	$9 \times 6 = 54$	$5 \times 6 = 25$	$0 \times 6 = 6$
$9 \times 6 = 56$	$4 \times 6 = 24$	$6 \times 6 = 36$	$11 \times 6 = 66$	$11 \times 6 = 61$	$6 \times 6 = 34$
$10 \times 6 = 6$	$12 \times 6 = 72$	$2 \times 6 = 16$	$8 \times 6 = 46$	$5 \times 6 = 36$	$12 \times 6 = 66$
$8 \times 6 = 47$	$5 \times 6 = 30$	$3 \times 6 = 18$	$1 \times 6 = 6$	$7 \times 6 = 42$	$9 \times 6 = 54$
$2 \times 6 = 11$	$6 \times 6 = 30$	$7 \times 6 = 41$	$0 \times 6 = 6$	$3 \times 6 = 16$	$11 \times 6 = 66$
$7 \times 6 = 43$	$10 \times 6 = 6$	$1 \times 6 = 60$	$4 \times 6 = 26$	$4 \times 6 = 24$	$2 \times 6 = 12$
$5 \times 6 = 25$	$12 \times 6 = 72$	$10 \times 6 = 60$	$8 \times 6 = 48$	$6 \times 6 = 36$	$8 \times 6 = 46$
$7 \times 6 = 42$	$9 \times 6 = 54$	$6 \times 6 = 30$	$9 \times 6 = 56$	$10 \times 6 = 6$	$11 \times 6 = 61$
$5 \times 6 = 30$	$4 \times 6 = 26$	$3 \times 6 = 16$	$8 \times 6 = 49$	$7 \times 6 = 41$	$1 \times 6 = 60$
$3 \times 6 = 18$	$12 \times 6 = 72$	$10 \times 6 = 60$	$8 \times 6 = 48$	$6 \times 6 = 36$	$7 \times 6 = 41$
$1 \times 6 = 1$	$5 \times 6 = 35$	$12 \times 6 = 64$	$9 \times 6 = 52$	$4 \times 6 = 24$	$5 \times 6 = 35$

Eind

Teken het verhaal

Bedenk een verhaal bij de som en reken de som uit.

Je mag het verhaal tekenen of schrijven.



$$7 \times 6 =$$

$$3 \times 6 =$$

$$5 \times 6 =$$

$$8 \times 6 =$$

Klaar? Oefen 10 verhaaltjessommen op www.verhaalsommen.nl

Daarna mag je als beloning een rekenspelletje spelen!

Tafel tijd

Zet een timer op 2 minuten.
Hoeveel sommen kan jij maken?
Zet een streep tot waar je komt.



$9 \times 6 =$

$5 \times 6 =$

$9 \times 6 =$

$2 \times 6 =$

$2 \times 6 =$

$2 \times 6 =$

$8 \times 6 =$

$9 \times 6 =$

$7 \times 6 =$

$4 \times 6 =$

$8 \times 6 =$

$6 \times 6 =$

$3 \times 6 =$

$7 \times 6 =$

$3 \times 6 =$

$1 \times 6 =$

$3 \times 6 =$

$1 \times 6 =$

$10 \times 6 =$

$5 \times 6 =$

$3 \times 6 =$

$7 \times 6 =$

$10 \times 6 =$

$5 \times 6 =$

$5 \times 6 =$

$6 \times 6 =$

$7 \times 6 =$

$3 \times 6 =$

$7 \times 6 =$

$9 \times 6 =$

$7 \times 6 =$

$2 \times 6 =$

$2 \times 6 =$

$9 \times 6 =$

$3 \times 6 =$

$4 \times 6 =$

$6 \times 6 =$

$4 \times 6 =$

$6 \times 6 =$

$4 \times 6 =$

$5 \times 6 =$

$8 \times 6 =$

$2 \times 6 =$

$6 \times 6 =$

$10 \times 6 =$


Klaar? Oefen 10 verhaaltjessommen op www.verhaalsommen.nl


Daarna mag je als beloning een rekenspelletje spelen!


Vleksommen


Flip heeft inkt geknoeid.


Reken de sommen uit.





 $x 6 = 24$


 $x 6 = 30$


 $x 6 = 18$


 $x 6 = 36$


 $x 6 = 72$


 $x 6 = 42$


 $x 6 = 54$

 $x 6 = 48$

 $x 6 = 6$

 $x 6 = 60$






 $x 6 = 12$

 $x 6 = 66$






Klaar? Oefen 10 verhaaltjessommen op www.verhaalsommen.nl

Daarna mag je als beloning een rekenspelletje spelen!






Tel met sprongen van 6








18



60



66



102

Klaar? Oefen 10 verhaaltjessommen op www.verhaalsommen.nl

Daarna mag je als beloning een rekenspelletje spelen!

Antwoorden




Lees de verhaaltjes en reken de sommen uit.

Maak een tekening bij de som of schrijf de som op.

1. In een groepje zitten 6 kinderen.

Hoeveel kinderen zitten er in 8 groepjes? 48 kinderen




2. Aan een ketting zitten 6 kralen.

Hoeveel kralen zitten er aan 4 kettingen? 24 kralen




3. In een zak zitten 6 ballen.

Hoeveel ballen zitten er in 9 zakken? 54 ballen



4. Iedere week spaart Daan €6.

Hoeveel euro spaart Daan in 6 weken? 36 euro



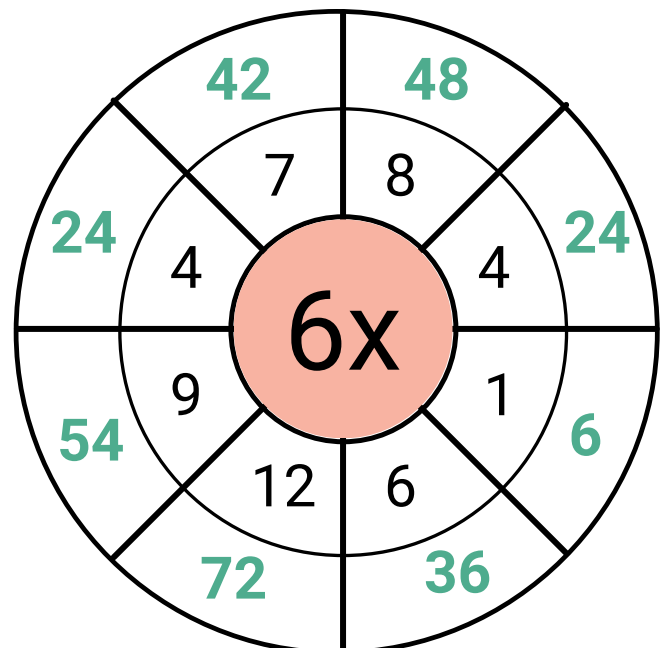
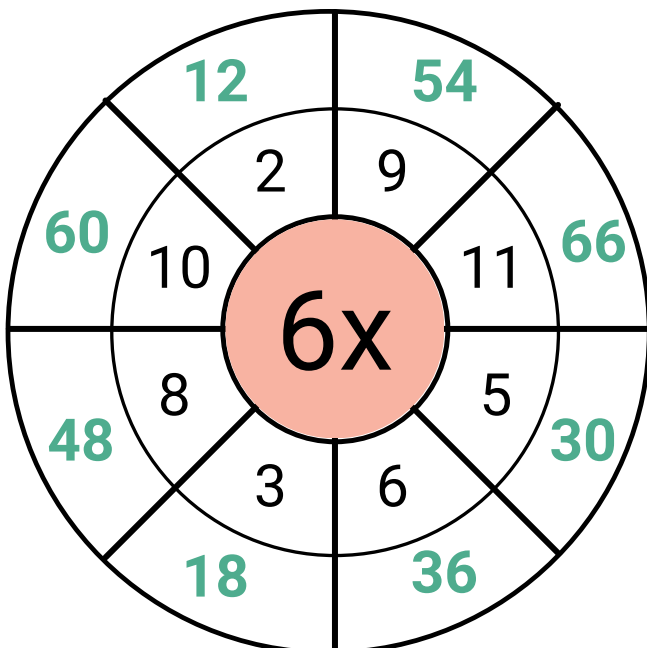
Geheime tekening

0x6	7x6	8x6	2x6	3x6	0x6	1x6	7x6	8x6	2x6
1x6	9x6	10x6	7x6	4x6	5x6	8x6	9x6	10x6	3x6
7x6	8x6	8x6	10x6	7x6	9x6	9x6	7x6	8x6	10x6
6x6	4x6	11x6	11x6	10x6	10x6	11x6	12x6	4x6	5x6
7x6	9x6	12x6	5x6	7x6	8x6	6x6	11x6	9x6	8x6
4x6	5x6	6x6	11x6	12x6	12x6	11x6	5x6	4x6	6x6
9x6	8x6	10x6	12x6	6x6	5x6	12x6	7x6	9x6	8x6
6x6	5x6	4x6	11x6	12x6	11x6	12x6	6x6	5x6	4x6
0x6	8x6	10x6	12x6	11x6	12x6	11x6	10x6	7x6	0x6
1x6	2x6	3x6	9x6	7x6	10x6	8x6	3x6	2x6	1x6

Antwoord	Kleur
0 tot en met 20	groen
21 tot en met 40	zwart
41 tot en met 60	oranje
61 tot en met 80	wit



Tafel van 6 rad



De tafel van 6

Reken de sommen uit.



$1 \times 6 = 6$

$2 \times 6 = 12$

$3 \times 6 = 18$

$4 \times 6 = 24$

$5 \times 6 = 30$

$3 \times 6 = 18$

$2 \times 6 = 12$

$8 \times 6 = 48$

$7 \times 6 = 42$

$7 \times 6 = 42$

$1 \times 6 = 6$

$9 \times 6 = 54$

$2 \times 6 = 12$

$8 \times 6 = 48$

$3 \times 6 = 18$

$6 \times 6 = 36$

$7 \times 6 = 42$

$8 \times 6 = 48$

$9 \times 6 = 54$

$10 \times 6 = 60$

$1 \times 6 = 6$

$4 \times 6 = 24$

$10 \times 6 = 60$

$5 \times 6 = 30$

$7 \times 6 = 42$

$7 \times 6 = 42$

$4 \times 6 = 24$

$6 \times 6 = 36$

$5 \times 6 = 30$

$5 \times 6 = 30$

$2 \times 6 = 12$

$9 \times 6 = 54$

$8 \times 6 = 48$

$8 \times 6 = 48$

$1 \times 6 = 6$

$5 \times 6 = 30$

$5 \times 6 = 30$

$7 \times 6 = 42$

$6 \times 6 = 36$

$3 \times 6 = 18$

$6 \times 6 = 36$

$3 \times 6 = 18$

$7 \times 6 = 42$

$4 \times 6 = 24$

$8 \times 6 = 48$

Klaar? Oefen 10 verhaaltjessommen op www.verhaalsommen.nl

Daarna mag je als beloning een rekenspelletje spelen!

Rekenzoeker



Zoek en omcirkel keersommen van de tafel van 6.
Schrijf ze in de tabel.

8	6	$30 = 6 \times 5$	12	1	$3 \times 6 = 18$
0	6	18	11	$12 \times 6 = 72$	6
18	$1 \times 6 = 6$	24	35	9	18
$8 \times 6 = 48$	66	10	5	9	6
4	12	30	12	6	$24 = 6 \times 4$
1	45	$6 \times 6 = 36$	5	54	18
66	72	32	2	42	6
$42 = 6 \times 7$	54	40	$60 = 6 \times 10$	30	3

$1 \times 6 = 6$	$7 \times 6 = 42$
$2 \times 6 = 12$	$8 \times 6 = 48$
$3 \times 6 = 18$	$9 \times 6 = 54$
$4 \times 6 = 24$	$10 \times 6 = 60$
$5 \times 6 = 30$	$11 \times 6 = 66$
$6 \times 6 = 36$	$12 \times 6 = 72$

Kleurplaat tafel van 6




Welke kleur hoort bij het antwoord?

Reken uit en kleur in. Ben je klaar?

Ga dan naar www.verhaalsommen.nl


Speel het leuke rekenspelletje **Sommen en kleuren!**



Reken uit


Hoeveel samen?

Schrijf de keersom en het antwoord op.




Keersom: $3 \times 6 =$ _____

Antwoord: **18** _____ koekjes



Keersom: $7 \times 6 =$ _____

Antwoord: **42** _____ potloden



Keersom: $9 \times 6 =$ _____

Antwoord: **54** _____ stukjes fruit

Klaar? Oefen 10 verhaaltjessommen op www.verhaalsommen.nl

Daarna mag je als beloning een rekenspelletje spelen!

Vul de tabel in




Vul de tabel in.

Denk aan de tafel van 6.



Doos	1	2	4	6
Bonbons	6	12	24	36



Doos	1	3	5	7
Eieren	6	18	30	42

Reken uit

$2 \times 6 = 12$

$5 \times 6 = 30$

$6 \times 6 = 36$

$9 \times 6 = 54$

$4 \times 6 = 24$

$3 \times 6 = 18$

$8 \times 6 = 48$

$7 \times 6 = 42$

$7 \times 6 = 42$

$8 \times 6 = 48$

$6 \times 6 = 36$

$4 \times 6 = 24$

$1 \times 6 = 6$

$3 \times 6 = 18$

$8 \times 6 = 48$

Klaar? Oefen 10 verhaaltjessommen op www.verhaalsommen.nl

Daarna mag je als beloning een rekenspelletje spelen!

Doolhof



Kleur de keersommen die goed zijn.
Vind zo een weg door het doolhof.

start					
$3 \times 6 = 18$	$10 \times 6 = 60$	$0 \times 6 = 6$	$9 \times 6 = 53$	$3 \times 6 = 12$	$4 \times 6 = 21$
$5 \times 6 = 30$	$1 \times 6 = 60$	$10 \times 6 = 6$	$11 \times 6 = 61$	$8 \times 6 = 49$	$9 \times 6 = 27$
$7 \times 6 = 42$	$2 \times 6 = 12$	$8 \times 6 = 48$	$1 \times 6 = 6$	$7 \times 6 = 49$	$6 \times 6 = 33$
$12 \times 6 = 64$	$3 \times 6 = 15$	$4 \times 6 = 26$	$9 \times 6 = 54$	$5 \times 6 = 25$	$0 \times 6 = 6$
$9 \times 6 = 56$	$4 \times 6 = 24$	$6 \times 6 = 36$	$11 \times 6 = 66$	$11 \times 6 = 61$	$6 \times 6 = 34$
$10 \times 6 = 6$	$12 \times 6 = 72$	$2 \times 6 = 16$	$8 \times 6 = 46$	$5 \times 6 = 36$	$12 \times 6 = 66$
$8 \times 6 = 47$	$5 \times 6 = 30$	$3 \times 6 = 18$	$1 \times 6 = 6$	$7 \times 6 = 42$	$9 \times 6 = 54$
$2 \times 6 = 11$	$6 \times 6 = 30$	$7 \times 6 = 41$	$0 \times 6 = 6$	$3 \times 6 = 16$	$11 \times 6 = 66$
$7 \times 6 = 43$	$10 \times 6 = 6$	$1 \times 6 = 60$	$4 \times 6 = 26$	$4 \times 6 = 24$	$2 \times 6 = 12$
$5 \times 6 = 25$	$12 \times 6 = 72$	$10 \times 6 = 60$	$8 \times 6 = 48$	$6 \times 6 = 36$	$8 \times 6 = 46$
$7 \times 6 = 42$	$9 \times 6 = 54$	$6 \times 6 = 30$	$9 \times 6 = 56$	$10 \times 6 = 6$	$11 \times 6 = 61$
$5 \times 6 = 30$	$4 \times 6 = 26$	$3 \times 6 = 16$	$8 \times 6 = 49$	$7 \times 6 = 41$	$1 \times 6 = 60$
$3 \times 6 = 18$	$12 \times 6 = 72$	$10 \times 6 = 60$	$8 \times 6 = 48$	$6 \times 6 = 36$	$7 \times 6 = 41$
$1 \times 6 = 1$	$5 \times 6 = 35$	$12 \times 6 = 64$	$9 \times 6 = 52$	$4 \times 6 = 24$	$5 \times 6 = 35$

Eind

Teken het verhaal



Bedenk een verhaal bij de som en reken de som uit.

Je mag het verhaal tekenen of schrijven.

$$7 \times 6 = 42$$



$$3 \times 6 = 18$$



$$5 \times 6 = 30$$



$$8 \times 6 = 48$$



Klaar? Oefen 10 verhaaltjessommen op www.verhaalsommen.nl

Daarna mag je als beloning een rekenspelletje spelen!

Tafel tijd

Zet een timer op 2 minuten.
Hoeveel sommen kan jij maken?
Zet een streep tot waar je komt.



$9 \times 6 = 54$

$2 \times 6 = 12$

$8 \times 6 = 48$

$4 \times 6 = 24$

$3 \times 6 = 18$

$5 \times 6 = 30$

$2 \times 6 = 12$

$9 \times 6 = 54$

$8 \times 6 = 48$

$7 \times 6 = 42$

$9 \times 6 = 54$

$2 \times 6 = 12$

$7 \times 6 = 42$

$6 \times 6 = 36$

$3 \times 6 = 18$

$1 \times 6 = 6$

$10 \times 6 = 60$

$7 \times 6 = 42$

$5 \times 6 = 30$

$3 \times 6 = 18$

$3 \times 6 = 18$

$5 \times 6 = 30$

$10 \times 6 = 60$

$6 \times 6 = 36$

$7 \times 6 = 42$

$1 \times 6 = 6$

$3 \times 6 = 18$

$5 \times 6 = 30$

$7 \times 6 = 42$

$9 \times 6 = 54$

$7 \times 6 = 42$

$9 \times 6 = 54$

$6 \times 6 = 36$

$4 \times 6 = 24$

$2 \times 6 = 12$

$2 \times 6 = 12$

$3 \times 6 = 18$

$4 \times 6 = 24$

$5 \times 6 = 30$

$6 \times 6 = 36$

$2 \times 6 = 12$

$4 \times 6 = 24$

$6 \times 6 = 36$

$8 \times 6 = 48$

$10 \times 6 = 60$


Klaar? Oefen 10 verhaaltjessommen op www.verhaalsommen.nl


Daarna mag je als beloning een rekenspelletje spelen!


Vleksommen


Flip heeft inkt geknoeid.


Reken de sommen uit.





 $4 \times 6 = 24$


 $5 \times 6 = 30$


 $3 \times 6 = 18$


 $6 \times 6 = 36$


 $12 \times 6 = 72$


 $7 \times 6 = 42$


 $9 \times 6 = 54$

 $8 \times 6 = 48$

 $1 \times 6 = 6$

 $10 \times 6 = 60$


 $2 \times 6 = 12$

 $11 \times 6 = 66$


Klaar? Oefen 10 verhaaltjessommen op www.verhaalsommen.nl

Daarna mag je als beloning een rekenspelletje spelen!


Tel met sprongen van 6




6




12




18




24




30




36




42




48




54




60




66




72




78




84



90




96



102



108



114



120

Klaar? Oefen 10 verhaaltjessommen op www.verhaalsommen.nl

Daarna mag je als beloning een rekenspelletje spelen!