

# Zweeds renspel

Groep 6




[www.verhaalsommen.nl](http://www.verhaalsommen.nl)

## Zweeds renspel

Een Zweeds Renspel is een leuke en effectieve manier om kinderen te laten leren terwijl ze actief bezig zijn. Hang de opdrachtkaarten verspreid op over het schoolplein, in de gangen of het klaslokaal. De kinderen lezen de vragen, bedenken de antwoorden en noteren deze op het antwoordblad. Op het antwoordblad is ruimte om denkstappen op te schrijven of een tekening te maken van de som. Er is een pagina met beweegoefeningen, je kunt deze optioneel ophangen. Als de kinderen klaar zijn, kunnen ze 10 verhaaltjessommen oefenen op [www.verhaalsommen.nl](http://www.verhaalsommen.nl). Als beloning mogen ze een rekenspelletje spelen!

## Antwoorden

- |                |                  |
|----------------|------------------|
| A. 54 minuten  | I. €581          |
| B. 6.000 meter | J. €1,70         |
| C. 5 kilometer | K. 8 pakjes      |
| D. $2/6 - 1/3$ | L. €9            |
| E. €438        | M. $6/10 - 3/5$  |
| F. $3/8$       | N. 5 kilometer   |
| G. 20 schepjes | O. €51           |
| H. 41 zakken   | P. 70 pepernoten |



# Antwoordblad

Reken de sommen uit. Schrijf de som op of maak een tekening van de som.

Ben je klaar? Oefen 10 verhaaltjessommen op [www.verhaalsommen.nl](http://www.verhaalsommen.nl).

Daarna mag je een rekenspelletje spelen!

A.	E.	I.	M.
B.	F.	J.	N.
C.	G.	K.	O.
D.	H.	L.	P.

A.

Om 22.09 vertrekt Pakjesboot 12 naar Nederland.  
Over hoeveel minuten is dat?



C.

Piet fietst in totaal 15 kilometer. Hij heeft al  $\frac{1}{3}$  deel gefietst. Hoeveel kilometer heeft Piet al gefietst?




B.

De intocht van Sinterklaas is totaal 6 kilometer.  
Hoeveel meter is dat?




D.

De bakpiet heeft een pizza gebakken.  
Hij heeft nog een deel van de pizza over.  
Welke breuk hoort daarbij?



E.

Piet koopt 6 cadeautjes van €73,- per stuk.  
Hoeveel euro moet Piet betalen?




G.

Om 1 kilo speculaas te bakken, heeft de bakpiet  
5 schepjes suiker nodig. Hoeveel schepjes heeft de  
bakpiet nodig om 4 kilo speculaas te bakken?



F.

Piet en zijn vrienden eten een appeltaart.  
Ze hebben een deel van de taart over.  
Welke breuk hoort daarbij?



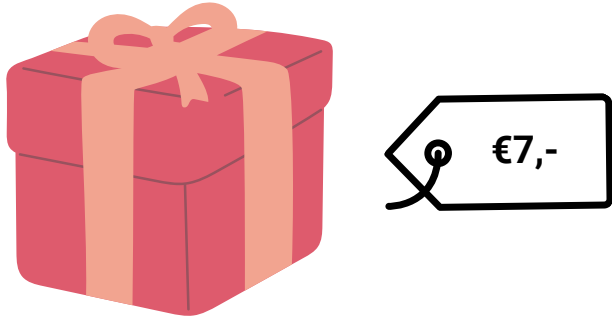
H.

Piet pakt 328 cadeautjes in voor pakjesavond.  
In een zak gaan 8 cadeautjes.  
Hoeveel zakken kan Piet vullen?



I.

Piet koopt 83 schoencadeautjes van €7,- per stuk.  
Hoeveel euro moet hij betalen?



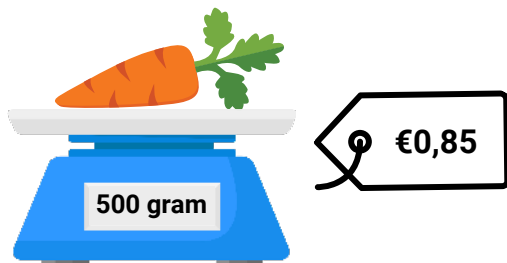
K.

In één uur bezorgt Piet 32 pakjes.  
Hoeveel pakjes bezorgt hij in een kwartier?



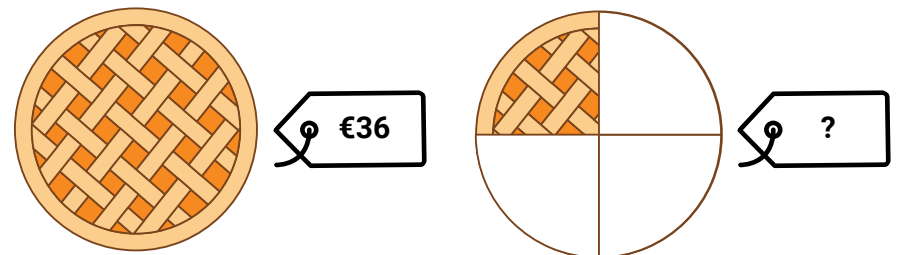
J.

500 gram wortels kost €0,85.  
Sinterklaas koopt 1 kilo wortels.  
Hoeveel euro moet Sinterklaas betalen?



L.

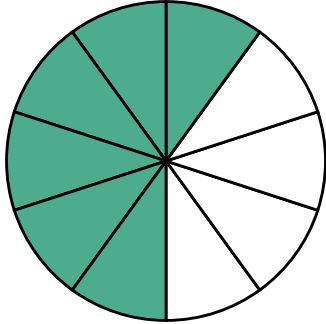
Piet koopt  $\frac{1}{4}$  deel van een taart.  
De hele taart kost €36.  
Hoeveel kost  $\frac{1}{4}$  deel van de taart?



M.

Welk deel is gekleurd?

Schrijf de breuk op.



O.

Sinterklaas heeft €357 gespaard.

Van dit bedrag koopt hij 7 dezelfde cadeau's.

Hoeveel euro kost ieder cadeau?




N.

Pietje Pim ging uit fietsen.

Hij fietst 20 kilometer een uur.

Hoeveel kilometer fietst hij in een kwartier?



P.


Piet heeft 560 pepernoten.

Hij verdeelt de pepernoten eerlijk onder 8 kinderen.

Hoeveel pepernoten krijgt ieder kind?



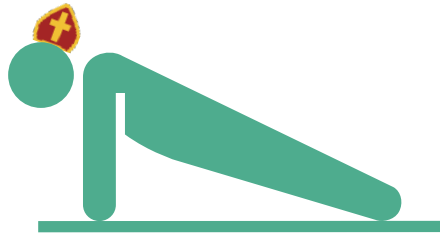
Doe 20 jumping jacks.



Doe 10 squats.



Doe 10 push ups.



Spring 10 keer zo hoog mogelijk in de lucht.





# VERHAAL SOMMEN

Veel plezier met oefenen in de klas.

Op zoek naar een leerzame klaaropdracht?

Op Verhaalsommen oefenen kinderen gratis redactiesommen.

Als beloning mogen ze een rekenspelletje spelen.