

# Zweeds renspel

Groep 5




[www.verhaalsommen.nl](http://www.verhaalsommen.nl)

## Zweeds renspel

Een Zweeds Renspel is een leuke en effectieve manier om kinderen te laten leren terwijl ze actief bezig zijn. Hang de opdrachtkaarten verspreid op over het schoolplein, in de gangen of het klaslokaal. De kinderen lezen de vragen, bedenken de antwoorden en noteren deze op het antwoordblad. Op het antwoordblad is ruimte om denkstappen op te schrijven of een tekening te maken van de som. Er is een pagina met beweegoefeningen, je kunt deze optioneel ophangen. Als de kinderen klaar zijn, kunnen ze 10 verhaaltjessommen oefenen op [www.verhaalsommen.nl](http://www.verhaalsommen.nl). Als beloning mogen ze een rekenspelletje spelen!

## Antwoorden

- |                        |                 |
|------------------------|-----------------|
| A. 60 wortels          | I. 6 euro       |
| B. 90 chocoladeletters | J. 282 pakjes   |
| C. 140 pakjes          | K. 535 pakjes   |
| D. 128 snoepjes        | L. 21 zakken    |
| E. 13 briefjes         | M. 9            |
| F. 95 bladzijdes       | N. kwart voor 1 |
| G. 406 euro            | O. 9 zakken     |
| H. 2.000 meter         | P. 6 weken      |



# Antwoordblad

Reken de sommen uit. Schrijf de som op of maak een tekening van de som.

Ben je klaar? Oefen 10 verhaaltjessommen op [www.verhaalsommen.nl](http://www.verhaalsommen.nl).

Daarna mag je een rekenspelletje spelen!

A.	E.	I.	M.
B.	F.	J.	N.
C.	G.	K.	O.
D.	H.	L.	P.

A.

Piet heeft 12 zakken met 5 wortels.  
Hoeveel wortels zijn dat samen?



C.

Er zijn 14 zakken met 10 pakjes.  
Hoeveel pakjes zijn dat in totaal?




B.

Piet heeft 180 letters. De helft is gesmolten.  
Hoeveel letters zijn er nog over?




D.

Bo heeft 64 snoepjes. Sam heeft er twee keer zo  
veel. Hoeveel snoepjes heeft Sam?




E.

Piet koopt een robot van €130. Hij betaalt met briefjes van €10. Hoeveel briefjes heeft hij nodig?



G.

Piet heeft €500. Hij koopt een cadeau van €94. Hoeveel euro heeft Piet over?




F.

Sint lees uit het grote boek op bladzijde 320. Hij wil lezen tot bladzijde 415. Hoeveel bladzijdes moet hij nog lezen?



H.

Kleine Piet ging uit fietsen. Na 2 kilometer klapte zijn band. Na hoeveel **meter** was dat?



I.

Piet moet €42 betalen voor 7 dezelfde boeken.  
Hoeveel euro kost ieder boek?



K.

Sint had 615 pakjes, maar is er 80 kwijt!  
Hoeveel pakjes heeft hij over?



J.

Piet heeft 241 blauwe, 22 groene en 19 gele pakjes.  
Hoeveel pakjes zijn dat samen?



241



22



19

L.

Piet heeft 210 pakjes. Hij doet 10 pakjes in een zak.  
Hoeveel zakken kan hij vol maken?



210

M.

Wat moet er staan op de plaats van het pakje?

$$8 \times \text{pakje} = 72$$

O.

Piet heeft 81 pakjes. In een zak passen 9 pakjes.  
Hoeveel zakken kan Piet vullen?




N.

Kijk naar het plaatje.  
Hoe laat vertrekt de stoomboot?




P.

Piet spaart voor een fiets van €105.  
Elke week spaart hij €20. Hoeveel weken moet hij  
sparen om de fiets te kunnen kopen?



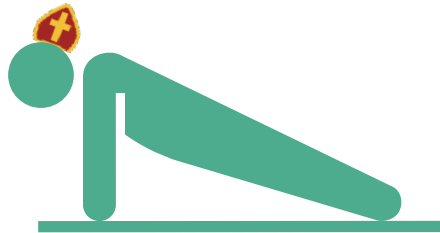
Doe 20 jumping jacks.



Doe 10 squats.



Doe 10 push ups.



Spring 10 keer zo hoog mogelijk in de lucht.





# VERHAAL SOMMEN

Veel plezier met oefenen in de klas.

Op zoek naar een leerzame klaaropdracht?

Op Verhaalsommen oefenen kinderen gratis redactiesommen.

Als beloning mogen ze een rekenspelletje spelen.