

Zweeds renspel

Groep 4




www.verhaalsommen.nl

Zweeds renspel

Een Zweeds Renspel is een leuke en effectieve manier om kinderen te laten leren terwijl ze actief bezig zijn. Hang de opdrachtkaarten verspreid op over het schoolplein, in de gangen of het klaslokaal. De kinderen lezen de vragen, bedenken de antwoorden en noteren deze op het antwoordblad. Op het antwoordblad is ruimte om denkstappen op te schrijven of een tekening te maken van de som. Er is een pagina met beweegoefeningen, je kunt deze optioneel ophangen. Als de kinderen klaar zijn, kunnen ze 10 verhaaltjessommen oefenen op www.verhaalsommen.nl. Als beloning mogen ze een rekenspelletje spelen!

Antwoorden

- | | |
|----------------|---------------|
| A. 15 wortels | I. 24 pakjes |
| B. 8 letters | J. 32 pakjes |
| C. 18 pakjes | K. 53 pakjes |
| D. 18 snoepjes | L. 4 zakken |
| E. 50 euro | M. 40 |
| F. 52 euro | N. 30 minuten |
| G. 29 euro | O. 4 zakken |
| H. 34 | P. 15 koekjes |



Antwoordblad

Reken de sommen uit. Schrijf de som op of maak een tekening van de som.

Ben je klaar? Oefen 10 verhaaltjessommen op www.verhaalsommen.nl.

Daarna mag je een rekenspelletje spelen!

A.	E.	I.	M.
B.	F.	J.	N.
C.	G.	K.	O.
D.	H.	L.	P.

A.

Piet heeft 3 zakken met 5 wortels.
Hoeveel wortels zijn dat samen?



C.

Er zijn 3 stapels met 6 pakjes.
Hoeveel pakjes zijn dat samen?




B.

Piet heeft 16 letters. De helft is gesmolten.
Hoeveel letters zijn er nog over?



D.

Bo heeft 9 snoepjes. Sam heeft er twee keer zo
veel. Hoeveel snoepjes heeft Sam?



E.

Piet heeft €30 in zijn spaarpot.

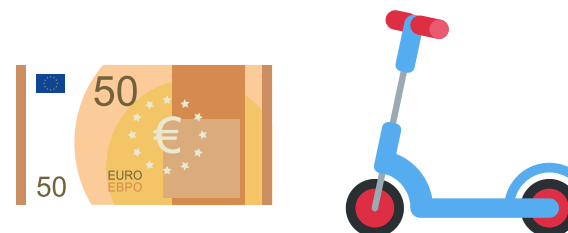
Hij doet er nog €20 bij. Hoeveel euro heeft Piet?



G.

Piet heeft €50. Hij koopt een step voor €21.


Hoeveel euro heeft Piet over?



F.


Piet heeft €12. Hij krijgt van Sint 4 briefjes van €10.

Hoeveel euro heeft Piet?



H.

Piet brengt pakjes. Welk huisnummer hoort op de plek van het vraagteken?



I.

Piet heeft 4 zakken met 6 pakjes.
Hoeveel pakjes zijn dat samen?



K.

Sint had 61 pakjes, maar is er 8 kwijt!
Hoeveel pakjes heeft hij over?



J.

Piet heeft 8 blauwe, 22 groene en 2 gele pakjes.
Hoeveel pakjes zijn dat samen?



8



22



2

L.

Piet heeft 40 pakjes. Hij doet 10 pakjes in een zak.
Hoeveel zakken kan hij vol maken?



40

M.

Wat moet er staan op de plaats van het pakje?

$$8 + \text{pakje} = 48$$

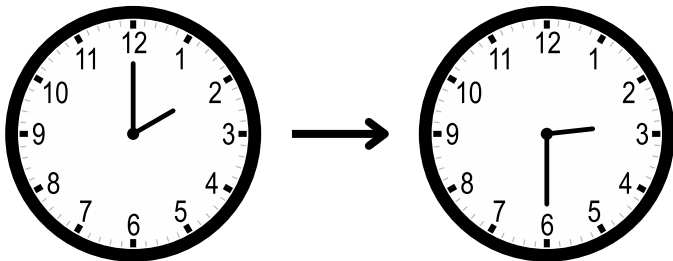
O.

Piet heeft 16 pakjes. In een zak passen 4 pakjes.
Hoeveel zakken kan Piet vullen?



N.

Het is nu 2 uur. Om half 3 vertrekt de stoomboot.
Over hoeveel minuten is dat?




P.

Piet bakt koekjes. Hij maakt 5 zakjes 3 koekjes.
Hoeveel koekjes zijn dat in totaal?



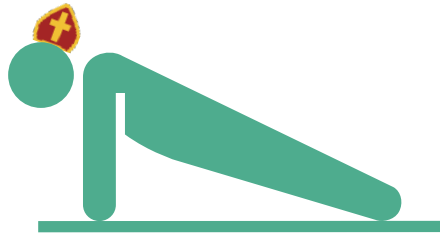
Doe 20 jumping jacks.



Doe 10 squats.



Doe 10 push ups.



Spring 10 keer zo hoog mogelijk in de lucht.



• ✂ VERHAAL SOMMEN ✂

Veel plezier met oefenen in de klas.

Op zoek naar een leerzame klaaropdracht?

Op Verhaalsommen oefenen kinderen gratis redactiesommen.

Als beloning mogen ze een rekenspelletje spelen.