

VERHAAL

SOMMEN



Werkboekje van:

www.verhaalsommen.nl

Verhaaltjessommen

1. Een laptop kost €879. Een klant koopt er 2 tegelijk.
Hij krijgt daarom in totaal €120 korting.
Hoeveel euro moet hij betalen?

_____ euro



2. Fee heeft 422 kralen.
Julian heeft 379 kralen.
Hoeveel kralen zijn dat samen?

_____ kralen

3. Sophie verdient elke week €80.
Iedere week spaart ze de helft van haar geld.
Na hoeveel weken heeft ze €320 gespaard?

_____ weken



4. Na het sporten drinkt Ruben één liter water.
Max drinkt 628 milliliter.
Hoeveel milliliter drinkt Ruben meer dan Max?

_____ milliliter


5. Het feest begint om 16.35
Het is nu 10 over half 3.
Over hoeveel minuten begint het feest?

_____ minuten



Klaar? Oefen 10 verhaaltjessommen op **www.verhaalsommen.nl**
Daarna mag je als beloning een rekenspelletje spelen!

Breuken vereenvoudigen



$$\frac{1}{2}$$

$$\frac{3}{4}$$

$$\frac{3}{5}$$

$$\frac{1}{5}$$

$$\frac{2}{3}$$

$$\frac{5}{6}$$

$$\frac{1}{3}$$

$$\frac{1}{6}$$

$$\frac{1}{8}$$

$$\frac{3}{8}$$

$$\frac{30}{50}$$

$$\frac{9}{12}$$

$$\frac{27}{45}$$

$$\frac{5}{25}$$

$$\frac{40}{48}$$

$$\frac{12}{20}$$

$$\frac{12}{32}$$

$$\frac{9}{27}$$

$$\frac{4}{6}$$

$$\frac{3}{24}$$

$$\frac{8}{24}$$

$$\frac{8}{64}$$

$$\frac{33}{44}$$

$$\frac{6}{30}$$

$$\frac{15}{25}$$

$$\frac{6}{36}$$

$$\frac{4}{6}$$

$$\frac{21}{28}$$

$$\frac{35}{42}$$

$$\frac{33}{55}$$

$$\frac{21}{56}$$

$$\frac{24}{32}$$

$$\frac{10}{12}$$

$$\frac{7}{14}$$


$$\frac{6}{9}$$

$$\frac{7}{56}$$

$$\frac{4}{6}$$

Verhaaltjessommen

1. Fee plukt 143 kersen in haar moestuin.
Ze verdeelt de kersen over 13 doosjes.
Hoeveel kersen gaan er in ieder doosje?



_____ kersen

2. Dierenverzorger Jan heeft 9 grote dozen.
In iedere doos zitten 24 vissen om te voeren.
Hoeveel vissen zijn dat samen?

_____ vissen

3. In het bos staan 1.024 bomen.
De boswachter moet 55 bomen kappen.
Hoeveel bomen blijven er over?




_____ bomen

4. Op maandag telt de boswachter 845 bomen.
Op dinsdag telt hij er nog eens 384.
Hoeveel bomen telt de boswachter in totaal?

_____ bomen

5. Een grote fruitboom kost €126.
Adil koopt 4 fruitbomen.
Hoeveel euro moet hij betalen?



_____ euro

Klaar? Oefen 10 verhaaltjessommen op www.verhaalsommen.nl
Daarna mag je als beloning een rekenspelletje spelen!

Breuken vereenvoudigen

Maak de breuken zo klein mogelijk.

$$\frac{30}{35} = \text{---}$$

$$\frac{42}{49} = \text{---}$$

$$\frac{6}{15} = \text{---}$$

$$\frac{16}{20} = \text{---}$$

$$\frac{60}{70} = \text{---}$$

$$\frac{10}{18} = \text{---}$$

$$\frac{25}{35} = \text{---}$$

$$\frac{16}{56} = \text{---}$$

$$\frac{45}{72} = \text{---}$$

$$\frac{40}{64} = \text{---}$$

$$\frac{12}{30} = \text{---}$$

$$\frac{8}{28} = \text{---}$$

$$\frac{12}{14} = \text{---}$$

$$\frac{4}{6} = \text{---}$$

$$\frac{15}{40} = \text{---}$$

$$\frac{30}{40} = \text{---}$$

$$\frac{20}{30} = \text{---}$$

$$\frac{16}{28} = \text{---}$$

$$\frac{12}{32} = \text{---}$$

$$\frac{16}{24} = \text{---}$$

$$\frac{24}{32} = \text{---}$$

$$\frac{4}{14} = \text{---}$$

$$\frac{8}{12} = \text{---}$$

$$\frac{72}{81} = \text{---}$$

$$\frac{36}{81} = \text{---}$$

$$\frac{63}{81} = \text{---}$$

$$\frac{6}{10} = \text{---}$$

$$\frac{10}{12} = \text{---}$$

$$\frac{21}{49} = \text{---}$$


$$\frac{40}{45} = \text{---}$$

Klaar? Oefen 10 verhaaltjessommen op www.verhaalsommen.nl
Daarna mag je als beloning een rekenspelletje spelen!


Breuken

Zet de breuken van groot naar klein.


$\frac{2}{5} \quad \frac{1}{5} \quad \frac{4}{5} \quad \frac{3}{5}$




$\frac{6}{8} \quad \frac{4}{8} \quad \frac{7}{8} \quad \frac{1}{8}$




$\frac{4}{6} \quad \frac{1}{6} \quad \frac{2}{6} \quad \frac{5}{6}$



$\frac{5}{9} \quad \frac{3}{9} \quad \frac{7}{9} \quad \frac{8}{9}$



$\frac{3}{10} \quad \frac{5}{10} \quad \frac{8}{10} \quad \frac{1}{10}$



Zet de breuken van klein naar groot.

$\frac{1}{8} \quad \frac{1}{5} \quad \frac{1}{4} \quad \frac{1}{6}$



$\frac{1}{5} \quad \frac{1}{2} \quad \frac{1}{3} \quad \frac{1}{4}$



$\frac{1}{7} \quad \frac{1}{3} \quad \frac{1}{5} \quad \frac{1}{6}$



$\frac{1}{6} \quad \frac{1}{2} \quad \frac{1}{4} \quad \frac{1}{5}$




$\frac{1}{8} \quad \frac{1}{5} \quad \frac{1}{10} \quad \frac{1}{2}$



Verhaaltjessommen

1. In het aquarium zitten 1.045 blauwe en 238 paarse vissen.
Hoeveel vissen zijn dat samen?



1.045

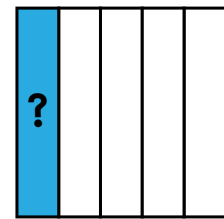
238

_____ vissen

2. In het bos staan 1.263 bomen.
Er worden 720 bomen gekapt en 660 bomen geplant.
Hoeveel bomen staan er in het bos?

_____ bomen

3. In de dierentuin wonen 125 dieren.
 $\frac{1}{5}$ deel van de dieren is een zoogdier.
Hoeveel zoogdieren wonen er in de dierentuin?



125

_____ zoogdieren

4. $\frac{1}{4}$ deel van de fruitbomen is een appelboom.
Dat zijn 7 appelbomen.
Hoeveel fruitbomen zijn er in totaal?

_____ fruitbomen

5. Het is nu 15.25 uur. Om 5 uur worden de
dieren gevoerd. Over hoeveel minuten is dat?




_____ minuten

Klaar? Oefen 10 verhaaltjessommen op www.verhaalsommen.nl
Daarna mag je als beloning een rekenspelletje spelen!

Teken wat je leest

Flip staat op de bodem van de zee en kijkt om zich heen. Op de bodem naast Flip ligt een zeester. Naast de zeester staat een prachtige waterplant. In de buurt van Flip zwemt een klein, rood zeepaardje. Wat bijzonder! Flip kijkt verder en ziet drie prachtige vissen. Twee van de vissen hebben wit met rode strepen. De andere vis is oranje met geel gekleurd. Plots ziet Flip verderop een kwal in het water. Op het water vaart een bootje. In het bootje zit Tom. Hij heeft een gestreept shirt aan en een pet op zijn hoofd. Dat is maar goed ook, want de zon schijnt fel op het water.



Antwoorden

1. Een laptop kost €879. Een klant koopt er 2 tegelijk.
Hij krijgt daarom in totaal €120 korting.
Hoeveel euro moet hij betalen?



1.638 euro

2. Fee heeft 422 kralen.
Julian heeft 379 kralen.
Hoeveel kralen zijn dat samen?

801 kralen

3. Sophie verdient elke week €80.
Iedere week spaart ze de helft van haar geld.
Na hoeveel weken heeft ze €320 gespaard?



8 weken

4. Na het sporten drinkt Ruben één liter water.
Max drinkt 628 milliliter.
Hoeveel milliliter drinkt Ruben meer dan Max?

372 milliliter

5. Het feest begint om 16.35
Het is nu 10 over half 3.
Over hoeveel minuten begint het feest?




55 minuten

Klaar? Oefen 10 verhaaltjessommen op **www.verhaalsommen.nl**
Daarna mag je als beloning een rekenspelletje spelen!

Antwoorden

1. Fee plukt 143 kersen in haar moestuin.
Ze verdeelt de kersen over 13 doosjes.
Hoeveel kersen gaan er in ieder doosje?



11 kersen

2. Dierenverzorger Jan heeft 9 grote dozen.
In iedere doos zitten 24 vissen om te voeren.
Hoeveel vissen zijn dat samen?

216 vissen

3. In het bos staan 1.024 bomen.
De boswachter moet 55 bomen kappen.
Hoeveel bomen blijven er over?




969 bomen

4. Op maandag telt de boswachter 845 bomen.
Op dinsdag telt hij er nog eens 384.
Hoeveel bomen telt de boswachter in totaal?

1.229 bomen

5. Een grote fruitboom kost €126.
Adil koopt 4 fruitbomen.
Hoeveel euro moet hij betalen?



504 euro

Klaar? Oefen 10 verhaaltjessommen op www.verhaalsommen.nl
Daarna mag je als beloning een rekenspelletje spelen!

Antwoorden

Maak de breuken zo klein mogelijk.

$$\frac{30}{35} = \frac{6}{7}$$

$$\frac{42}{49} = \frac{6}{7}$$

$$\frac{6}{15} = \frac{2}{5}$$

$$\frac{16}{20} = \frac{4}{5}$$

$$\frac{60}{70} = \frac{6}{7}$$

$$\frac{10}{18} = \frac{5}{9}$$

$$\frac{25}{35} = \frac{5}{7}$$

$$\frac{16}{56} = \frac{2}{7}$$

$$\frac{45}{72} = \frac{5}{8}$$

$$\frac{40}{64} = \frac{5}{8}$$

$$\frac{12}{30} = \frac{2}{5}$$

$$\frac{8}{28} = \frac{2}{7}$$

$$\frac{12}{14} = \frac{6}{7}$$

$$\frac{4}{6} = \frac{2}{3}$$

$$\frac{15}{40} = \frac{3}{8}$$

$$\frac{30}{40} = \frac{3}{4}$$

$$\frac{20}{30} = \frac{2}{3}$$

$$\frac{16}{28} = \frac{4}{7}$$

$$\frac{12}{32} = \frac{3}{8}$$

$$\frac{16}{24} = \frac{2}{3}$$

$$\frac{24}{32} = \frac{3}{4}$$

$$\frac{4}{14} = \frac{2}{7}$$

$$\frac{8}{12} = \frac{2}{3}$$

$$\frac{72}{81} = \frac{8}{9}$$

$$\frac{36}{81} = \frac{4}{9}$$

$$\frac{63}{81} = \frac{7}{9}$$

$$\frac{6}{10} = \frac{3}{5}$$

$$\frac{10}{12} = \frac{5}{6}$$

$$\frac{21}{49} = \frac{3}{7}$$

$$\frac{40}{45} = \frac{8}{9}$$

Klaar? Oefen 10 verhaaltjessommen op www.verhaalsommen.nl

Daarna mag je als beloning een rekenspelletje spelen!

Antwoorden

Zet de breuken van groot naar klein.

$$\frac{2}{5} \quad \frac{1}{5} \quad \frac{4}{5} \quad \frac{3}{5}$$

$$\frac{4}{5} \rightarrow \frac{3}{5} \rightarrow \frac{2}{5} \rightarrow \frac{1}{5}$$

$$\frac{6}{8} \quad \frac{4}{8} \quad \frac{7}{8} \quad \frac{1}{8}$$

$$\frac{7}{8} \rightarrow \frac{6}{8} \rightarrow \frac{4}{8} \rightarrow \frac{1}{8}$$

$$\frac{4}{6} \quad \frac{1}{6} \quad \frac{2}{6} \quad \frac{5}{6}$$

$$\frac{5}{6} \rightarrow \frac{4}{6} \rightarrow \frac{2}{6} \rightarrow \frac{1}{6}$$

$$\frac{5}{9} \quad \frac{3}{9} \quad \frac{7}{9} \quad \frac{8}{9}$$

$$\frac{8}{9} \rightarrow \frac{7}{9} \rightarrow \frac{5}{9} \rightarrow \frac{3}{9}$$

$$\frac{3}{10} \quad \frac{5}{10} \quad \frac{8}{10} \quad \frac{1}{10}$$

$$\frac{8}{10} \rightarrow \frac{5}{10} \rightarrow \frac{3}{10} \rightarrow \frac{1}{10}$$

Zet de breuken van klein naar groot.

$$\frac{1}{8} \quad \frac{1}{5} \quad \frac{1}{4} \quad \frac{1}{6}$$

$$\frac{1}{8} \rightarrow \frac{1}{6} \rightarrow \frac{1}{5} \rightarrow \frac{1}{4}$$

$$\frac{1}{5} \quad \frac{1}{2} \quad \frac{1}{3} \quad \frac{1}{4}$$

$$\frac{1}{5} \rightarrow \frac{1}{4} \rightarrow \frac{1}{3} \rightarrow \frac{1}{2}$$

$$\frac{1}{7} \quad \frac{1}{3} \quad \frac{1}{5} \quad \frac{1}{6}$$

$$\frac{1}{7} \rightarrow \frac{1}{6} \rightarrow \frac{1}{5} \rightarrow \frac{1}{3}$$

$$\frac{1}{6} \quad \frac{1}{2} \quad \frac{1}{4} \quad \frac{1}{5}$$


$$\frac{1}{6} \rightarrow \frac{1}{5} \rightarrow \frac{1}{4} \rightarrow \frac{1}{2}$$

$$\frac{1}{8} \quad \frac{1}{5} \quad \frac{1}{10} \quad \frac{1}{2}$$

$$\frac{1}{10} \rightarrow \frac{1}{8} \rightarrow \frac{1}{5} \rightarrow \frac{1}{2}$$

Antwoorden

1. In het aquarium zitten 1.045 blauwe en 238 paarse vissen.
Hoeveel vissen zijn dat samen?



1.045

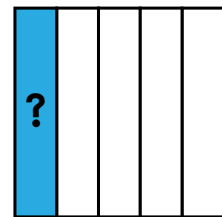
238

1.283 vissen

2. In het bos staan 1.263 bomen.
Er worden 720 bomen gekapt en 660 bomen geplant.
Hoeveel bomen staan er in het bos?

1.203 bomen

3. In de dierentuin wonen 125 dieren.
 $\frac{1}{5}$ deel van de dieren is een zoogdier.
Hoeveel zoogdieren wonen er in de dierentuin?



125

625 zoogdieren

4. $\frac{1}{4}$ deel van de fruitbomen is een appelboom.
Dat zijn 7 appelbomen.
Hoeveel fruitbomen zijn er in totaal?

28 fruitbomen

5. Het is nu 15.25 uur. Om 5 uur worden de dieren gevoerd. Over hoeveel minuten is dat?



95 minuten

Klaar? Oefen 10 verhaaltjessommen op www.verhaalsommen.nl
Daarna mag je als beloning een rekenspelletje spelen!