

VERHAAL

SOMMEN

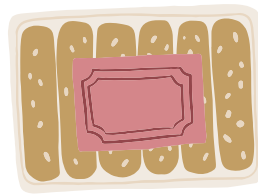


Werkboekje van:

www.verhaalsommen.nl

Verhaaltjessommen

1. Sammie koopt 15 pakken met koekjes.
In ieder pak zitten 6 koekjes.
Hoeveel koekjes zijn dat samen?




_____ koekjes

2. Fee heeft 125 kralen.
Julian heeft 375 kralen.
Hoeveel kralen zijn dat samen?

_____ kralen

3. Een speelgoedrobot kost €7.
De meester koopt er 12.
Hoeveel euro moet de meester betalen?



_____ euro

4. Nora heeft 3 briefjes van 5 euro, 4 munten van 2 euro
en 6 munten van 50 cent.
Hoeveel euro heeft Nora?

_____ euro

5. Stijn kijkt 's middags op de klok.
Hoe laat is het?
Schrijf de digitale tijd op



_____ uur

Klaar? Oefen 10 verhaaltjessommen op **www.verhaalsommen.nl**
Daarna mag je als beloning een rekenspelletje spelen!

Keersommen

Reken de sommen uit.



$8 \times 4 =$

$5 \times 9 =$

$13 \times 5 =$

$8 \times 5 =$

$4 \times 9 =$

$12 \times 9 =$

$6 \times 3 =$

$8 \times 7 =$

$15 \times 8 =$

$7 \times 7 =$

$7 \times 6 =$

$12 \times 7 =$

$7 \times 5 =$

$8 \times 9 =$

$13 \times 4 =$

$9 \times 2 =$

$6 \times 5 =$

$13 \times 6 =$

$9 \times 5 =$

$4 \times 8 =$

$15 \times 3 =$

$2 \times 7 =$

$4 \times 9 =$

$16 \times 2 =$

$3 \times 5 =$

$9 \times 9 =$

$12 \times 8 =$

$2 \times 9 =$

$6 \times 6 =$

$15 \times 4 =$

$8 \times 8 =$

$9 \times 9 =$

$14 \times 7 =$

$7 \times 7 =$

$8 \times 7 =$

$13 \times 9 =$

$7 \times 8 =$

$8 \times 9 =$

$11 \times 9 =$

$5 \times 5 =$

$5 \times 5 =$

$12 \times 6 =$

$5 \times 6 =$

$7 \times 8 =$

$15 \times 6 =$

Klaar? Oefen 10 verhaaltjessommen op www.verhaalsommen.nl
Daarna mag je als beloning een rekenspelletje spelen!

Verhaaltjessommen



Lees de verhaaltjes en reken de sommen uit.
Maak een tekening bij de som of schrijf de som op.

1. De boer heeft 54 eieren en doet er steeds 4 in een doosje.
Hoeveel doosjes kan hij vol maken?

_____ doosjes

2. Adil heeft 43 stiften en doet er steeds 5 in een bakje.
Hoeveel stiften houdt Adil over?

_____ stiften

3. Saar heeft 68 kralen. Aan iedere armband doet ze 6 kralen.
Hoeveel kralen houdt Saar over?

_____ kralen

4. Marie verdeelt 34 snoepjes eerlijk over 10 kinderen.
Hoeveel snoepjes houdt Marie over?

_____ snoepjes

Deelsommen

Reken de sommen uit.



$25 : 5 =$

$35 : 5 =$

$54 : 9 =$

$30 : 3 =$

$21 : 7 =$

$63 : 9 =$

$20 : 4 =$

$40 : 4 =$

$63 : 7 =$

$32 : 4 =$

$45 : 5 =$

$28 : 7 =$

$27 : 3 =$

$24 : 4 =$

$42 : 6 =$

$48 : 8 =$

$25 : 5 =$

$63 : 7 =$

$64 : 8 =$

$50 : 5 =$

$80 : 8 =$

$56 : 8 =$

$24 : 3 =$

$81 : 9 =$

$21 : 7 =$

$40 : 5 =$

$56 : 8 =$

$32 : 8 =$

$20 : 5 =$

$35 : 7 =$

$49 : 7 =$

$36 : 9 =$

$32 : 8 =$

$35 : 7 =$

$36 : 6 =$

$64 : 8 =$

$42 : 7 =$

$24 : 8 =$

$24 : 8 =$

$81 : 9 =$

$70 : 7 =$

$49 : 7 =$

$30 : 6 =$


$30 : 6 =$

$48 : 8 =$

Klaar? Oefen 10 verhaaltjessommen op www.verhaalsommen.nl
Daarna mag je als beloning een rekenspelletje spelen!

Verhaaltjessommen

1. Julian leest een boek van 465 bladzijdes.
Hij is op bladzijde 228.
Hoeveel bladzijdes moet Julian nog lezen?




_____ bladzijdes

2. Flip koopt een fiets van €285.
Hij koopt ook een step van van €125.
Hoeveel euro moet Flip betalen?

_____ euro

3. Op maandag vindt Ollie 275 schelpen.
Op dinsdag vindt hij er 130.
Hoeveel schelpen heeft Ollie gevonden?

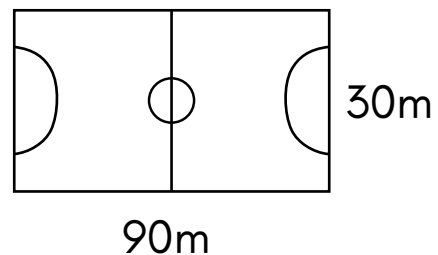


_____ schelpen

4. De tijd is nu 16:20.
Om 17:30 begint het feestje.
Over hoeveel minuten begint het feestje?

_____ minuten

5. Mees rent om het voetbalveld.
In totaal rent hij er 2 rondjes omheen.
Hoeveel meter rent Mees?




_____ meter

Klaar? Oefen 10 verhaaltjessommen op www.verhaalsommen.nl
Daarna mag je als beloning een rekenspelletje spelen!

Vleksommen

Flip heeft inkt geknoeid.
Reken de sommen uit.



$$425 + \text{ink} = 500$$

$$445 + \text{ink} = 1000$$

$$500 = \text{ink} + 298$$

$$165 + \text{ink} = 500$$

$$765 + \text{ink} = 1000$$

$$500 = \text{ink} + 185$$

$$295 + \text{ink} = 500$$

$$395 + \text{ink} = 1000$$

$$500 = \text{ink} + 173$$

$$126 + \text{ink} = 500$$

$$650 + \text{ink} = 1000$$

$$600 = \text{ink} + 192$$

$$235 + \text{ink} = 500$$


$$820 + \text{ink} = 1000$$

$$600 = \text{ink} + 246$$

Klaar? Oefen meer verhaaltjessommen en speel rekenspelletjes op www.verhaalsommen.nl.

Verhaaltjessommen

1. Selma wil 2 kilo meel afwegen.
De weegschaal geeft al 1600 gram aan.
Hoeveel gram meel moet er nog bij?



_____gram

2. Boet heeft een plank van 3 meter.
Hij zaagt er 65 centimeter af.
Hoeveel centimeter blijft er over?

_____centimeter

3. Lisa moet €4,20 betalen voor een knuffelbeer.
Ze gebruikt alleen munten van 20 cent.
Hoeveel munten van 20 cent heeft ze nodig?



_____munten

4. Jonas gaat 4 dagen wandelen.
Iedere dag wandelt hij 16 kilometer.
Hoeveel kilometer wandelt Jonas in totaal?


_____kilometer

5. Lieve bakt taarten en heeft 17 eieren.
Voor 1 taart heeft ze 3 eieren nodig.
Hoeveel eieren houdt Lieve over?



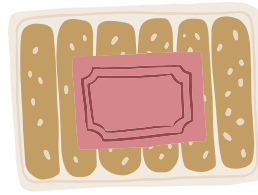
_____eieren

Klaar? Oefen 10 verhaaltjessommen op www.verhaalsommen.nl
Daarna mag je als beloning een rekenspelletje spelen!



Antwoorden

1. Sammie koopt 15 pakken met koekjes.
In ieder pak zitten 6 koekjes.
Hoeveel koekjes zijn dat samen?




90 koekjes

2. Fee heeft 125 kralen.
Julian heeft 375 kralen.
Hoeveel kralen zijn dat samen?

500 kralen

3. Een speelgoedrobot kost €7.
De meester koopt er 12.
Hoeveel euro moet de meester betalen?



84 euro

4. Nora heeft 3 briefjes van 5 euro, 4 munten van 2 euro
en 6 munten van 50 cent.
Hoeveel euro heeft Nora?

26 euro

5. Stijn kijkt 's middags op de klok.
Hoe laat is het?
Schrijf de digitale tijd op



14:40 uur

Klaar? Oefen 10 verhaaltjessommen op **www.verhaalsommen.nl**
Daarna mag je als beloning een rekenspelletje spelen!

Antwoorden

Reken de sommen uit.



$8 \times 4 = 32$

$8 \times 5 = 40$

$6 \times 3 = 18$

$7 \times 7 = 49$

$7 \times 5 = 35$

$9 \times 2 = 18$

$9 \times 5 = 45$

$2 \times 7 = 14$

$3 \times 5 = 15$

$2 \times 9 = 18$

$8 \times 8 = 64$

$7 \times 7 = 49$

$7 \times 8 = 56$

$5 \times 5 = 25$

$5 \times 6 = 30$

$5 \times 9 = 45$

$4 \times 9 = 36$

$8 \times 7 = 56$

$7 \times 6 = 42$

$8 \times 9 = 72$

$6 \times 5 = 30$

$4 \times 8 = 32$

$4 \times 9 = 36$

$9 \times 9 = 81$

$6 \times 6 = 36$

$9 \times 9 = 81$

$8 \times 7 = 56$

$8 \times 9 = 72$

$5 \times 5 = 25$

$7 \times 8 = 56$

$13 \times 5 = 65$

$12 \times 9 = 108$

$15 \times 8 = 120$

$12 \times 7 = 84$

$13 \times 4 = 52$

$13 \times 6 = 78$

$15 \times 3 = 45$

$16 \times 2 = 32$

$12 \times 8 = 96$

$15 \times 4 = 60$

$14 \times 7 = 98$

$13 \times 9 = 117$

$11 \times 9 = 99$

$12 \times 6 = 72$

$15 \times 6 = 90$

Klaar? Oefen 10 verhaaltjessommen op www.verhaalsommen.nl
Daarna mag je als beloning een rekenspelletje spelen!

Antwoorden



Lees de verhaaltjes en reken de sommen uit.
Maak een tekening bij de som of schrijf de som op.

1. De boer heeft 54 eieren en doet er steeds 4 in een doosje.
Hoeveel doosjes kan hij vol maken?

13 doosjes

2. Adil heeft 43 stiften en doet er steeds 5 in een bakje.
Hoeveel stiften houdt Adil over?

3 stiften

3. Saar heeft 68 kralen. Aan iedere armband doet ze 6 kralen.
Hoeveel kralen houdt Saar over?

2 kralen

4. Marie verdeelt 34 snoepjes eerlijk over 10 kinderen.
Hoeveel snoepjes houdt Marie over?

4 snoepjes

Antwoorden

Reken de sommen uit.



$25 : 5 = 5$

$30 : 3 = 10$

$20 : 4 = 5$

$32 : 4 = 8$

$27 : 3 = 9$

$35 : 5 = 7$

$21 : 7 = 3$

$40 : 4 = 10$

$45 : 5 = 9$

$24 : 4 = 6$

$54 : 9 = 6$

$63 : 9 = 7$

$63 : 7 = 9$

$28 : 7 = 4$

$42 : 6 = 7$

$48 : 8 = 6$

$64 : 8 = 8$

$56 : 8 = 7$

$21 : 7 = 3$

$32 : 8 = 4$

$25 : 5 = 5$

$50 : 5 = 10$

$24 : 3 = 8$

$40 : 5 = 8$

$20 : 5 = 4$

$63 : 7 = 9$

$80 : 8 = 10$

$81 : 9 = 9$

$56 : 8 = 7$

$35 : 7 = 5$

$49 : 7 = 7$

$35 : 7 = 5$

$42 : 7 = 6$

$81 : 9 = 9$

$30 : 6 = 5$

$36 : 9 = 4$

$36 : 6 = 6$

$24 : 8 = 3$

$70 : 7 = 10$

$30 : 6 = 5$

$32 : 8 = 4$

$64 : 8 = 8$

$24 : 8 = 3$


$49 : 7 = 7$

$48 : 8 = 6$

Klaar? Oefen 10 verhaaltjessommen op www.verhaalsommen.nl
Daarna mag je als beloning een rekenspelletje spelen!

Antwoorden

1. Julian leest een boek van 465 bladzijdes.
Hij is op bladzijde 228.
Hoeveel bladzijdes moet Julian nog lezen?




237 bladzijdes

2. Flip koopt een fiets van €285.
Hij koopt ook een step van van €125.
Hoeveel euro moet Flip betalen?

410 euro

3. Op maandag vindt Ollie 275 schelpen.
Op dinsdag vindt hij er 130.
Hoeveel schelpen heeft Ollie gevonden?

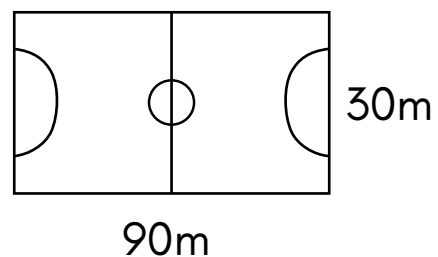


405 schelpen

4. De tijd is nu 16:20.
Om 17:30 begint het feestje.
Over hoeveel minuten begint het feestje?

80 minuten

5. Mees rent om het voetbalveld.
In totaal rent hij er 2 rondjes omheen.
Hoeveel meter rent Mees?




480 meter

Klaar? Oefen 10 verhaaltjessommen op www.verhaalsommen.nl
Daarna mag je als beloning een rekenspelletje spelen!

Antwoorden

Flip heeft inkt geknoeid.
Reken de sommen uit.



$425 + 75 = 500$

$445 + 555 = 1000$

$500 = 202 + 298$

$165 + 335 = 500$

$765 + 235 = 1000$

$500 = 315 + 185$

$295 + 205 = 500$

$395 + 605 = 1000$

$500 = 327 + 173$

$126 + 374 = 500$

$650 + 350 = 1000$

$600 = 408 + 192$

$235 + 265 = 500$

$820 + 180 = 1000$

$600 = 354 + 246$

Klaar? Oefen meer verhaaltjessommen en speel rekenspelletjes op
www.verhaalsommen.nl.

Antwoorden

1. Selma wil 2 kilo meel afwegen.
De weegschaal geeft al 1600 gram aan.
Hoeveel gram meel moet er nog bij?



400 gram

2. Boet heeft een plank van 3 meter.
Hij zaagt er 65 centimeter af.
Hoeveel centimeter blijft er over?

235 centimeter

3. Lisa moet €4,20 betalen voor een knuffelbeer.
Ze gebruikt alleen munten van 20 cent.
Hoeveel munten van 20 cent heeft ze nodig?



21 munten

4. Jonas gaat 4 dagen wandelen.
Iedere dag wandelt hij 16 kilometer.
Hoeveel kilometer wandelt Jonas in totaal?

64 kilometer

5. Lieve bakt taarten en heeft 17 eieren.
Voor 1 taart heeft ze 3 eieren nodig.
Hoeveel eieren houdt Lieve over?



2 eieren

Klaar? Oefen 10 verhaaltjessommen op www.verhaalsommen.nl
Daarna mag je als beloning een rekenspelletje spelen!