

# Zweeds renspel

Verhaaltjessommen E6



[www.verhaalsommen.nl](http://www.verhaalsommen.nl)

# Zweeds renspel

Een Zweeds Renspel is een leuke en effectieve manier om kinderen te laten leren terwijl ze actief bezig zijn. Hang de opdrachtkaarten verspreid op over het schoolplein, de gangen of het klaslokaal. De kinderen lezen de vragen, bedenken de antwoorden en noteren deze op het antwoordblad. Op het antwoordblad is ruimte om denkstappen op te schrijven of een tekening te maken van de som. Als de kinderen klaar zijn, kunnen ze 10 verhaaltjessommen oefenen op **[www.verhaalsommen.nl](http://www.verhaalsommen.nl)**. Als ze klaar zijn, mogen ze een rekenspelletje spelen!

## Antwoorden

- A. 11 paaseitjes
- B. 234 paaseitjes
- C. 1.102 paaseitjes
- D. 652 euro
- E. 12 euro
- F. 85 paaseieren
- G. 438
- H. 1.294 paaseieren

- I. 112 plakken
- J. 1.177 paaseieren
- K. 416
- L. C
- M. 5,65 euro
- N. 189 euro
- O. 378 eitjes
- P. A



# Antwoordblad

Reken de verhaaltjessommen uit. Schrijf de denkstappen op of maak een tekening van de som!


Ben je klaar? Oefen 10 verhaaltjessommen op [www.verhaalsommen.nl](http://www.verhaalsommen.nl).

Daarna mag je een rekenspelletje spelen!

A.	E.	I.	M.
B.	F.	J.	N.
C.	G.	K.	O.
D.	H.	L.	P.



A. Drie vrienden verdelen 154 paaseitjes over 14 manden.  
Hoeveel paaseitjes komen er in iedere mand?






B. In de klas staan 9 grote manden met 26 paaseitjes.  
Hoeveel paaseitjes zijn dat samen?



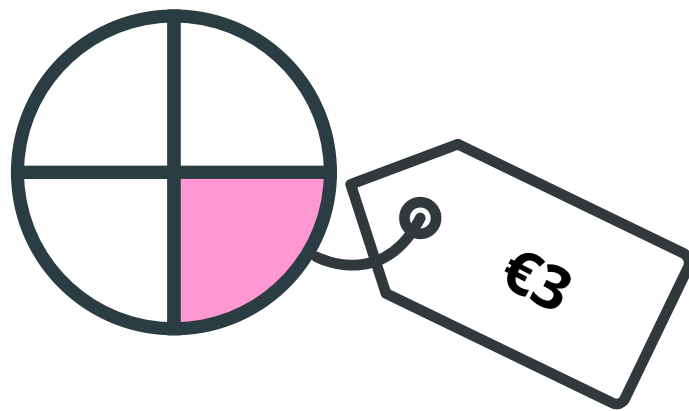
C. Flip heeft 1.043 paaseitjes. Daarna vindt hij er nog 59.  
Hoeveel paaseitjes heeft Flip in totaal?



D. Een zak eitjes kost €4. Tim koopt er 163.  
Hoeveel euro moet Tim betalen?



E. Beer koopt  $\frac{1}{4}$  deel van een taart.  
Ze moet €3 betalen. Hoeveel kost de hele taart?








F. Jet heeft 2.545 paaseieren. Tom heeft er 2.630.  
Hoeveel paaseieren heeft Tom er meer dan Jet?



$$G. 362 + \text{Egg} = 800$$

H. Gijs heeft 732 rode, 546 gele en 16 blauwe paaseieren.  
Hoeveel paaseieren zijn dat samen?



I. Fien heeft 14 broden. Ze snijdt ieder brood in 8 plakken.  
Hoeveel plakken zijn dat samen?



J. Wim heeft 835 eitjes. Hij vindt er nog 342.  
Hoeveel eitjes heeft Wim?



$$K. 134 + \text{Egg} = 550$$

L. 5 van de 20 kinderen in groep 6 lusten géén melk.  
Welk deel van de kinderen lust geen melk?

A.  $\frac{1}{2}$  deel

B.  $\frac{1}{3}$  deel

C.  $\frac{1}{4}$  deel

D.  $\frac{1}{5}$  deel




M. Flip koopt zakjes met paaseieren voor €4,35.  
Hij betaalt met €10. Hoeveel euro krijgt Flip terug?






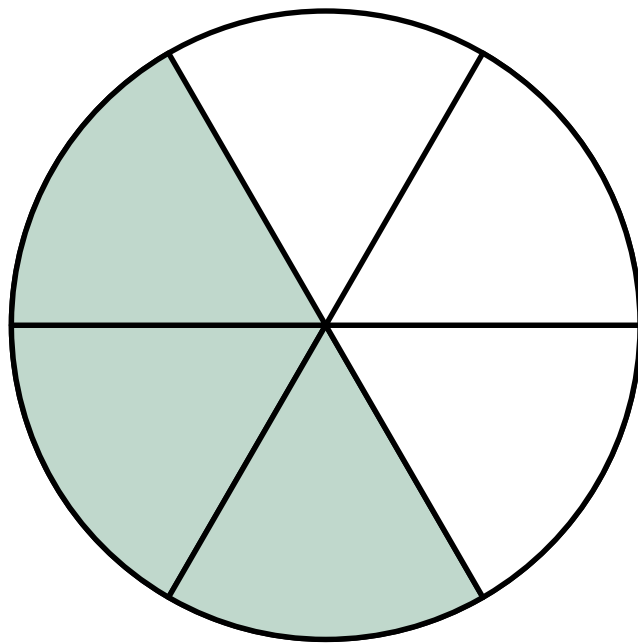
N. Floor koopt 9 bossen bloemen.  
Één bos bloemen kost €21. Hoeveel euro moet ze betalen?



O. Jip heeft 535 eitjes. Ze eet er 157 op.  
Hoeveel eitjes heeft Jip over?



P. Helen koopt 3 stukken paastaart.  
Welk deel van de taart koopt Helen?  
Maak de breuk zo klein mogelijk!



- A.  $\frac{1}{2}$  deel
- B.  $\frac{1}{3}$  deel
- C.  $\frac{3}{6}$  deel
- D.  $\frac{2}{3}$  deel

# VERHAAL SOMMEN

Oefen verhaaltjessommen op **[www.verhaalsommen.nl](http://www.verhaalsommen.nl)**.  
Na het maken van 10 verhaaltjessommen, kunnen kinderen een rekenspelletje spelen als beloning. We bieden ook gratis lesmateriaal aan!