

Zweeds renspel

Verhaaltjessommen E5



www.verhaalsommen.nl

Zweeds renspel

Een Zweeds Renspel is een leuke en effectieve manier om kinderen te laten leren terwijl ze actief bezig zijn. Hang de opdrachtkaarten verspreid op over het schoolplein, de gangen of het klaslokaal. De kinderen lezen de vragen, bedenken de antwoorden en noteren deze op het antwoordblad. Op het antwoordblad is ruimte om denkstappen op te schrijven of een tekening te maken van de som. Als de kinderen klaar zijn, kunnen ze 10 verhaaltjessommen oefenen op **www.verhaalsommen.nl**. Als ze klaar zijn, mogen ze een rekenspelletje spelen!

Antwoorden

- | | |
|-------------------|----------------|
| A. 60 paaseitjes | I. 112 plakken |
| B. 50 paaseitjes | J. 280 eitjes |
| C. 18 zakjes | K. 56 |
| D. 240 euro | L. 21 dozen |
| E. 120 eieren | M. 65 cent |
| F. 240 paaseieren | N. 105 euro |
| G. 34 | O. 92 eitjes |
| H. 190 paaseieren | P. 64 eitjes |



Antwoordblad

Reken de verhaaltjessommen uit. Schrijf de denkstappen op of maak een tekening van de som!


Ben je klaar? Oefen 10 verhaaltjessommen op www.verhaalsommen.nl.

Daarna mag je een rekenspelletje spelen!

A.	E.	I.	M.
B.	F.	J.	N.
C.	G.	K.	O.
D.	H.	L.	P.



A. Drie vrienden verdelen 180 paaseitjes.
Hoeveel paaseitjes krijgt ieder kind?






B. De paashaas verdeelt 150 paaseitjes over 3 mandjes.
Hoeveel paaseitjes komen er in ieder mandje?




C. Flip heeft 90 eitjes. Hij doet er steeds 5 in een zakje.
Hoeveel zakjes kan hij vullen?



D. Een zak eitjes kost €4. Tim koopt er 60.
Hoeveel euro moet Tim betalen?



E. In een hok zitten 40 kippen. Iedere kip legt 3 eieren.
Hoeveel eieren leggen de kippen samen?






F. Jet heeft 120 paaseieren. Tom heeft er twee keer zoveel.
Hoeveel paaseieren heeft Tom?



$$G. 128 + \text{Egg} = 162$$

H. Gijs heeft 124 rode, 50 gele en 16 blauwe paaseieren.
Hoeveel paaseieren zijn dat samen?



I. Fien heeft 14 broden. Ze snijdt ieder brood in 8 plakken.
Hoeveel plakken zijn dat samen?




J. Wim heeft 138 eitjes. Hij vindt er nog 142.
Hoeveel eitjes heeft Wim?



$$K. 134 + \text{Egg} = 190$$


L. Bob heeft 126 eieren. Hij doet er steeds 6 in een doos.
Hoeveel dozen kan Bob vullen?




M. Flip koopt zakjes met paaseieren voor €4,35.
Hij betaalt met €5. Hoeveel cent krijgt Flip terug?



N. Floor koopt 5 bossen bloemen.
Één bos bloemen kost €21. Hoeveel euro moet ze betalen?



O. Jip heeft 149 eitjes. Ze eet er 57 op.
Hoeveel eitjes heeft Jip over?



P. Daan heeft 128 eitjes. De helft valt kapot.
Hoeveel eitjes heeft Daan over?



VERHAAL SOMMEN

Oefen verhaaltjessommen op **www.verhaalsommen.nl**.
Na het maken van 10 verhaaltjessommen, kunnen kinderen een rekenspelletje spelen als beloning. We bieden ook gratis lesmateriaal aan!