

Zweeds renspel

Verhaaltjessommen E3



www.verhaalsommen.nl

Zweeds renspel

Een Zweeds Renspel is een leuke en effectieve manier om kinderen te laten leren terwijl ze actief bezig zijn. Hang de opdrachtkaarten verspreid op over het schoolplein, de gangen of het klaslokaal. De kinderen lezen de vragen, bedenken de antwoorden en noteren deze op het antwoordblad. Op het antwoordblad is ruimte om denkstappen op te schrijven of een tekening te maken van de som. Als de kinderen klaar zijn, kunnen ze 10 verhaaltjessommen oefenen op **www.verhaalsommen.nl**. Als ze klaar zijn, mogen ze een rekenspelletje spelen!

Antwoorden

- | | |
|--------------|---------------|
| A. 3 eitjes | I. 14 plakken |
| B. 2 eitjes | J. 20 eitjes |
| C. 9 eitjes | K. 9 |
| D. 8 euro | L. 2 dozen |
| E. 12 eieren | M. 9 eitjes |
| F. 10 eitjes | N. 12 euro |
| G. 4 | O. 8 eitjes |
| H. 19 eitjes | P. 9 eitjes |



Antwoordblad

Reken de verhaaltjessommen uit. Schrijf de denkstappen op of maak een tekening van de som!


Ben je klaar? Oefen 10 verhaaltjessommen op www.verhaalsommen.nl.

Daarna mag je een rekenspelletje spelen!

A.	E.	I.	M.
B.	F.	J.	N.
C.	G.	K.	O.
D.	H.	L.	P.



A. De paashaas verdeelt 9 eitjes over 3 kinderen.
Hoeveel eitjes krijgt ieder kind?






B. De paashaas verdeelt 6 eitjes over 3 mandjes.
Hoeveel eitjes komen er in ieder mandje?




C. Flip heeft 14 eitjes. Hij eet er 5 op.
Hoeveel eitjes heeft hij nog over?



D. Een zak eitjes kost €4. Tim koopt er 2.
Hoeveel euro moet Tim betalen?



E. In een hok zitten 2 kippen. Iedere kip legt 6 eieren.
Hoeveel eieren leggen de kippen samen?






F. Jet heeft 5 eitjes. Tom heeft er twee keer zoveel.
Hoeveel eitjes heeft Tom?



$$G. 8 + \text{Egg} = 12$$

H. Gijs heeft 10 rode, 5 gele en 4 blauwe eitjes.
Hoeveel eitjes zijn dat samen?



I. Fien heeft 2 broden. Ze snijdt ieder brood in 7 plakken.
Hoeveel plakken zijn dat samen?




J. Wim heeft 14 eitjes. Hij vindt er nog 6.
Hoeveel eitjes heeft Wim?




$$K. 2 + \text{Egg} = 11$$


L. Bob heeft 12 eieren. Hij doet er steeds 6 in een doos.
Hoeveel dozen kan Bob vullen?




M. Flip heeft 17 eitjes. Hij raakt er 8 kwijt.
Hoeveel eitjes heeft hij over?



N. Floor koopt 3 bloemen. Één bloem kost €4.
Hoeveel euro moet Floor betalen?



O. Jip heeft 18 eitjes. Ze eet er 10 op.
Hoeveel eitjes heeft Jip over?



P. Daan heeft 18 eitjes. De helft valt kapot.
Hoeveel eitjes heeft Daan over?



VERHAAL SOMMEN

Oefen verhaaltjessommen op **www.verhaalsommen.nl**.
Na het maken van 10 verhaaltjessommen, kunnen kinderen een rekenspelletje spelen als beloning. We bieden ook gratis lesmateriaal aan!