

# VERHAAL

# SOMMEN




Werkboekje van:

---

[www.verhaalsommen.nl](http://www.verhaalsommen.nl)

# Keersommen

Reken de keersommen uit.



$2 \times 3 =$

$4 \times 5 =$

$6 \times 8 =$

$5 \times 4 =$

$6 \times 5 =$

$9 \times 6 =$

$4 \times 4 =$

$9 \times 8 =$

$9 \times 3 =$

$9 \times 2 =$

$6 \times 7 =$

$6 \times 4 =$

$4 \times 5 =$

$7 \times 7 =$

$7 \times 5 =$

$5 \times 9 =$

$9 \times 5 =$

$8 \times 8 =$

$7 \times 5 =$

$5 \times 4 =$

$6 \times 9 =$

$8 \times 8 =$

$8 \times 7 =$

$8 \times 7 =$

$6 \times 5 =$

$4 \times 6 =$

$6 \times 4 =$

$4 \times 8 =$

$9 \times 9 =$

$6 \times 7 =$

$8 \times 9 =$

$9 \times 8 =$

$4 \times 7 =$

$9 \times 4 =$

$7 \times 7 =$

$9 \times 5 =$

$2 \times 9 =$

$8 \times 8 =$

$4 \times 8 =$

$4 \times 5 =$

$5 \times 5 =$

$9 \times 8 =$

$5 \times 7 =$

$6 \times 6 =$

$8 \times 7 =$

Klaar? Oefen 10 verhaaltjessommen op [www.verhaalsommen.nl](http://www.verhaalsommen.nl)  
Daarna mag je als beloning een rekenspelletje spelen!

# Verhaaltjessommen

1. Sep moet 5 euro betalen.  
Hij betaalt met alleen munten van 50 cent.  
Hoeveel munten heeft Sep nodig?



\_\_\_\_\_munten

2. De bakker verkoopt broodjes.  
Hij verkoopt 19 zakken met 10 broodjes.  
Hoeveel broodjes zijn dat in totaal?

\_\_\_\_\_broodjes

3. In de groep zitten 16 jongens en 12 meisjes.  
Alle kinderen zitten met 4 kinderen aan één tafel.  
Hoeveel tafels zijn er nodig?



\_\_\_\_\_tafels

4. De groenteboer verkoopt druiven.  
Hij verkoopt 32 bakjes met 10 druiven.  
Hoeveel druiven zijn dat?

\_\_\_\_\_druiven

5. Bo maakt armbanden met 12 groene en 12 gele kralen.  
Ze rijgt steeds 6 kralen aan één armband.  
Hoeveel armbanden kan Bo maken?



\_\_\_\_\_armbanden

Klaar? Oefen 10 verhaaltjessommen op [www.verhaalsommen.nl](http://www.verhaalsommen.nl)  
Daarna mag je als beloning een rekenspelletje spelen!

# Verhaaltjessommen



Lees de verhaaltjes en reken de som uit.  
Maak een tekening bij de som of schrijf de som op.

1. Een insect heeft 6 poten.

Hoeveel poten hebben 14 insecten samen? \_\_\_\_\_ poten

2. Een kat heeft 4 poten.

Hoeveel poten hebben 15 katten samen? \_\_\_\_\_ poten

3. Een gitaar heeft 6 snaren.

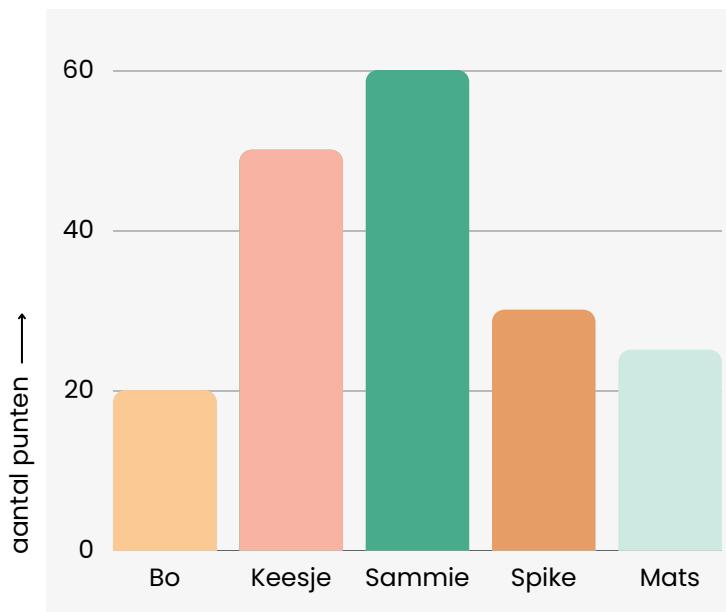
Hoeveel snaren hebben 13 gitaren? \_\_\_\_\_ snaren

4. Er zijn 14 pakken met 5 stiften.

Hoeveel stiften zijn dat samen? \_\_\_\_\_ stiften

# Staafdiagram

Sammie heeft meegedaan aan een hondenwedstrijd. In de grafiek zie je hoeveel punten alle honden gehaald hebben. Bekijk de grafiek en geef antwoord op de vragen.



1. Wie heeft de meeste punten gehaald? \_\_\_\_\_
2. Wie heeft de minste punten gehaald? \_\_\_\_\_
3. Hoeveel punten heeft Sammie meer dan Bo? \_\_\_\_\_ punten
4. Hoeveel punten heeft Spike? \_\_\_\_\_ punten
5. Hoeveel punten hebben Bo en Keesje samen? \_\_\_\_\_ punten

# Teken het verhaal

Bedenk een verhaal bij de som en reken de som uit.  
Je mag het verhaal tekenen of schrijven.



$$15 : 3 =$$

$$28 : 4 =$$


$$32 : 8 =$$

$$21 : 7 =$$

Klaar? Oefen 10 verhaaltjessommen op [www.verhaalsommen.nl](http://www.verhaalsommen.nl)  
Daarna mag je als beloning een rekenspelletje spelen!

# Verhaaltjessommen

1. Om 16.15 uur begint het spel.  
Een half uur later is het spel afgelopen.  
Hoe laat is dat? Schrijf het digitale tijdstip op.

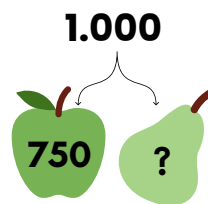


\_\_\_\_\_uur

2. In de tuin staat een schuur.  
De schuur is precies 4 meter lang.  
Hoeveel centimeter is dat?

\_\_\_\_\_centimeter

3. De boer heeft 1.000 appels en peren.  
Hij heeft 750 appels.  
Hoeveel peren heeft de boer?



\_\_\_\_\_peren

4. De bakker moet 360 broodjes maken.  
Hij heeft er al 275 gemaakt.  
Hoeveel broodjes moet de bakker nog maken?

\_\_\_\_\_broodjes

5. Op een school zitten 400 kinderen.  
285 kinderen zijn een meisje.  
Hoeveel jongens zitten er op de school?



\_\_\_\_\_jongens

Klaar? Oefen 10 verhaaltjessommen op [www.verhaalsommen.nl](http://www.verhaalsommen.nl)  
Daarna mag je als beloning een rekenspelletje spelen!

# Reken uit

Hoeveel euro kost het samen?

Schrijf de keersom en het antwoord op.



Keersom:  $3 \times 12 =$  \_\_\_\_\_

Antwoord: \_\_\_\_\_ euro



Keersom: \_\_\_\_\_

Antwoord: \_\_\_\_\_ euro



Keersom: \_\_\_\_\_


Antwoord: \_\_\_\_\_ euro

Klaar? Oefen 10 verhaaltjessommen op [www.verhaalsommen.nl](http://www.verhaalsommen.nl)  
Daarna mag je als beloning een rekenspelletje spelen!



# Vleksommen

Flip heeft inkt geknoeid.  
Reken de sommen uit.



$150 + \text{ink} = 200$

$170 + \text{ink} = 220$

$200 - \text{ink} = 120$

$150 + \text{ink} = 250$

$328 + \text{ink} = 350$

$400 - \text{ink} = 345$

$130 + \text{ink} = 200$

$165 + \text{ink} = 190$

$600 - \text{ink} = 525$

$250 + \text{ink} = 310$

$325 + \text{ink} = 400$

$350 - \text{ink} = 280$

$420 + \text{ink} = 500$

$435 + \text{ink} = 500$

$405 - \text{ink} = 395$

$480 + \text{ink} = 500$

$765 + \text{ink} = 790$

$305 - \text{ink} = 290$

Klaar? Oefen meer verhaaltjessommen en speel rekenspelletjes op  
[www.verhaalsommen.nl](http://www.verhaalsommen.nl).