

VERHAAL

SOMMEN



Werkboekje van:

www.verhaalsommen.nl

Sommen tot 20



Reken de sommen uit.

$7 + 5 =$

$13 + 5 =$

$17 - 5 =$

$8 + 7 =$

$3 + 12 =$

$14 - 3 =$

$7 + 4 =$

$18 + 1 =$

$19 - 2 =$

$8 + 2 =$

$12 + 7 =$

$16 - 4 =$

$4 + 7 =$

$13 + 3 =$

$17 - 3 =$

$2 + 7 =$

$14 + 5 =$

$13 - 5 =$

$2 + 5 =$

$15 + 3 =$

$16 - 9 =$

$3 + 7 =$

$12 + 8 =$

$19 - 9 =$

$6 + 5 =$

$14 + 6 =$

$17 - 8 =$

$6 + 9 =$

$16 + 4 =$

$15 - 6 =$

$8 + 9 =$

$9 + 9 =$

$14 - 7 =$

$9 + 4 =$

$7 + 7 =$

$16 - 8 =$

$2 + 9 =$

$8 + 8 =$

$18 - 9 =$

$4 + 5 =$

$5 + 5 =$

$12 - 6 =$

$5 + 7 =$

$6 + 6 =$

$18 - 7 =$

Klaar? Oefen 10 verhaaltjessommen op www.verhaalsommen.nl
Daarna mag je als beloning een rekenspelletje spelen!

Verhaaltjessommen



Lees de verhaaltjes en reken de sommen uit.
Maak een tekening bij de som of schrijf de som op.

1. Een insect heeft 6 poten.

Hoeveel poten hebben 3 insecten samen? _____ poten

2. Een kat heeft 4 poten.

Hoeveel poten hebben 5 katten samen? _____ poten

3. Een gitaar heeft 6 snaren.


Hoeveel snaren hebben 2 gitaren? _____ snaren

4. Er zijn 3 pakken met 5 stiften.

Hoeveel stiften zijn dat samen? _____ stiften

Vleksommen

Flip heeft inkt geknoeid.
Reken de sommen uit.



$15 + \text{ink} = 20$

$17 + \text{ink} = 20$

$15 + \text{ink} = 25$

$15 + \text{ink} = 25$

$32 + \text{ink} = 35$

$45 + \text{ink} = 55$

$13 + \text{ink} = 20$

$15 + \text{ink} = 20$

$65 + \text{ink} = 75$

$25 + \text{ink} = 30$

$32 + \text{ink} = 40$

$35 + \text{ink} = 55$

$42 + \text{ink} = 50$

$43 + \text{ink} = 50$

$45 + \text{ink} = 65$

$51 + \text{ink} = 60$


$76 + \text{ink} = 80$

$75 + \text{ink} = 85$

Klaar? Oefen meer verhaaltjessommen en speel rekenspelletjes op
www.verhaalsommen.nl.

Verhaaltjessommen

1. In de boom hangen 15 appels.
Joep plukt 7 appels.
Hoeveel appels hangen er nog in de boom?

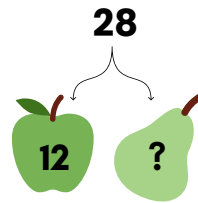


_____ appels

2. Er zitten 45 vogels in een boom.
Er vliegen 25 vogels weg.
Hoeveel vogels blijven er over?

_____ vogels

3. De boer heeft 28 appels en peren.
Hij heeft 12 appels.
Hoeveel peren heeft de boer?




_____ peren

4. In de bus zitten 36 kinderen.
16 kinderen zijn een meisje.
Hoeveel jongens zitten er in de bus?

_____ jongens

5. Een knuffelbeer kost 8 euro.
Fee koopt er 2.
Hoeveel euro moet Fee betalen?




_____ euro

Klaar? Oefen 10 verhaaltjessommen op www.verhaalsommen.nl
Daarna mag je als beloning een rekenspelletje spelen!

Vleksommen

Flip heeft inkt geknoeid.
Reken de sommen uit.



$20 - \text{[red ink blot]} = 10$

$55 - \text{[green ink blot]} = 45$

$50 - \text{[light blue ink blot]} = 25$

$20 - \text{[light blue ink blot]} = 13$

$25 - \text{[red ink blot]} = 15$

$60 - \text{[green ink blot]} = 30$

$20 - \text{[green ink blot]} = 17$

$35 - \text{[light blue ink blot]} = 15$

$30 - \text{[red ink blot]} = 15$

$30 - \text{[red ink blot]} = 25$

$40 - \text{[green ink blot]} = 35$

$45 - \text{[light blue ink blot]} = 25$

$30 - \text{[light blue ink blot]} = 22$

$60 - \text{[red ink blot]} = 40$

$27 - \text{[green ink blot]} = 21$

$30 - \text{[green ink blot]} = 24$


$40 - \text{[light blue ink blot]} = 10$

$25 - \text{[red ink blot]} = 18$

Klaar? Oefen 10 verhaaltjessommen op www.verhaalsommen.nl
Daarna mag je als beloning een rekenspelletje spelen!

Verhaaltjessommen

1. De juf leest een boek van 41 bladzijdes.
Ze is op bladzijde 39.
Hoeveel bladzijdes moet de juf nog lezen?

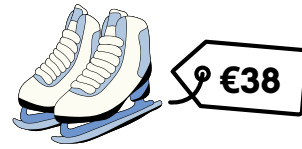


_____ bladzijdes

2. In de boom zitten 35 vogels.
Er komen 10 vogels bij en er vliegen 3 vogels weg.
Hoeveel vogels zitten er in de boom?

_____ vogels

3. Nora spaart voor schaatsen van 38 euro.
Ze heeft al 29 euro.
Hoeveel euro heeft ze nog nodig?



_____ euro

4. In de bus zitten 36 kinderen.
Er stappen eerst 5 mensen uit en daarna 7 mensen in.
Hoeveel mensen zitten er in de bus?

_____ mensen

5. Op het feest hangen 23 rode en gele ballonnen.
12 ballonnen zijn rood.
Hoeveel gele ballonnen zijn er?



_____ ballonnen

Klaar? Oefen 10 verhaaltjessommen op www.verhaalsommen.nl
Daarna mag je als beloning een rekenspelletje spelen!

Reken uit

Hoeveel euro kost het samen?

Schrijf de keersom en het antwoord op.



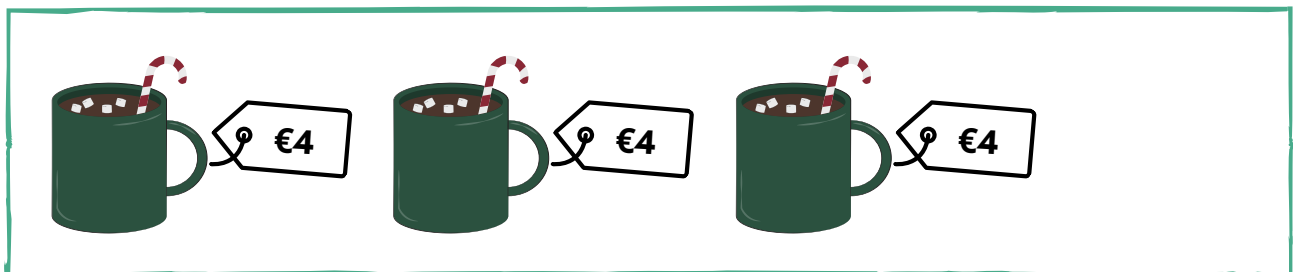
Keersom: $3 \times 2 =$ _____

Antwoord: _____ euro



Keersom: _____

Antwoord: _____ euro



Keersom: _____

Antwoord: _____ euro

Klaar? Oefen 10 verhaaltjessommen op www.verhaalsommen.nl
Daarna mag je als beloning een rekenspelletje spelen!

Teken het verhaal

Bedenk een verhaal bij de som en reken de som uit.
Je mag het verhaal tekenen of schrijven.



$$3 \times 3 =$$

$$7 \times 2 =$$

$$4 \times 6 =$$

$$3 \times 5 =$$

Klaar? Oefen 10 verhaaltjessommen op www.verhaalsommen.nl
Daarna mag je als beloning een rekenspelletje spelen!