


# VERHAAL



# SOMMEN



Werkboekje van:

---

[www.verhaalsommen.nl](http://www.verhaalsommen.nl)

# Geheime tekening



Reken de verhaaltjessommen uit.

Omcirkel eerst het goede antwoord.

Geef daarna de letter van de vraag de goede kleur.

Klaar? Speel een rekenspelletje op [www.verhaalsommen.nl](http://www.verhaalsommen.nl).

C	F	F	F	C	C	L	L	F	L	C	L	L	L	C	L	F	C	C
L	L	L	L	C	C	E	I	M	I	I	E	M	L	L	L	F	F	F
F	C	L	C	I	M	M	A	A	E	B	A	M	E	E	F	C	F	L
F	F	L	M	M	H	B	A	A	E	A	N	H	N	M	I	L	C	C
F	L	M	M	N	N	N	B	N	M	B	D	H	N	N	M	M	L	F
L	C	M	N	H	N	B	N	A	I	N	B	B	N	H	N	M	F	C
C	I	E	H	N	D	N	H	N	M	N	H	N	J	N	N	E	E	L
C	I	B	A	B	H	B	A	H	E	H	B	B	N	N	H	N	M	F
L	I	E	I	M	I	E	I	M	E	M	I	M	E	E	I	I	E	L
F	I	B	B	N	N	N	G	B	M	A	B	B	H	A	N	A	M	C
L	M	H	N	H	A	G	G	G	E	N	N	A	N	H	D	N	I	L
F	M	B	J	B	B	H	G	B	I	H	N	D	H	A	N	H	M	F
L	M	N	B	H	A	O	K	O	M	N	N	H	N	H	N	A	I	L
F	M	N	A	B	B	O	K	O	M	B	H	H	A	H	H	N	I	F
L	I	H	A	N	O	O	K	O	M	B	N	B	N	N	J	H	E	L
F	I	J	D	J	O	K	K	O	M	J	J	J	A	H	N	A	M	F
L	E	J	J	O	O	K	K	O	E	K	J	D	J	J	A	A	E	L
F	E	J	J	O	O	K	K	O	M	K	J	D	J	D	J	J	M	C
C	E	J	O	O	O	K	K	O	I	K	O	D	D	D	J	D	I	F
F	E	J	O	K	K	K	K	O	M	K	O	J	J	J	J	D	I	C
L	I	M	E	I	I	E	M	E	E	M	I	M	I	E	I	M	M	L
C	L	F	L	C	F	L	L	C	L	F	F	F	L	C	L	F	L	F

# Verhaaltjessommen

**A.** Er zijn 427 kerstballen. Er vallen 244 kerstballen kapot.  
Hoeveel kerstballen blijven er over?

184 kerstballen

183 kerstballen

203 kerstballen

283 kerstballen

**B.** Om 18 : 45 uur begint het kerstdiner. Het is 2 en een half uur later afgelopen.  
Hoe laat is het dan? Tip: bereken eerst de hele uren.

20 : 45 uur

20 : 15 uur

21 : 15 uur

21 : 30 uur

**C.** Lotte bakt 92 kerstkoekjes. Ze doet steeds 4 kerstkoekjes in een zakje.  
Hoeveel zakjes kan ze vullen?

24 zakjes

22 zakjes

23 zakjes

20 zakjes

**D.** De Kerstman koopt 5 cadeautjes voor €17,95 per stuk.  
Hoeveel euro moet hij ongeveer betalen?

120 euro

75 euro

60 euro

90 euro

**E.** De Kerstman koopt een fiets voor €381 en een step voor €243.  
Hoeveel euro moet de Kerstman betalen?

624 euro

644 euro

524 euro

625 euro

**F.** De helft van de kerstballen is goud.  
Welke breuk past het best bij de zin hierboven?

$\frac{1}{5}$

$\frac{1}{4}$

$\frac{1}{2}$

$\frac{1}{3}$

# Verhaaltjessommen

**G.** Het kerstboek van de juf heeft 314 bladzijdes. Ze is nu op bladzijde 190.  
Hoeveel bladzijdes moet de juf nog lezen?

124 bladzijdes

134 bladzijdes

114 bladzijdes

125 bladzijdes

**H.** In één uur bezorgt de kerstman 16 pakjes.  
Hoeveel pakjes bezorgt de kerstman in 15 minuten?

8 pakjes

4 pakjes

6 pakjes

104 pakjes

**I.** Voor één kaartje van de kerstfilm betaal je 17 euro. Loes koopt 6 kaartjes.  
Hoeveel euro moet zij betalen?

97 euro

104 euro

98 euro

102 euro

**J.** Één kerstbal kost 7 euro. Nora koopt 14 kerstballen.  
Hoeveel euro moet Nora betalen?

18 euro

98 euro

10 euro

88 euro

**K.** Voor het bakken van een taart is 250 ml melk nodig.  
Hoeveel **liter** melk is er nodig om 4 taarten te bakken?

1000 liter

100 liter

1 liter

10 liter

**L.** Voor het kerstontbijt moeten 320 bekertjes chocolademelk geschonken worden. Met 1 pak chocolademelk kunnen 4 bekertjes gevuld worden. Hoeveel pakken zijn er nodig?

80 pakken

8 pakken

70 pakken

7 pakken

Klaar? Oefen meer verhaaltjessommen op [www.verhaalsommen.nl](http://www.verhaalsommen.nl).

# Verhaaltjessommen

**M.** De Kerstman koopt bij de speelgoedwinkel cadeautjes voor €760. Hij betaalt met alleen briefjes van 100. Hoeveel briefjes moet hij geven?

7 briefjes

9 briefjes

6 briefjes

8 briefjes

**N.** De arrenslee van de Kerstman maakt een tocht van 27 kilometer. Hoeveel meter is dat?

270.000 meter

2.700 meter

27.000 meter

270 meter

**O.** De bakker verkoopt 6 zakjes met 43 kerstkransjes. Hoeveel kerstkransjes verkoopt de bakker?



264 kerstkransjes

248 kerstkransjes

240 kerstkransjes

258 kerstkransjes

Klaar? Oefen meer verhaaltjessommen op [www.verhaalsommen.nl](http://www.verhaalsommen.nl).



# Antwoorden



Reken de verhaaltjessommen uit.

Omcirkel eerst het goede antwoord.

Geef daarna de letter van de vraag de goede kleur.

Klaar? Speel een rekenspelletje op [www.verhaalsommen.nl](http://www.verhaalsommen.nl).

C	F	F	F	C	C	L	L	F	L	C	L	L	L	C	L	F	C	C
L	L	L	L	C	C	E	I	M	I	I	E	M	L	L	L	F	F	F
F	C	L	C	I	M	M	A	A	E	B	A	M	E	E	F	C	F	L
F	F	L	M	M	H	B	A	A	E	A	N	H	N	M	I	L	C	C
F	L	M	M	N	N	N	B	N	M	B	D	H	N	N	M	M	L	F
L	C	M	N	H	N	B	N	A	I	N	B	B	N	H	N	M	F	C
C	I	E	H	N	D	N	H	N	M	N	H	N	J	N	N	E	E	L
C	I	B	A	B	H	B	A	H	E	H	B	B	N	N	H	N	M	F
L	I	E	I	M	I	E	I	M	E	M	I	M	E	E	I	I	E	L
F	I	B	B	N	N	N	G	B	M	A	B	B	H	A	N	A	M	C
L	M	H	N	H	A	G	G	G	E	N	N	A	N	H	D	N	I	L
F	M	B	J	B	B	H	G	B	I	H	N	D	H	A	N	H	M	F
L	M	N	B	H	A	O	K	O	M	N	N	H	N	H	N	A	I	L
F	M	N	A	B	B	O	K	O	M	B	H	H	A	H	H	N	I	F
L	I	H	A	N	O	O	K	O	M	B	N	B	N	N	J	H	E	L
F	I	J	D	J	O	K	K	O	M	J	J	J	A	H	N	A	M	F
L	E	J	J	O	O	K	K	O	E	K	J	D	J	J	A	A	E	L
F	E	J	J	O	O	K	K	O	M	K	J	D	J	D	J	J	M	C
C	E	J	O	O	O	K	K	O	I	K	O	D	D	D	J	D	I	F
F	E	J	O	K	K	K	K	O	M	K	O	J	J	J	J	D	I	C
L	I	M	E	I	I	E	M	E	E	M	I	M	I	E	I	M	M	L
C	L	F	L	C	F	L	L	C	L	F	F	F	L	C	L	F	L	F