


# VERHAAL



# SOMMEN



Werkboekje van:

---

[www.verhaalsommen.nl](http://www.verhaalsommen.nl)

# Geheime tekening



Reken de verhaaltjessommen uit.

Omcirkel eerst het goede antwoord.

Geef daarna de letter van de vraag de goede kleur.

Klaar? Speel een rekenspelletje op [www.verhaalsommen.nl](http://www.verhaalsommen.nl).

C	F	F	F	C	C	L	L	F	L	C	L	L	L	C	L	F	C	C
L	L	L	L	C	C	E	I	M	I	I	E	M	L	L	L	F	F	F
F	C	L	C	I	M	M	A	A	E	B	A	M	E	E	F	C	F	L
F	F	L	M	M	H	B	A	A	E	A	N	H	N	M	I	L	C	C
F	L	M	M	N	N	N	B	N	M	B	D	H	N	N	M	M	L	F
L	C	M	N	H	N	B	N	A	I	N	B	B	N	H	N	M	F	C
C	I	E	H	N	D	N	H	N	M	N	H	N	J	N	N	E	E	L
C	I	B	A	B	H	B	A	H	E	H	B	B	N	N	H	N	M	F
L	I	E	I	M	I	E	I	M	E	M	I	M	E	E	I	I	E	L
F	I	B	B	N	N	N	G	B	M	A	B	B	H	A	N	A	M	C
L	M	H	N	H	A	G	G	G	E	N	N	A	N	H	D	N	I	L
F	M	B	J	B	B	H	G	B	I	H	N	D	H	A	N	H	M	F
L	M	N	B	H	A	O	K	O	M	N	N	H	N	H	N	A	I	L
F	M	N	A	B	B	O	K	O	M	B	H	H	A	H	H	N	I	F
L	I	H	A	N	O	O	K	O	M	B	N	B	N	N	J	H	E	L
F	I	J	D	J	O	K	K	O	M	J	J	J	A	H	N	A	M	F
L	E	J	J	O	O	K	K	O	E	K	J	D	J	J	A	A	E	L
F	E	J	J	O	O	K	K	O	M	K	J	D	J	D	J	J	M	C
C	E	J	O	O	O	K	K	O	I	K	O	D	D	D	J	D	I	F
F	E	J	O	K	K	K	K	O	M	K	O	J	J	J	J	D	I	C
L	I	M	E	I	I	E	M	E	E	M	I	M	I	E	I	M	M	L
C	L	F	L	C	F	L	L	C	L	F	F	F	L	C	L	F	L	F

# Verhaaltjessommen

**A.** Er zijn 22 kerstballen. De helft van de kerstballen valt kapot.  
Hoeveel kerstballen zijn er kapot gevallen?

12 kerstballen

11 kerstballen

42 kerstballen

44 kerstballen

**B.** In de kerstboom hangen 12 rode, 3 groene en 4 blauwe kerstballen.  
Hoeveel kerstballen hangen er in de kerstboom?

17 kerstballen

18 kerstballen

19 kerstballen

20 kerstballen

**C.** Onder de kerstboom liggen 18 pakjes. Bas en Max verdelen de pakjes eerlijk.  
Hoeveel pakjes krijgt ieder?

7 pakjes

8 pakjes

9 pakjes

10 pakjes

**D.** Jet koopt 20 pakjes voor haar moeder en 13 voor haar vader.  
Hoeveel pakjes koopt Jet in totaal?

23 pakjes

30 pakjes

32 pakjes

33 pakjes

**E.** De Kerstman heeft 24 rendieren. Hij zet ze in 2 rijen.  
Hoeveel rendieren komen er in iedere rij?

12 rendieren

11 rendieren

26 rendieren

14 rendieren

**F.** Het is nu 2 uur. Om half 3 vertrekt de slee.  
Over hoeveel minuten vertrekt de slee?

10 minuten

15 minuten

30 minuten

60 minuten

Klaar? Oefen meer verhaaltjessommen op [www.verhaalsommen.nl](http://www.verhaalsommen.nl).

# Verhaaltjessommen

**G.** Tom heeft 20 snoepjes. Jaap heeft er 12.  
Hoeveel snoepjes heeft Tom er meer dan Jaap?

8 snoepjes

7 snoepjes

32 snoepjes

28 snoepjes

**H.** In één zak passen 10 pakjes. De Kerstman heeft 6 zakken.  
Hoeveel pakjes heeft de Kerstman?

16 pakjes

60 pakjes

66 pakjes

106 pakjes

**I.** De Kerstman gaat bij 42 huizen langs. Hij heeft al 37 huizen gehad.  
Bij hoeveel huizen gaat de Kerstman nog langs?

12 huizen

3 huizen

7 huizen

5 huizen

**J.** Één kerstbal kost 4 euro. Nora koopt 6 kerstballen.  
Hoeveel euro moet Nora betalen?

18 euro

24 euro

10 euro

26 euro

**K.** Op dinsdag zegt Kim: 'Over 7 nachtjes is het Kerstmis'.  
Op welke dag is het Kerstmis?

zondag

maandag

dinsdag

woensdag

**L.** Anna en Klaas hebben samen 46 pakjes. Anna heeft er 10.  
Hoeveel pakjes heeft Klaas?

36 pakjes

63 pakjes

56 pakjes

65 pakjes

Klaar? Oefen meer verhaaltjessommen op [www.verhaalsommen.nl](http://www.verhaalsommen.nl).

# Verhaaltjessommen

**M.** Ted bakt 30 kerstkoekjes. Hij doet er steeds 3 in een zak.  
Hoeveel zakjes kan hij vullen?

13 zakjes

33 zakjes

9 zakjes

10 zakjes

**N.** De Kerstman heeft 24 rendieren. Hij verdeelt ze in groepjes van 8.  
Hoeveel groepjes kan hij maken?

5 groepjes

4 groepjes

3 groepjes

2 groepjes

**O.** In iedere kerstboom hangen 7 kerstballen.  
Hoeveel kerstballen hangen er in 3 kerstbomen?



11 kerstballen

14 kerstballen

20 kerstballen

21 kerstballen

Klaar? Oefen meer verhaaltjessommen op [www.verhaalsommen.nl](http://www.verhaalsommen.nl).



# Antwoorden



Reken de verhaaltjessommen uit.

Omcirkel eerst het goede antwoord.

Geef daarna de letter van de vraag de goede kleur.

Klaar? Speel een rekenspelletje op [www.verhaalsommen.nl](http://www.verhaalsommen.nl).

C	F	F	F	C	C	L	L	F	L	C	L	L	L	C	L	F	C	C
L	L	L	L	C	C	E	I	M	I	I	E	M	L	L	L	F	F	F
F	C	L	C	I	M	M	A	A	E	B	A	M	E	E	F	C	F	L
F	F	L	M	M	H	B	A	A	E	A	N	H	N	M	I	L	C	C
F	L	M	M	N	N	N	B	N	M	B	D	H	N	N	M	M	L	F
L	C	M	N	H	N	B	N	A	I	N	B	B	N	H	N	M	F	C
C	I	E	H	N	D	N	H	N	M	N	H	N	J	N	N	E	E	L
C	I	B	A	B	H	B	A	H	E	H	B	B	N	N	H	N	M	F
L	I	E	I	M	I	E	I	M	E	M	I	M	E	E	I	I	E	L
F	I	B	B	N	N	N	G	B	M	A	B	B	H	A	N	A	M	C
L	M	H	N	H	A	G	G	G	E	N	N	A	N	H	D	N	I	L
F	M	B	J	B	B	H	G	B	I	H	N	D	H	A	N	H	M	F
L	M	N	B	H	A	O	K	O	M	N	N	H	N	H	N	A	I	L
F	M	N	A	B	B	O	K	O	M	B	H	H	A	H	H	N	I	F
L	I	H	A	N	O	O	K	O	M	B	N	B	N	N	J	H	E	L
F	I	J	D	J	O	K	K	O	M	J	J	J	A	H	N	A	M	F
L	E	J	J	O	O	K	K	O	E	K	J	D	J	J	A	A	E	L
F	E	J	J	O	O	K	K	O	M	K	J	D	J	D	J	J	M	C
C	E	J	O	O	O	K	K	O	I	K	O	D	D	D	J	D	I	F
F	E	J	O	K	K	K	K	O	M	K	O	J	J	J	J	D	I	C
L	I	M	E	I	I	E	M	E	E	M	I	M	I	E	I	M	M	L
C	L	F	L	C	F	L	L	C	L	F	F	F	L	C	L	F	L	F