

# VERHAAL

# SOMMEN



Werkboekje van:

---

# Plussommen

Reken de sommen uit.



$40 + 5 =$

$34 + 8 =$

$41 + 7 =$

$36 + 8 =$

$95 + 3 =$

$36 + 3 =$

$73 + 2 =$

$67 + 7 =$

$13 + 9 =$

$44 + 4 =$

$55 + 3 =$

$63 + 7 =$

$18 + 5 =$

$61 + 8 =$

$77 + 8 =$

$54 + 6 =$

$41 + 7 =$

$59 + 3 =$

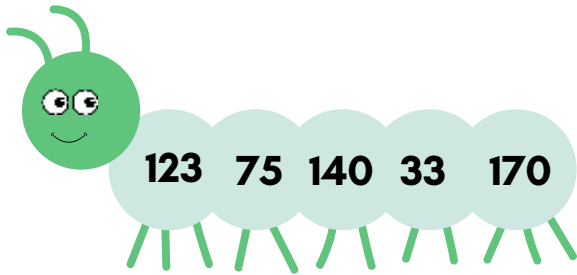
$49 + 6 =$

$66 + 8 =$

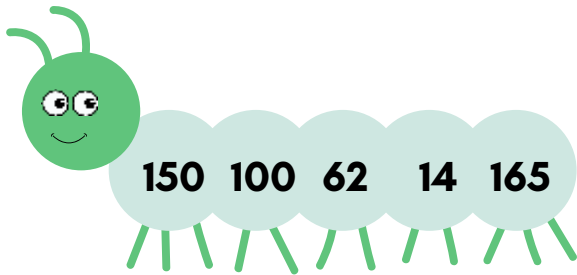
$38 + 6 =$

# Van klein naar groot

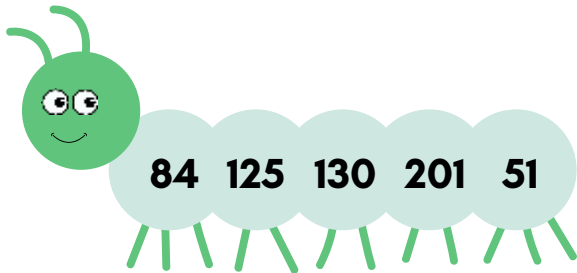
Schrijf de getallen van klein naar groot.



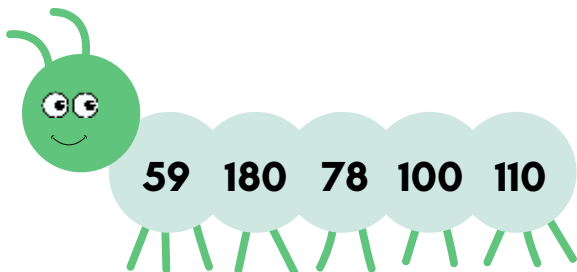
--	--	--	--	--



--	--	--	--	--




--	--	--	--	--



--	--	--	--	--

# Verhaaltjessommen

1. Sem koopt 7 ballen.  
Een bal kost 4 euro.  
Hoeveel euro moet Sem betalen?




\_\_\_\_\_ euro

2. Op de boot zitten 125 mensen. Er stappen 15 mensen uit. Hoeveel mensen zitten er nog op de boot?

\_\_\_\_\_ mensen

3. Loek plukt rozen.  
Eerst plukt hij er 76 en daarna 18.  
Hoeveel rozen zijn dat samen?




\_\_\_\_\_ rozen

4. In de groepen 5 zitten 48 kinderen. De helft van de kinderen is een jongen. Hoeveel jongens zitten er in de groepen 5?

\_\_\_\_\_ jongens

5. 4 kinderen verdelen 32 snoepjes eerlijk.  
Hoeveel snoepjes krijgt ieder kind?




\_\_\_\_\_ snoepjes

Klaar? Oefen meer verhaaltjessommen en speel rekenspelletjes op [www.verhaalsommen.nl](http://www.verhaalsommen.nl).

# Teken het verhaal

Bedenk een verhaal bij de som en reken de som uit.  
Je mag het verhaal tekenen of schrijven.

$$7 \times 5 =$$



$$8 \times 3 =$$



$$5 \times 9 =$$




$$9 \times 3 =$$



# Reken uit

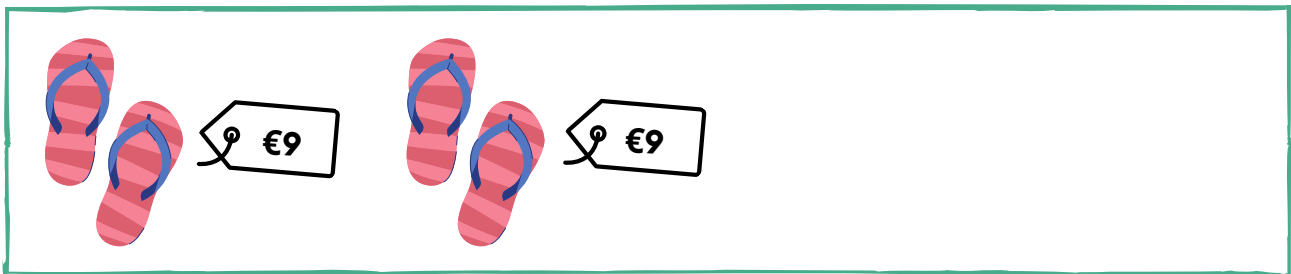
Hoeveel euro kost het samen?

Schrijf de keersom en het antwoord op.



Keersom:  $3 \times 2 =$  \_\_\_\_\_

Antwoord: \_\_\_\_\_ euro



Keersom: \_\_\_\_\_

Antwoord: \_\_\_\_\_ euro




Keersom: \_\_\_\_\_

Antwoord: \_\_\_\_\_ euro

# Reken uit



Hoeveel euro kost het samen?



Keersom: \_\_\_\_\_

Antwoord: \_\_\_\_\_ euro



Keersom: \_\_\_\_\_

Antwoord: \_\_\_\_\_ euro



Keersom: \_\_\_\_\_

Antwoord: \_\_\_\_\_ euro

# Rekendoolhof

Flip wil een ijsje. Kun jij Flip naar het ijsje brengen? In het doolhof mag je alleen stappen van 6 maken. Je mag  $\leftrightarrow$   $\updownarrow$




30	24	36	60	48	12	6	54	18	42
48	54	6	30	42	60	12	18	24	36
12	60	6	42	54	24	18	30	36	48
18	24	12	42	36	30	60	6	48	54
30	6	54	48	12	36	18	60	42	24
6	12	60	42	54	18	24	36	48	30





# Vleksommen

Flip heeft inkt geknoeid.  
Reken de sommen uit.



$$5 + \text{orange splat} = 50$$

$$30 = \text{green splat} + 8$$

$$5 + \text{light green splat} = 25$$

$$40 = \text{orange splat} + 15$$

$$6 + \text{orange splat} = 18$$

$$30 = \text{green splat} + 7$$

Klaar? Oefen meer verhaaltjessommen en speel rekenspelletjes op [www.verhaalsommen.nl](http://www.verhaalsommen.nl).


# Verhaaltjessommen

Lees de verhaaltjes en reken uit.

Maak een tekening bij de som of schrijf de som op.


1. Janna verdeelt 18 kralen over 3 armbanden.

Hoeveel kralen zitten er aan iedere armband? \_\_\_\_\_ kralen



2. Drie kinderen verdelen 21 euro eerlijk.


Hoeveel euro krijgt ieder kind? \_\_\_\_\_ euro



3. Saar heeft 32 rozen.

Ze maakt bosjes van 8 rozen.

Hoeveel bosjes kan Saar maken? \_\_\_\_\_ bosjes



# Keersommen

Reken de keersommen uit.



$3 \times 2 =$

$6 \times 4 =$

$7 \times 7 =$

$4 \times 3 =$

$2 \times 9 =$

$8 \times 7 =$

$8 \times 4 =$

$9 \times 7 =$

$2 \times 6 =$

$5 \times 9 =$

$6 \times 9 =$

$8 \times 2 =$

$6 \times 6 =$

$5 \times 8 =$

$3 \times 7 =$

$7 \times 2 =$

$6 \times 7 =$

$6 \times 8 =$


$9 \times 3 =$

$4 \times 4 =$

$9 \times 9 =$

# Vleksommen

Flip heeft inkt geknoeid.  
Reken de sommen uit.



$$25 - \text{ink} = 8$$

$$90 - \text{ink} = 40$$

$$60 - \text{ink} = 24$$

$$75 - \text{ink} = 45$$

$$46 - \text{ink} = 6$$

$$38 - \text{ink} = 24$$

Klaar? Oefen meer verhaaltjessommen en speel rekenspelletjes op [www.verhaalsommen.nl](http://www.verhaalsommen.nl).

# Verhaaltjessommen

1. Een bril kost 8 euro.

Roos koopt 6 brillen.

Hoeveel euro moet Roos betalen?



\_\_\_\_\_ euro

2. Koos heeft 48 ijsjes. Er smelten 35 ijsjes.

Hoeveel ijsjes heeft Koos over?

\_\_\_\_\_ ijsjes

3. Ali maakt 56 foto's.

Later maakt hij er nog er nog 27.

Hoeveel foto's heeft Ali gemaakt?



**56**



**27**

\_\_\_\_\_ foto's

4. Jaap heeft 86 euro. Hij koopt een zwemband van 16 euro en slippers van 28 euro. Hoeveel euro houdt Jaap over?

\_\_\_\_\_ euro

5. Het is nu 3 uur

Over 4 uur vertrekt het vliegtuig.

Hoe laat vertrekt het vliegtuig?



\_\_\_\_\_ uur

Klaar? Oefen meer verhaaltjessommen en speel rekenspelletjes op [www.verhaalsommen.nl](http://www.verhaalsommen.nl).

