

VERHAAL

SOMMEN



Werkboekje van:

Plussommen

Reken de sommen uit.



$6 + 5 =$

$4 + 8 =$

$13 + 3 =$

$8 + 8 =$

$9 + 3 =$

$3 + 3 =$

$3 + 2 =$

$6 + 7 =$

$13 + 3 =$

$4 + 4 =$

$9 + 3 =$

$13 + 7 =$

$8 + 5 =$

$3 + 8 =$

$7 + 8 =$

$1 + 12 =$

$4 + 7 =$

$5 + 3 =$

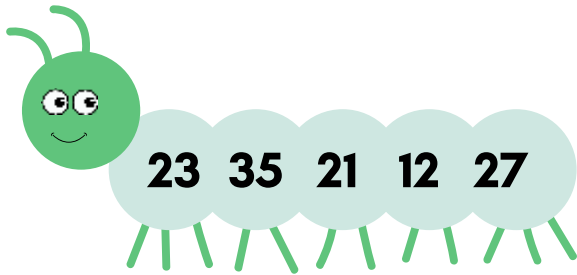
$9 + 6 =$

$6 + 8 =$

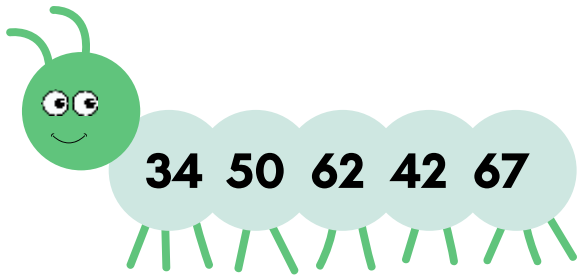
$11 + 6 =$

Van klein naar groot

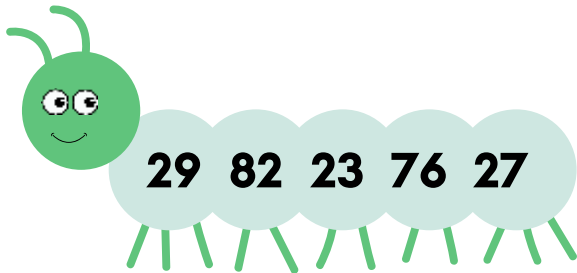
Schrijf de getallen van klein naar groot.



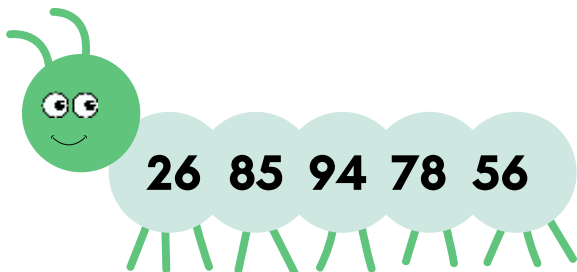
--	--	--	--	--



--	--	--	--	--




--	--	--	--	--



--	--	--	--	--

Verhaaltjessommen

1. Sem koopt 2 ballen.
Een bal kost 4 euro.
Hoeveel euro moet Sem betalen?




_____ euro

2. Op de boot zitten 12 mensen. Er stappen 5 mensen uit.
Hoeveel mensen zitten er nog op de boot?

_____ mensen

3. Loek plukt rozen.
Eerst plukt hij er 7 en daarna 12.
Hoeveel rozen zijn dat samen?




_____ rozen

4. In een klas zitten 20 kinderen. De helft van de kinderen is een jongen. Hoeveel jongens zitten er in de klas?

_____ jongens

5. 2 kinderen verdelen 6 snoepjes eerlijk.
Hoeveel snoepjes krijgt ieder kind?



_____ snoepjes

Klaar? Oefen meer verhaaltjessommen en speel rekenspelletjes op **www.verhaalsommen.nl**.

Teken het verhaal

Bedenk een verhaal bij de som en reken de som uit.
Je mag het verhaal tekenen of schrijven.

$$7 + 4 =$$

$$13 - 9 =$$


$$5 + 9 =$$

$$15 - 6 =$$

Reken uit

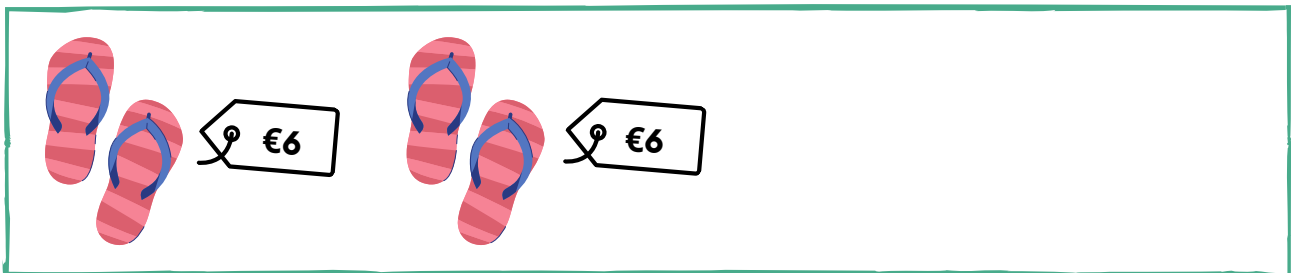


Hoeveel euro kost het samen?



Som: $2 + 2 + 2 =$ _____

Antwoord: _____ euro



Som: _____

Antwoord: _____ euro




Som: _____

Antwoord: _____ euro

Reken uit



Hoeveel euro kost het samen?



Som: _____

Antwoord: _____ euro



Som: _____

Antwoord: _____ euro



Som: _____

Antwoord: _____ euro

Rekendoolhof

Flip wil een ijsje. Kun jij Flip naar het ijsje brengen? In het doolhof mag je alleen stappen van 4 maken. Je mag \leftrightarrow \updownarrow




0	4	8	12	15	19	23
4	8	12	16	19	23	27
7	12	16	4	8	12	31
11	15	20	23	36	16	35
15	28	24	28	32	20	24
36	32	36	40	44	24	28
47	44	40	43	48	28	40



Vleksommen

Flip heeft inkt geknoeid.
Reken de sommen uit.



$$5 + \text{vlek} = 10$$

$$10 = \text{vlek} + 8$$

$$5 + \text{vlek} = 13$$

$$13 = \text{vlek} + 5$$

$$6 + \text{vlek} = 8$$

$$20 = \text{vlek} + 5$$

Klaar? Oefen meer verhaaltjessommen en speel rekenspelletjes op www.verhaalsommen.nl.

Verhaaltjessommen


Lees de verhaaltjes en reken de som uit.

Maak een tekening bij de som of schrijf de som op.

1. Flip heeft 8 knikkers.

Hij koopt er nog 4 bij.


Hoeveel knikkers heeft Flip? _____ knikkers



2. Mees heeft 10 euro.

Hij krijgt nog 6 euro.

Hoeveel euro heeft Mees totaal? _____ euro



3. Saar bouwt een toren van 14 blokken.

Ze heeft al 8 blokken staan.

Hoeveel blokken heeft Saar nog nodig? _____ blokken



Minsommen

Reken de sommen uit.



$8 - 4 =$

$14 - 5 =$

$13 - 8 =$

$17 - 4 =$

$10 - 9 =$

$11 - 7 =$

$12 - 5 =$

$16 - 15 =$

$9 - 6 =$

$13 - 9 =$

$19 - 4 =$

$14 - 7 =$

$17 - 7 =$

$13 - 8 =$

$15 - 5 =$

$11 - 2 =$

$19 - 6 =$

$19 - 6 =$

$9 - 4 =$

$10 - 4 =$

$20 - 13 =$

Vleksommen

Flip heeft inkt geknoeid.
Reken de sommen uit.



$$15 - \text{[orange ink splat]} = 8$$

$$9 - \text{[green ink splat]} = 4$$

$$9 - \text{[light blue ink splat]} = 3$$

$$13 - \text{[orange ink splat]} = 5$$

$$16 - \text{[orange ink splat]} = 6$$

$$18 - \text{[green ink splat]} = 9$$

Klaar? Oefen meer verhaaltjessommen en speel rekenspelletjes op www.verhaalsommen.nl.

Verhaaltjessommen

1. Een bril kost 8 euro.

Roos koopt 2 brillen.

Hoeveel euro moet Roos betalen?



_____ euro

2. Koos heeft 18 ijsjes. Er smelten 10 ijsjes.

Hoeveel ijsjes heeft Koos over?

_____ ijsjes

3. Ali maakt 20 foto's.

Later maakt hij er nog er nog 6.

Hoeveel foto's heeft Ali gemaakt?



20



6

_____ foto's

4. Jaap heeft 15 euro. Hij koopt een zwemband van 6 euro.

Hoeveel euro houdt Jaap over?

_____ euro

5. Het is nu 3 uur

Over één uur vertrekt het vliegtuig.

Hoe laat vertrekt het vliegtuig?



_____ uur

Klaar? Oefen meer verhaaltjessommen en speel rekenspelletjes op www.verhaalsommen.nl.

